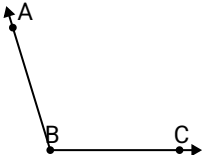




Löse jede Aufgabe.

Antworten

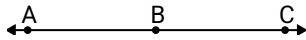
1)



Durch welche
Möglichkeit wird $\angle ABC$
dargestellt?

- A. 14°
- B. 151°
- C. 38°
- D. 107°

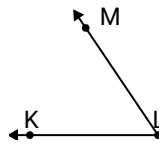
2)



Durch welche
Möglichkeit wird $\angle ABC$
dargestellt?

- A. 73°
- B. 25°
- C. 46°
- D. 180°

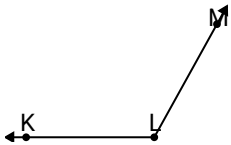
3)



Durch welche
Möglichkeit wird $\angle KLM$
dargestellt?

- A. 33°
- B. 2°
- C. 56°
- D. 79°

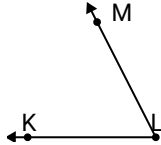
4)



Durch welche
Möglichkeit wird $\angle KLM$
dargestellt?

- A. 65°
- B. 156°
- C. 16°
- D. 119°

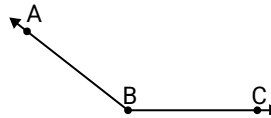
5)



Durch welche
Möglichkeit wird $\angle KLM$
dargestellt?

- A. 2°
- B. 108°
- C. 169°
- D. 63°

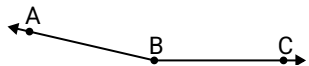
6)



Durch welche
Möglichkeit wird $\angle ABC$
dargestellt?

- A. 63°
- B. 17°
- C. 103°
- D. 142°

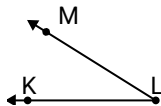
7)



Durch welche
Möglichkeit wird $\angle ABC$
dargestellt?

- A. 65°
- B. 167°
- C. 95°
- D. 20°

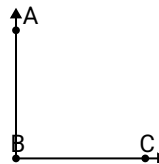
8)



Durch welche
Möglichkeit wird $\angle KLM$
dargestellt?

- A. 94°
- B. 53°
- C. 139°
- D. 32°

9)



Durch welche
Möglichkeit wird $\angle ABC$
dargestellt?

- A. 39°
- B. 67°
- C. 178°
- D. 90°

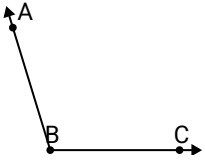
1. _____
2. _____
3. _____
4. _____
5. _____
6. _____
7. _____
8. _____
9. _____



Löse jede Aufgabe.

Antworten

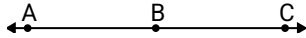
1)



Durch welche
Möglichkeit wird $\angle ABC$
dargestellt?

- A. 14°
- B. 151°
- C. 38°
- D. 107°

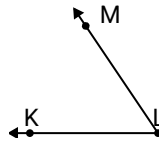
2)



Durch welche
Möglichkeit wird $\angle ABC$
dargestellt?

- A. 73°
- B. 25°
- C. 46°
- D. 180°

3)

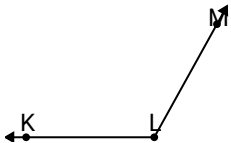


Durch welche
Möglichkeit wird $\angle KLM$
dargestellt?

- A. 33°
- B. 2°
- C. 56°
- D. 79°

1. **D**2. **D**3. **C**4. **D**5. **D**6. **D**7. **B**8. **D**9. **D**

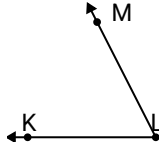
4)



Durch welche
Möglichkeit wird $\angle KLM$
dargestellt?

- A. 65°
- B. 156°
- C. 16°
- D. 119°

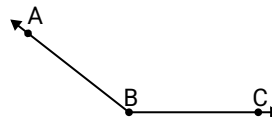
5)



Durch welche
Möglichkeit wird $\angle KLM$
dargestellt?

- A. 2°
- B. 108°
- C. 169°
- D. 63°

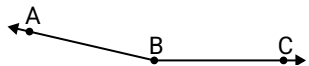
6)



Durch welche
Möglichkeit wird $\angle ABC$
dargestellt?

- A. 63°
- B. 17°
- C. 103°
- D. 142°

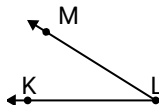
7)



Durch welche
Möglichkeit wird $\angle ABC$
dargestellt?

- A. 65°
- B. 167°
- C. 95°
- D. 20°

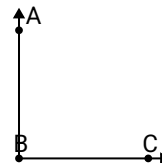
8)



Durch welche
Möglichkeit wird $\angle KLM$
dargestellt?

- A. 94°
- B. 53°
- C. 139°
- D. 32°

9)



Durch welche
Möglichkeit wird $\angle ABC$
dargestellt?

- A. 39°
- B. 67°
- C. 178°
- D. 90°