




Schaue dir die Gruppen an um jede Frage zu beantworten.

**Antworten**

- 1) a. Wie viele Gruppen von 100 gibt es?  
 b. Wie viele kleine Blöcke gibt es insgesamt?

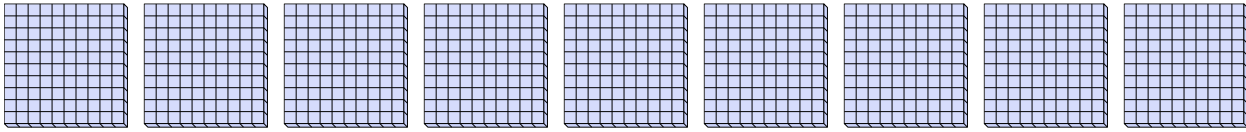


1. \_\_\_\_

2. \_\_\_\_

3. \_\_\_\_

- 2) a. Wie viele Gruppen von 100 gibt es?  
 b. Wie viele kleine Blöcke gibt es insgesamt?

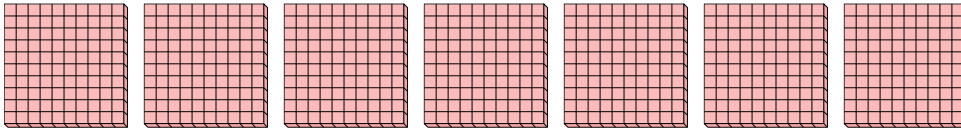


4. \_\_\_\_

5. \_\_\_\_

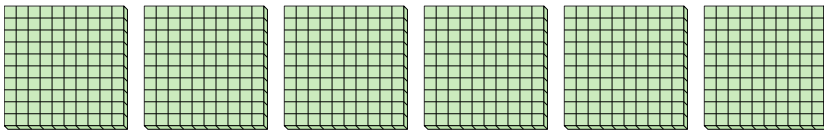
6. \_\_\_\_

- 3) a. Wie viele Gruppen von 100 gibt es?  
 b. Wie viele kleine Blöcke gibt es insgesamt?

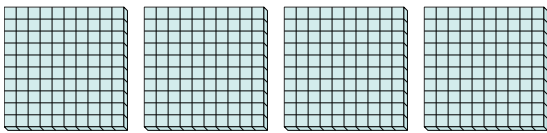


7. \_\_\_\_

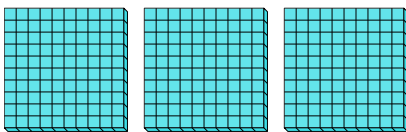
- 4) a. Wie viele Gruppen von 100 gibt es?  
 b. Wie viele kleine Blöcke gibt es insgesamt?



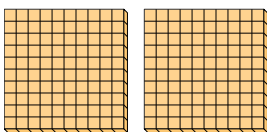
- 5) a. Wie viele Gruppen von 100 gibt es?  
 b. Wie viele kleine Blöcke gibt es insgesamt?



- 6) a. Wie viele Gruppen von 100 gibt es?  
 b. Wie viele kleine Blöcke gibt es insgesamt?



- 7) a. Wie viele Gruppen von 100 gibt es?  
 b. Wie viele kleine Blöcke gibt es insgesamt?

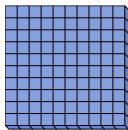





Schaue dir die Gruppen an um jede Frage zu beantworten.

**Antworten**


- 1) a. Wie viele Gruppen von 100 gibt es?  
b. Wie viele kleine Blöcke gibt es insgesamt?

1. 1 100

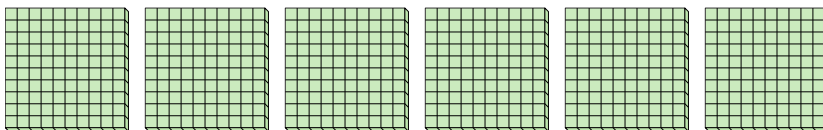
- 2) a. Wie viele Gruppen von 100 gibt es?  
b. Wie viele kleine Blöcke gibt es insgesamt?

2. 9 9003. 7 7004. 6 6005. 4 4006. 3 300

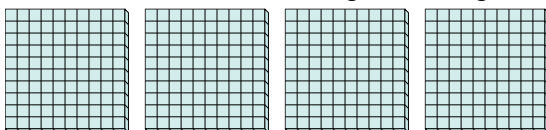
- 3) a. Wie viele Gruppen von 100 gibt es?  
b. Wie viele kleine Blöcke gibt es insgesamt?

7. 2 200

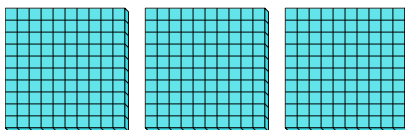
- 4) a. Wie viele Gruppen von 100 gibt es?  
b. Wie viele kleine Blöcke gibt es insgesamt?



- 5) a. Wie viele Gruppen von 100 gibt es?  
b. Wie viele kleine Blöcke gibt es insgesamt?



- 6) a. Wie viele Gruppen von 100 gibt es?  
b. Wie viele kleine Blöcke gibt es insgesamt?



- 7) a. Wie viele Gruppen von 100 gibt es?  
b. Wie viele kleine Blöcke gibt es insgesamt?

