





Vergleiche die Anzahl der Formen.

Antworten



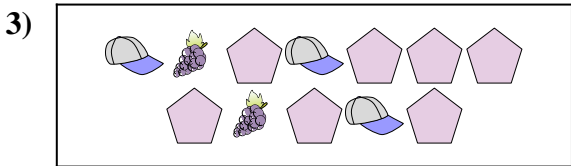
Gibt es mehr oder mehr ?

- A.
- B.



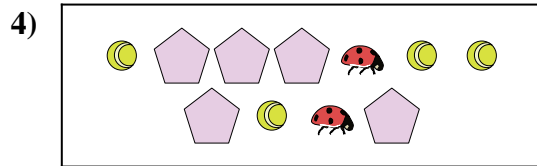
Gibt es weniger oder weniger ?

- A.
- B.



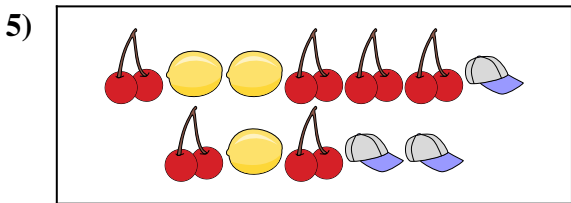
Gibt es weniger oder weniger ?

- A.
- B.




Gibt es mehr oder mehr ?

- A.
- B.



Gibt es weniger oder weniger ?

- A.
- B.



Gibt es mehr oder mehr ?


- A.
- B.

- 1. \_\_\_\_\_
- 2. \_\_\_\_\_
- 3. \_\_\_\_\_
- 4. \_\_\_\_\_
- 5. \_\_\_\_\_
- 6. \_\_\_\_\_




Vergleiche die Anzahl der Formen.

Antworten



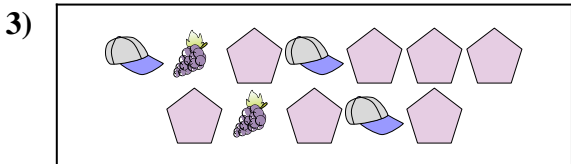
Gibt es mehr oder mehr ?

- A.
- B.



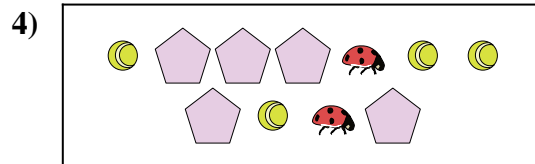
Gibt es weniger oder weniger ?

- A.
- B.



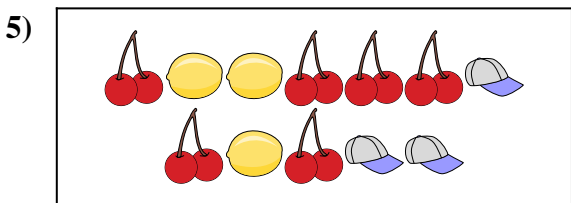
Gibt es weniger oder weniger ?

- A.
- B.



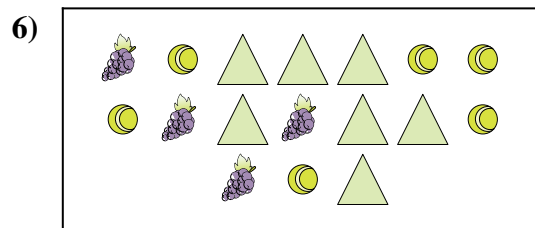
Gibt es mehr oder mehr ?

- A.
- B.



Gibt es weniger oder weniger ?

- A.
- B.



Gibt es mehr oder mehr ?

- A.
- B.

- 1.   **A**
- 2.   **A**
- 3.   **B**
- 4.   **B**
- 5.   **B**
- 6.   **B**