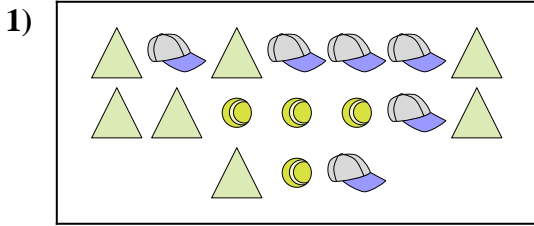





Vergleiche die Anzahl der Formen.

Antworten




Gibt es mehr oder mehr ?

- A.
- B.



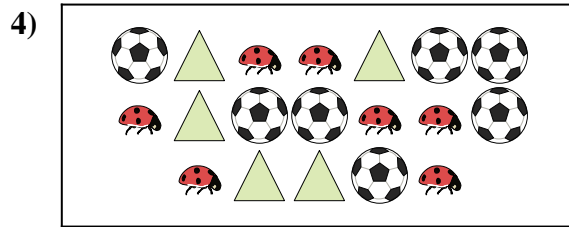
Gibt es weniger oder weniger ?

- A.
- B.



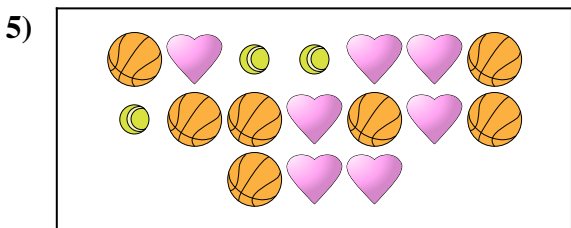
Gibt es weniger oder weniger ?

- A.
- B.




Gibt es weniger oder weniger ?

- A.
- B.



Gibt es weniger oder weniger ?

- A.
- B.



Gibt es weniger oder weniger ?

- A.
- B.

1. _____

2. _____

3. _____

4. _____

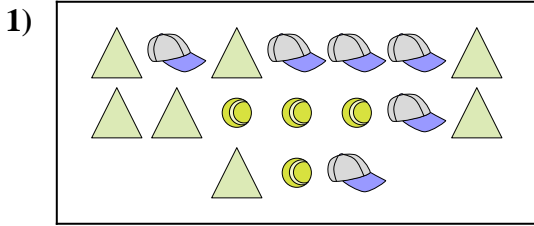
5. _____

6. _____




Vergleiche die Anzahl der Formen.

Antworten




Gibt es mehr oder mehr ?

- A.
- B.



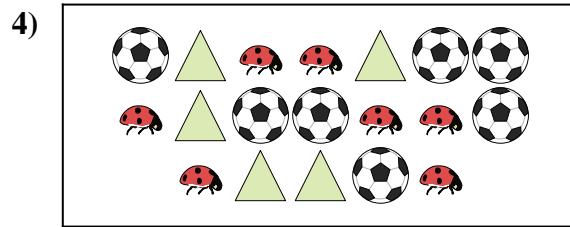
Gibt es weniger oder weniger ?

- A.
- B.



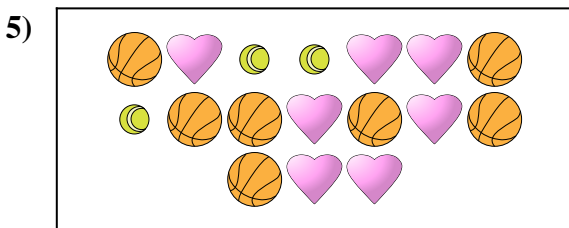
Gibt es weniger oder weniger ?

- A.
- B.




Gibt es weniger oder weniger ?

- A.
- B.



Gibt es weniger oder weniger ?

- A.
- B.



Gibt es weniger oder weniger ?

- A.
- B.

- 1. A
- 2. A
- 3. A
- 4. A
- 5. A
- 6. A