




Vergleiche die Anzahl der Formen.

Antworten

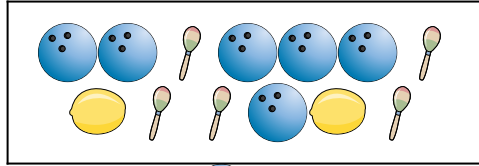
1)





Gibt es mehr  oder mehr  ?

- A. 
B. 

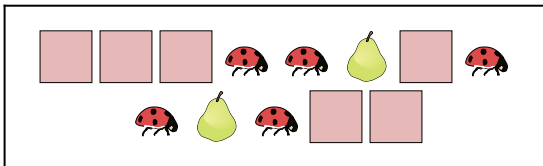
2)





Gibt es mehr  oder mehr  ?

- A. 
B. 

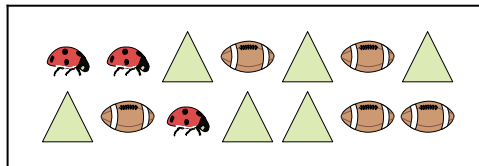
3)





Gibt es weniger  oder weniger  ?

- A. 
B. 

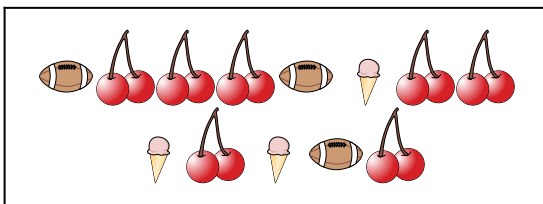
4)





Gibt es mehr  oder mehr  ?

- A. 
B. 

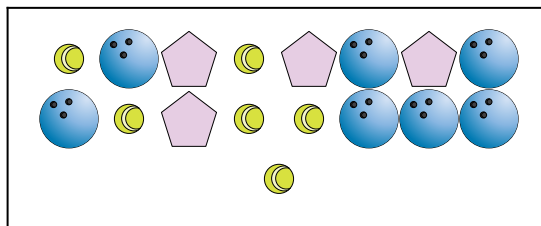
5)







Gibt es weniger  oder weniger  ?

- A. 
B. 

6)



Gibt es weniger  oder weniger  ?

- A. 
B. 


1. _____
2. _____
3. _____
4. _____
5. _____
6. _____



Vergleiche die Anzahl der Formen.

Antworten

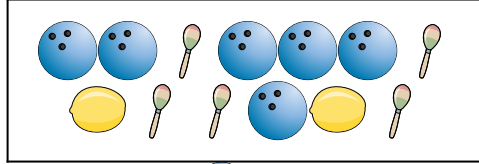
1)





Gibt es mehr  oder mehr  ?

- A. 
B. 

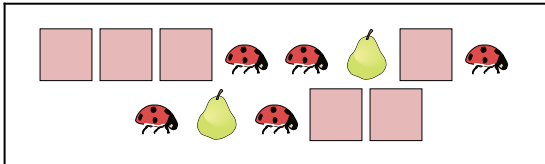
2)





Gibt es mehr  oder mehr  ?

- A. 
B. 

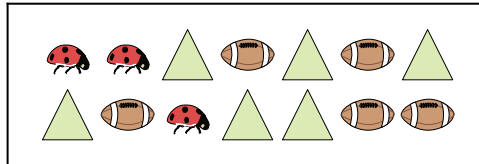
3)




Gibt es weniger  oder weniger  ?

- A. 
B. 

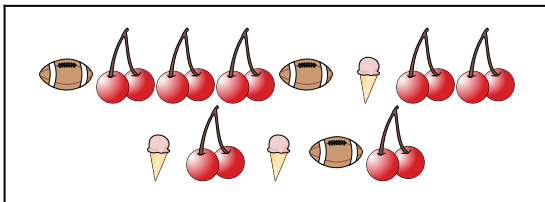
4)





Gibt es mehr  oder mehr  ?

- A. 
B. 

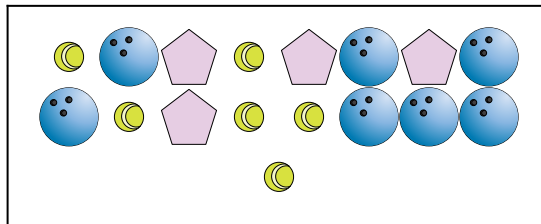
5)







Gibt es weniger  oder weniger  ?

- A. 
B. 

6)



Gibt es weniger  oder weniger  ?

- A. 
B. 

1. **B**
2. **A**
3. **B**
4. **A**
5. **B**
6. **A**