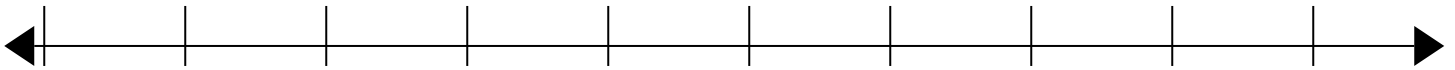


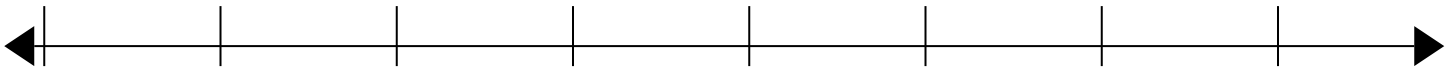


Fülle die Lücken auf dem Zahlenstrahl auf. Der Zahlenstrahl wächst mit jedem Strich um eine Einheit.

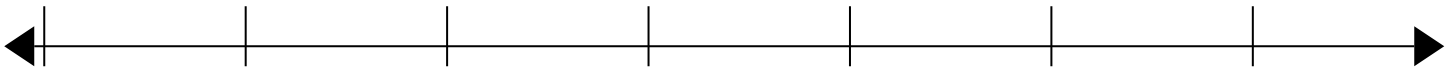
1) 82



2) 76



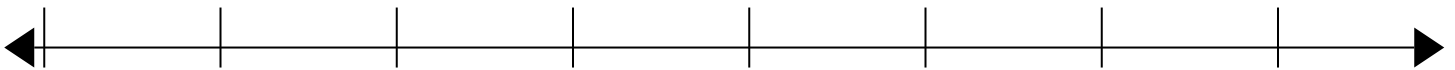
3) 79




4) 33




5) 44



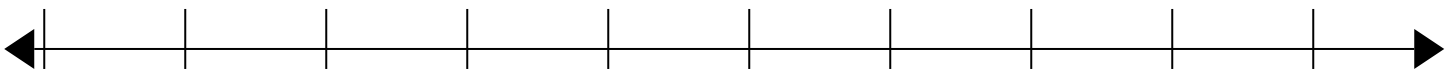
6) 62



7) 51



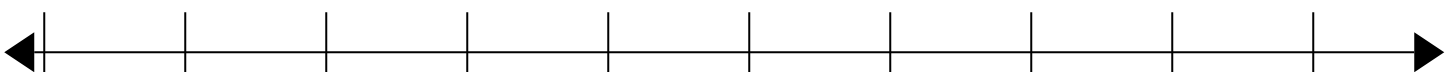
8) 16



9) 11



10) 61





Fülle die Lücken auf dem Zahlenstrahl auf. Der Zahlenstrahl wächst mit jedem Strich um eine Einheit.

