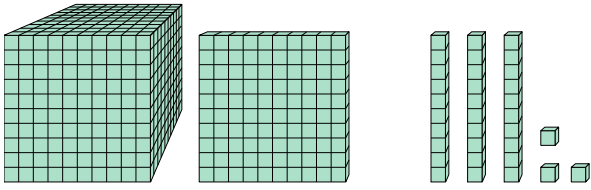




Löse jede Aufgabe.

**Antworten**

1)



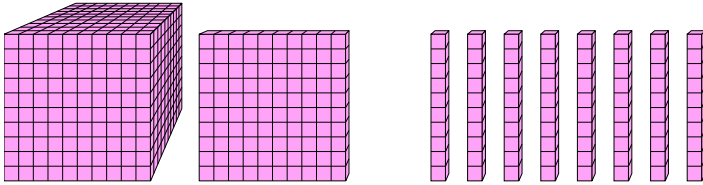
Welche Ziffer ist in der hundertn-Stelle in der obigen Zahl?

1. \_\_\_\_\_

2. \_\_\_\_\_

3. \_\_\_\_\_

2)



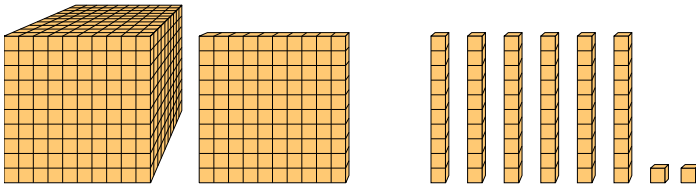
Welche Ziffer ist in der einern-Stelle in der obigen Zahl?

4. \_\_\_\_\_

5. \_\_\_\_\_

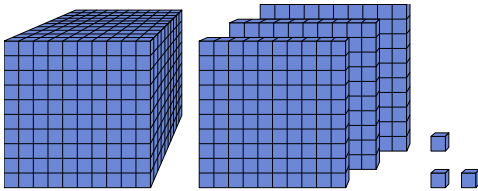
6. \_\_\_\_\_

3)



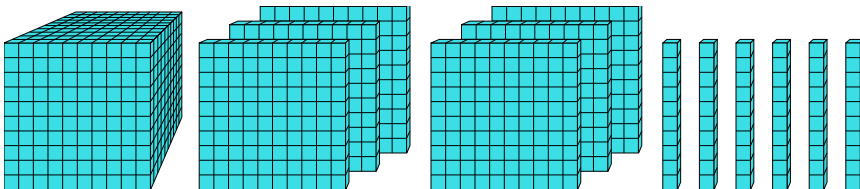
Welche Ziffer ist in der billions-Stelle in der obigen Zahl?

4)



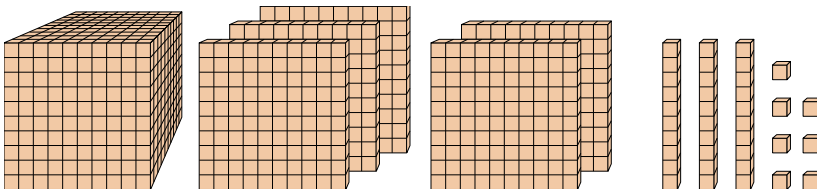
Welche Ziffer ist in der zehnern-Stelle in der obigen Zahl?

5)



Welche Ziffer ist in der billions-Stelle in der obigen Zahl?

6)



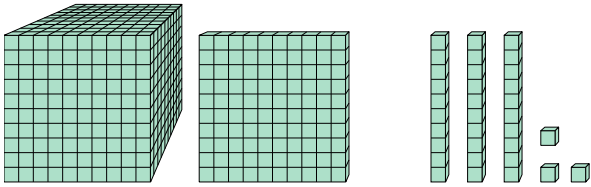
Welche Ziffer ist in der zehnern-Stelle in der obigen Zahl?



Löse jede Aufgabe.

**Antworten**

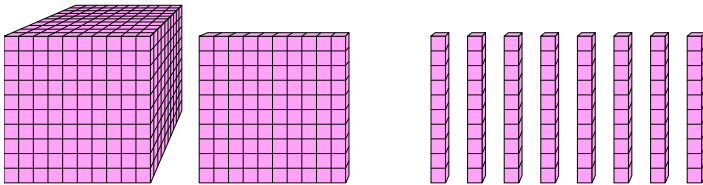
1)



Welche Ziffer ist in der hundertn-Stelle in der obigen Zahl?

1. 1

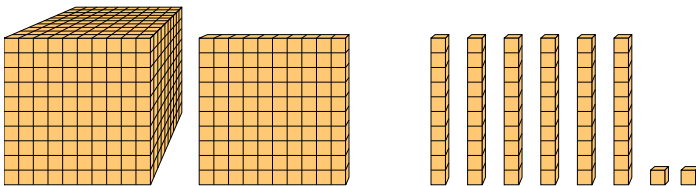
2)



Welche Ziffer ist in der einern-Stelle in der obigen Zahl?

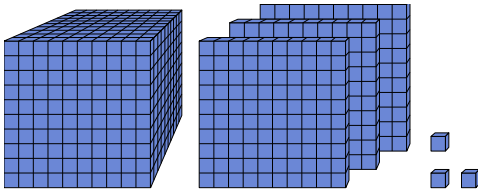
2. 03. 14. 05. 66. 3

3)



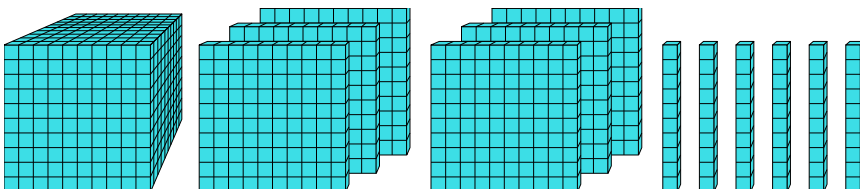
Welche Ziffer ist in der billions-Stelle in der obigen Zahl?

4)



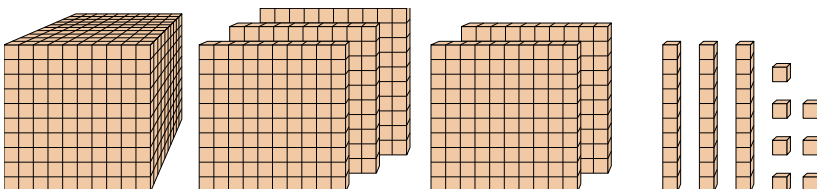
Welche Ziffer ist in der zehnern-Stelle in der obigen Zahl?

5)



Welche Ziffer ist in der billions-Stelle in der obigen Zahl?

6)



Welche Ziffer ist in der zehnern-Stelle in der obigen Zahl?