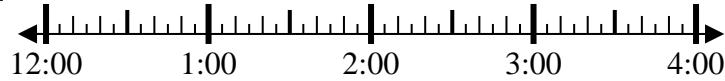


**Löse jede Aufgabe.****Antworten**

1) Beginn: \_\_\_\_\_

Elapsed: 1 Std. und 35 Min.

Ende: 1:50

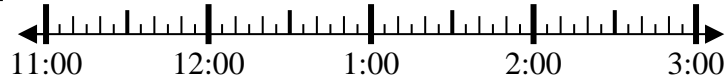


1. \_\_\_\_\_

2) Beginn: \_\_\_\_\_

Elapsed: 1 Std. und 25 Min.

Ende: 12:55

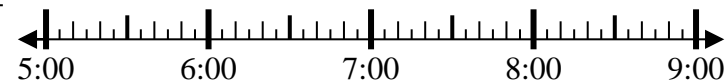


2. \_\_\_\_\_

3) Beginn: \_\_\_\_\_

Elapsed: 1 Std. und 35 Min.

Ende: 6:45



3. \_\_\_\_\_

4) Beginn: \_\_\_\_\_

Elapsed: 1 Std. und 10 Min.

Ende: 12:10



4. \_\_\_\_\_

5) Beginn: \_\_\_\_\_

Elapsed: 1 Std. und 10 Min.

Ende: 1:40



5. \_\_\_\_\_

6) Beginn: \_\_\_\_\_

Elapsed: 1 Std. und 25 Min.

Ende: 2:05

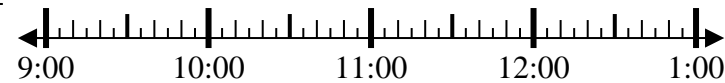


6. \_\_\_\_\_

7) Beginn: \_\_\_\_\_

Elapsed: 1 Std. und 50 Min.

Ende: 11:30



7. \_\_\_\_\_

8) Beginn: \_\_\_\_\_

Elapsed: 2 Std. und 45 Min.

Ende: 4:20



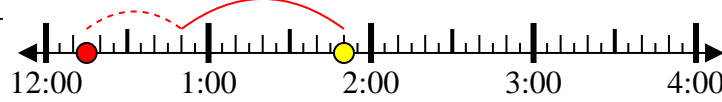
8. \_\_\_\_\_



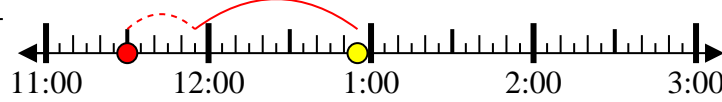
Löse jede Aufgabe.

**Antworten**

- 1) Beginn: 12:15  
 Elapsed: 1 Std. und 35 Min.  
 Ende: 1:50

1. 12:15

- 2) Beginn: 11:30  
 Elapsed: 1 Std. und 25 Min.  
 Ende: 12:55

2. 11:30

- 3) Beginn: 5:10  
 Elapsed: 1 Std. und 35 Min.  
 Ende: 6:45

3. 5:10

- 4) Beginn: 11:00  
 Elapsed: 1 Std. und 10 Min.  
 Ende: 12:10

4. 11:00

- 5) Beginn: 12:30  
 Elapsed: 1 Std. und 10 Min.  
 Ende: 1:40

5. 12:30

- 6) Beginn: 12:40  
 Elapsed: 1 Std. und 25 Min.  
 Ende: 2:05

6. 12:40

- 7) Beginn: 9:40  
 Elapsed: 1 Std. und 50 Min.  
 Ende: 11:30

7. 9:40

- 8) Beginn: 1:35  
 Elapsed: 2 Std. und 45 Min.  
 Ende: 4:20

8. 1:35