

**Löse jede Aufgabe.****Antworten**

1) Beginn: _____

Elapsed: 2 Std. und 50 Min.

Ende: 5:40

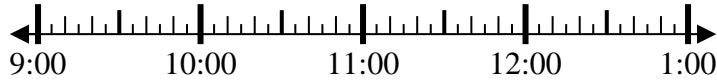


1. _____

2) Beginn: _____

Elapsed: 1 Std. und 10 Min.

Ende: 10:20



2. _____

3) Beginn: _____

Elapsed: 1 Std. und 15 Min.

Ende: 8:20



3. _____

4) Beginn: _____

Elapsed: 1 Std. und 15 Min.

Ende: 4:15



4. _____

5) Beginn: _____

Elapsed: 1 Std. und 40 Min.

Ende: 8:55



5. _____

6) Beginn: _____

Elapsed: 2 Std. und 15 Min.

Ende: 7:15



6. _____

7) Beginn: _____

Elapsed: 2 Std. und 45 Min.

Ende: 3:45



7. _____

8) Beginn: _____

Elapsed: 1 Std. und 20 Min.

Ende: 5:55

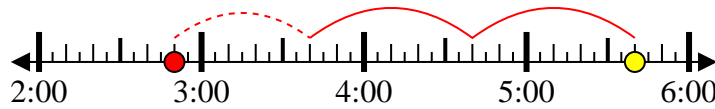


8. _____

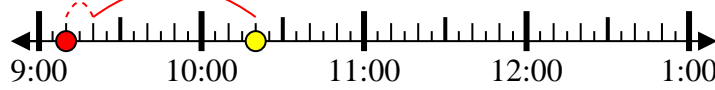


Löse jede Aufgabe.

- 1) Beginn: 2:50
 Elapsed: 2 Std. und 50 Min.
 Ende: 5:40



- 2) Beginn: 9:10
 Elapsed: 1 Std. und 10 Min.
 Ende: 10:20



- 3) Beginn: 7:05
 Elapsed: 1 Std. und 15 Min.
 Ende: 8:20



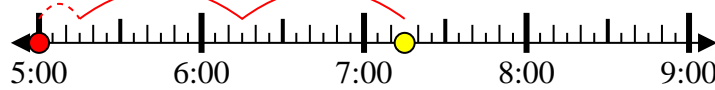
- 4) Beginn: 3:00
 Elapsed: 1 Std. und 15 Min.
 Ende: 4:15



- 5) Beginn: 7:15
 Elapsed: 1 Std. und 40 Min.
 Ende: 8:55



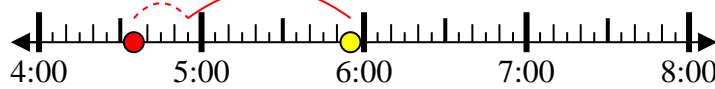
- 6) Beginn: 5:00
 Elapsed: 2 Std. und 15 Min.
 Ende: 7:15



- 7) Beginn: 1:00
 Elapsed: 2 Std. und 45 Min.
 Ende: 3:45



- 8) Beginn: 4:35
 Elapsed: 1 Std. und 20 Min.
 Ende: 5:55

**Antworten**

1. 2:50
 2. 9:10
 3. 7:05
 4. 3:00
 5. 7:15
 6. 5:00
 7. 1:00
 8. 4:35