



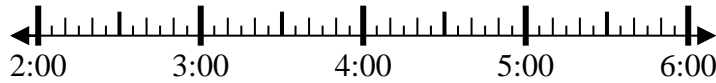
Löse jede Aufgabe.

Antworten

1) Beginn: 2:15

Elapsed: 1 Std. und 40 Min.

Ende: _____

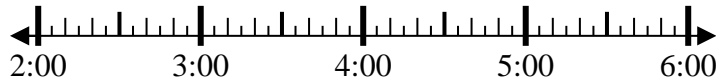


1. _____

2) Beginn: 2:10

Elapsed: 2 Std. und 45 Min.

Ende: _____

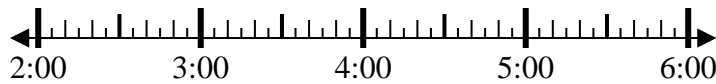


2. _____

3) Beginn: 2:45

Elapsed: 2 Std. und 10 Min.

Ende: _____

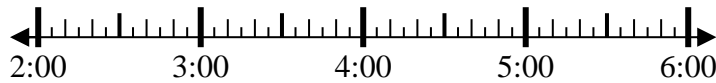


3. _____

4) Beginn: 2:20

Elapsed: 1 Std. und 20 Min.

Ende: _____

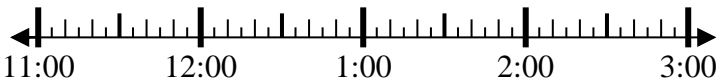


4. _____

5) Beginn: 11:05

Elapsed: 2 Std. und 25 Min.

Ende: _____

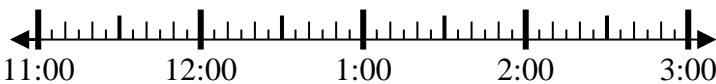


5. _____

6) Beginn: 11:05

Elapsed: 2 Std. und 20 Min.

Ende: _____

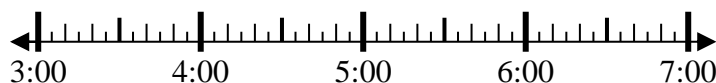


6. _____

7) Beginn: 3:45

Elapsed: 2 Std. und 20 Min.

Ende: _____

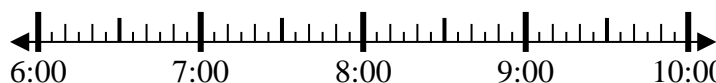


7. _____

8) Beginn: 6:20

Elapsed: 1 Std. und 30 Min.

Ende: _____

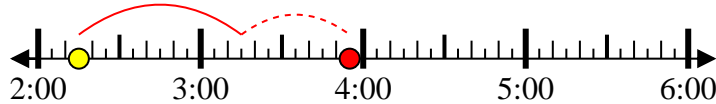


8. _____

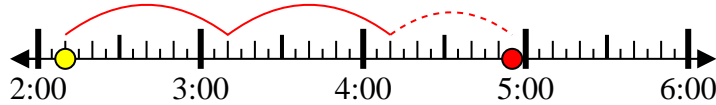


Löse jede Aufgabe.

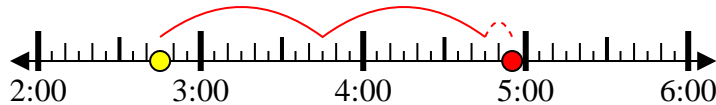
1) Beginn: 2:15

Elapsed: 1 Std. und 40
Min.Ende: 3:55

2) Beginn: 2:10

Elapsed: 2 Std. und 45
Min.Ende: 4:55

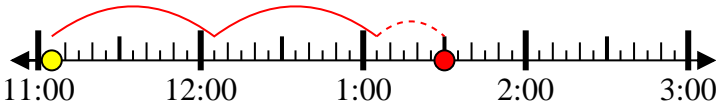
3) Beginn: 2:45

Elapsed: 2 Std. und 10
Min.Ende: 4:55

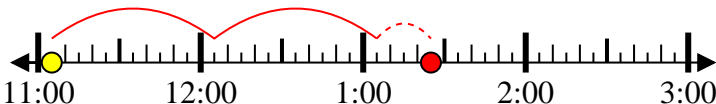
4) Beginn: 2:20

Elapsed: 1 Std. und 20
Min.Ende: 3:40

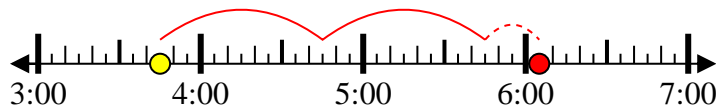
5) Beginn: 11:05

Elapsed: 2 Std. und 25
Min.Ende: 1:30

6) Beginn: 11:05

Elapsed: 2 Std. und 20
Min.Ende: 1:25

7) Beginn: 3:45

Elapsed: 2 Std. und 20
Min.Ende: 6:05

8) Beginn: 6:20

Elapsed: 1 Std. und 30
Min.Ende: 7:50**Antworten**1. 3:552. 4:553. 4:554. 3:405. 1:306. 1:257. 6:058. 7:50



Löse jede Aufgabe.

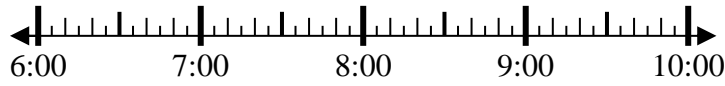
Antworten

1) Beginn: 6:45
 Elapsed: 1 Std. und 10 Min.
 Ende: _____



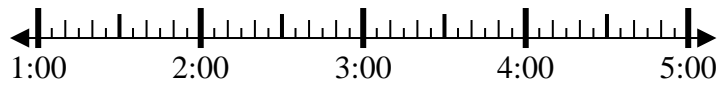
1. _____

2) Beginn: 6:25
 Elapsed: 2 Std. und 40 Min.
 Ende: _____



2. _____

3) Beginn: 1:10
 Elapsed: 1 Std. und 50 Min.
 Ende: _____



3. _____

4) Beginn: 11:15
 Elapsed: 1 Std. und 45 Min.
 Ende: _____



4. _____

5) Beginn: 3:25
 Elapsed: 2 Std. und 10 Min.
 Ende: _____



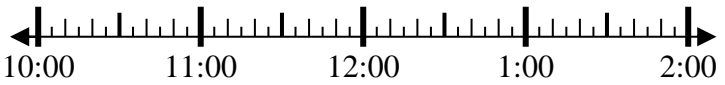
5. _____

6) Beginn: 3:20
 Elapsed: 2 Std. und 35 Min.
 Ende: _____



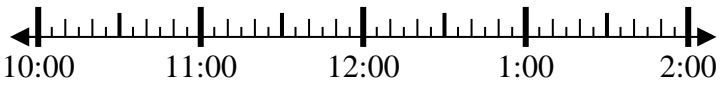
6. _____

7) Beginn: 10:35
 Elapsed: 1 Std. und 50 Min.
 Ende: _____



7. _____

8) Beginn: 10:00
 Elapsed: 1 Std. und 30 Min.
 Ende: _____



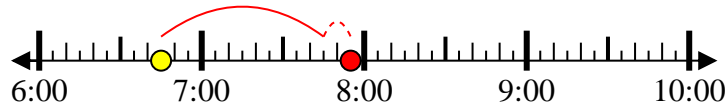
8. _____



Löse jede Aufgabe.

1) Beginn: 6:45

Elapsed: 1 Std. und 10 Min.

Ende: 7:55

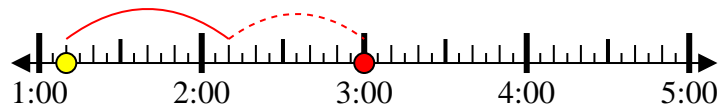
2) Beginn: 6:25

Elapsed: 2 Std. und 40 Min.

Ende: 9:05

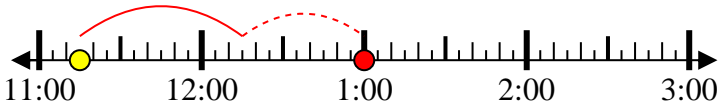
3) Beginn: 1:10

Elapsed: 1 Std. und 50 Min.

Ende: 3:00

4) Beginn: 11:15

Elapsed: 1 Std. und 45 Min.

Ende: 1:00

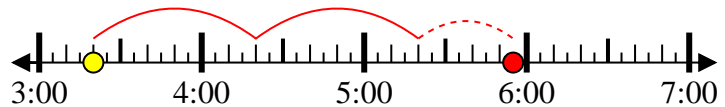
5) Beginn: 3:25

Elapsed: 2 Std. und 10 Min.

Ende: 5:35

6) Beginn: 3:20

Elapsed: 2 Std. und 35 Min.

Ende: 5:55

7) Beginn: 10:35

Elapsed: 1 Std. und 50 Min.

Ende: 12:25

8) Beginn: 10:00

Elapsed: 1 Std. und 30 Min.

Ende: 11:30**Antworten**1. 7:552. 9:053. 3:004. 1:005. 5:356. 5:557. 12:258. 11:30



Löse jede Aufgabe.

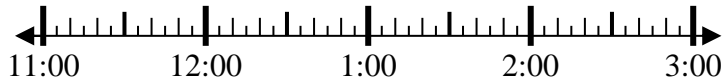
Antworten

1) Beginn: 2:00
 Elapsed: 1 Std. und 45 Min.
 Ende: _____



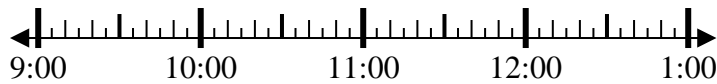
1. _____

2) Beginn: 11:35
 Elapsed: 2 Std. und 45 Min.
 Ende: _____



2. _____

3) Beginn: 9:00
 Elapsed: 1 Std. und 10 Min.
 Ende: _____



3. _____

4) Beginn: 11:45
 Elapsed: 1 Std. und 20 Min.
 Ende: _____



4. _____

5) Beginn: 12:20
 Elapsed: 1 Std. und 15 Min.
 Ende: _____



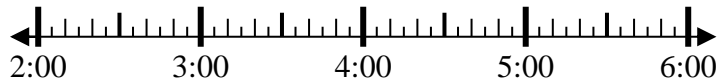
5. _____

6) Beginn: 5:25
 Elapsed: 1 Std. und 10 Min.
 Ende: _____



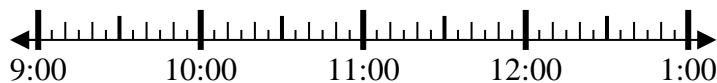
6. _____

7) Beginn: 2:35
 Elapsed: 1 Std. und 45 Min.
 Ende: _____



7. _____

8) Beginn: 9:35
 Elapsed: 2 Std. und 45 Min.
 Ende: _____

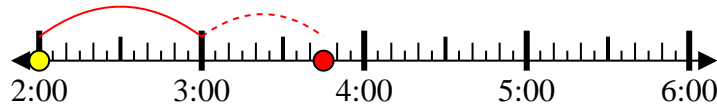


8. _____



Löse jede Aufgabe.

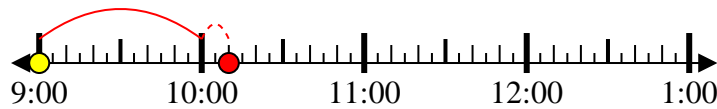
- 1) Beginn: 2:00
 Elapsed: 1 Std. und 45 Min.
 Ende: 3:45



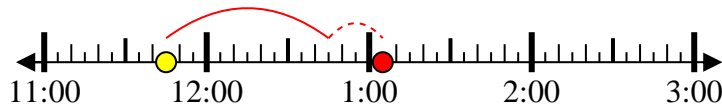
- 2) Beginn: 11:35
 Elapsed: 2 Std. und 45 Min.
 Ende: 2:20



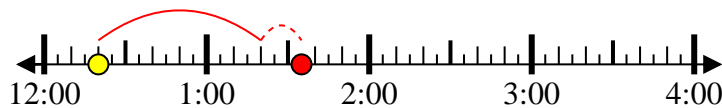
- 3) Beginn: 9:00
 Elapsed: 1 Std. und 10 Min.
 Ende: 10:10



- 4) Beginn: 11:45
 Elapsed: 1 Std. und 20 Min.
 Ende: 1:05



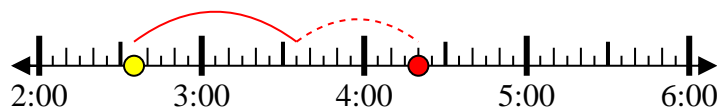
- 5) Beginn: 12:20
 Elapsed: 1 Std. und 15 Min.
 Ende: 1:35



- 6) Beginn: 5:25
 Elapsed: 1 Std. und 10 Min.
 Ende: 6:35



- 7) Beginn: 2:35
 Elapsed: 1 Std. und 45 Min.
 Ende: 4:20



- 8) Beginn: 9:35
 Elapsed: 2 Std. und 45 Min.
 Ende: 12:20

**Antworten**

1. 3:45
 2. 2:20
 3. 10:10
 4. 1:05
 5. 1:35
 6. 6:35
 7. 4:20
 8. 12:20



Löse jede Aufgabe.

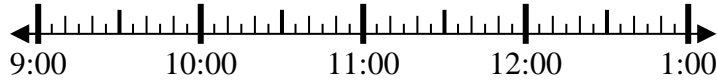
Antworten

1) Beginn: 2:50
 Elapsed: 2 Std. und 50 Min.
 Ende: _____



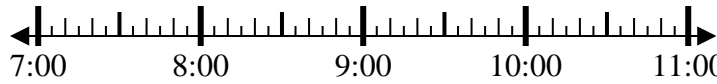
1. _____

2) Beginn: 9:10
 Elapsed: 1 Std. und 10 Min.
 Ende: _____



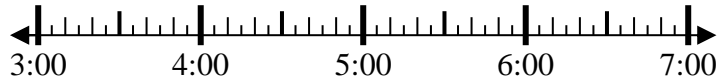
2. _____

3) Beginn: 7:05
 Elapsed: 1 Std. und 15 Min.
 Ende: _____



3. _____

4) Beginn: 3:00
 Elapsed: 1 Std. und 15 Min.
 Ende: _____



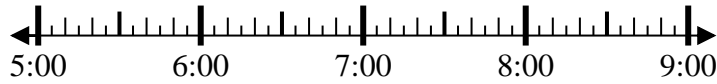
4. _____

5) Beginn: 7:15
 Elapsed: 1 Std. und 40 Min.
 Ende: _____



5. _____

6) Beginn: 5:00
 Elapsed: 2 Std. und 15 Min.
 Ende: _____



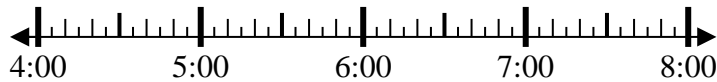
6. _____

7) Beginn: 1:00
 Elapsed: 2 Std. und 45 Min.
 Ende: _____



7. _____

8) Beginn: 4:35
 Elapsed: 1 Std. und 20 Min.
 Ende: _____



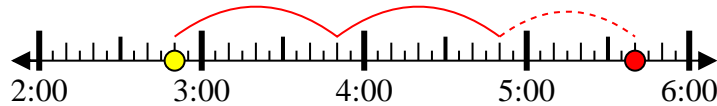
8. _____



Löse jede Aufgabe.

1) Beginn: 2:50

Elapsed: 2 Std. und 50 Min.

Ende: 5:40

2) Beginn: 9:10

Elapsed: 1 Std. und 10 Min.

Ende: 10:20

3) Beginn: 7:05

Elapsed: 1 Std. und 15 Min.

Ende: 8:20

4) Beginn: 3:00

Elapsed: 1 Std. und 15 Min.

Ende: 4:15

5) Beginn: 7:15

Elapsed: 1 Std. und 40 Min.

Ende: 8:55

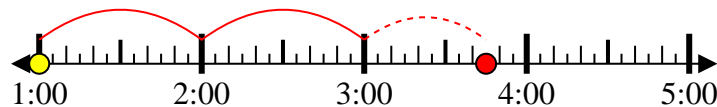
6) Beginn: 5:00

Elapsed: 2 Std. und 15 Min.

Ende: 7:15

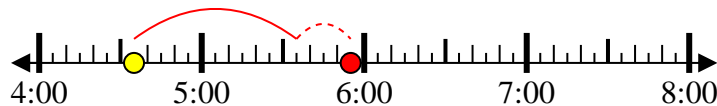
7) Beginn: 1:00

Elapsed: 2 Std. und 45 Min.

Ende: 3:45

8) Beginn: 4:35

Elapsed: 1 Std. und 20 Min.

Ende: 5:55**Antworten**1. 5:402. 10:203. 8:204. 4:155. 8:556. 7:157. 3:458. 5:55



Löse jede Aufgabe.

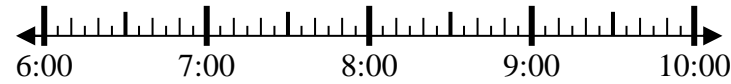
Antworten

1) Beginn: 12:10
 Elapsed: 1 Std. und 25 Min.
 Ende: _____



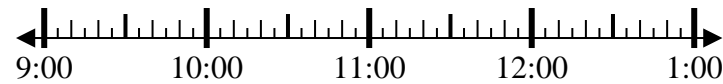
1. _____

2) Beginn: 6:40
 Elapsed: 2 Std. und 10 Min.
 Ende: _____



2. _____

3) Beginn: 9:05
 Elapsed: 2 Std. und 50 Min.
 Ende: _____



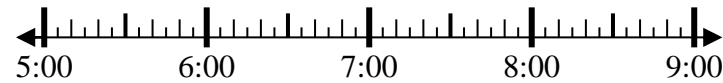
3. _____

4) Beginn: 10:45
 Elapsed: 2 Std. und 40 Min.
 Ende: _____



4. _____

5) Beginn: 5:35
 Elapsed: 1 Std. und 30 Min.
 Ende: _____



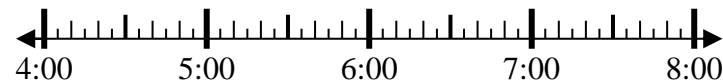
5. _____

6) Beginn: 8:15
 Elapsed: 2 Std. und 25 Min.
 Ende: _____



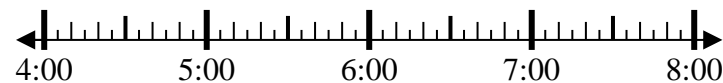
6. _____

7) Beginn: 4:10
 Elapsed: 2 Std. und 55 Min.
 Ende: _____



7. _____

8) Beginn: 4:00
 Elapsed: 2 Std. und 20 Min.
 Ende: _____



8. _____

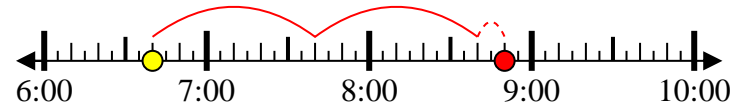


Löse jede Aufgabe.

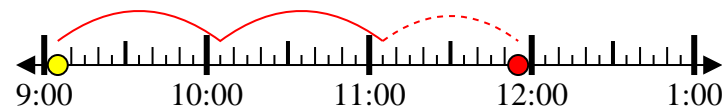
- 1) Beginn: 12:10
 Elapsed: 1 Std. und 25 Min.
 Ende: 1:35



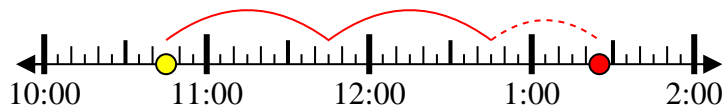
- 2) Beginn: 6:40
 Elapsed: 2 Std. und 10 Min.
 Ende: 8:50



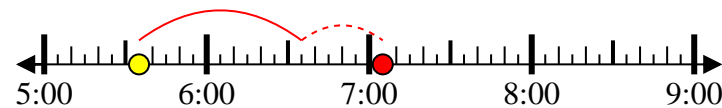
- 3) Beginn: 9:05
 Elapsed: 2 Std. und 50 Min.
 Ende: 11:55



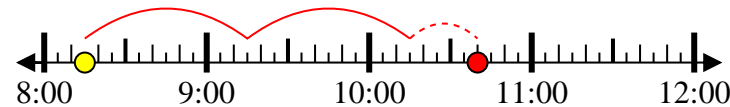
- 4) Beginn: 10:45
 Elapsed: 2 Std. und 40 Min.
 Ende: 1:25



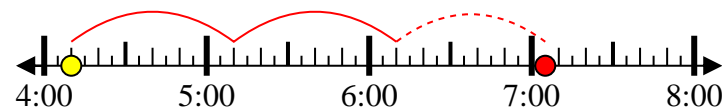
- 5) Beginn: 5:35
 Elapsed: 1 Std. und 30 Min.
 Ende: 7:05



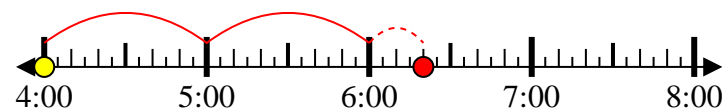
- 6) Beginn: 8:15
 Elapsed: 2 Std. und 25 Min.
 Ende: 10:40



- 7) Beginn: 4:10
 Elapsed: 2 Std. und 55 Min.
 Ende: 7:05



- 8) Beginn: 4:00
 Elapsed: 2 Std. und 20 Min.
 Ende: 6:20

**Antworten**

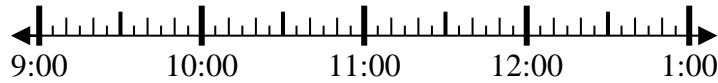
1. 1:35
 2. 8:50
 3. 11:55
 4. 1:25
 5. 7:05
 6. 10:40
 7. 7:05
 8. 6:20



Löse jede Aufgabe.

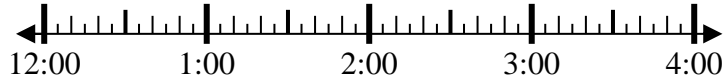
Antworten

1) Beginn: 9:35
 Elapsed: 2 Std. und 30 Min.
 Ende: _____



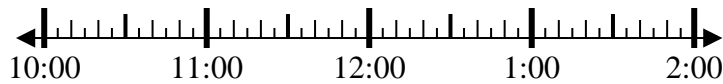
1. _____

2) Beginn: 12:50
 Elapsed: 1 Std. und 45 Min.
 Ende: _____



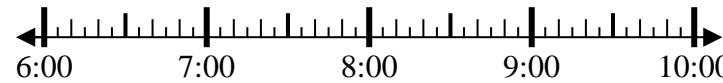
2. _____

3) Beginn: 10:15
 Elapsed: 1 Std. und 25 Min.
 Ende: _____



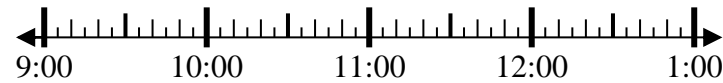
3. _____

4) Beginn: 6:25
 Elapsed: 1 Std. und 45 Min.
 Ende: _____



4. _____

5) Beginn: 9:10
 Elapsed: 1 Std. und 15 Min.
 Ende: _____



5. _____

6) Beginn: 11:45
 Elapsed: 2 Std. und 15 Min.
 Ende: _____



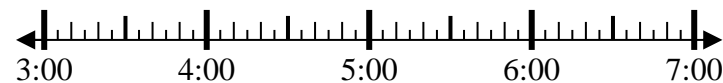
6. _____

7) Beginn: 12:20
 Elapsed: 1 Std. und 40 Min.
 Ende: _____



7. _____

8) Beginn: 3:35
 Elapsed: 1 Std. und 40 Min.
 Ende: _____



8. _____

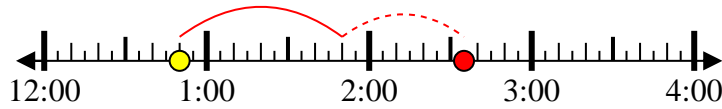


Löse jede Aufgabe.

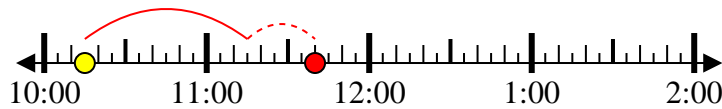
1) Beginn: 9:35
 Elapsed: 2 Std. und 30 Min.
 Ende: 12:05



2) Beginn: 12:50
 Elapsed: 1 Std. und 45 Min.
 Ende: 2:35



3) Beginn: 10:15
 Elapsed: 1 Std. und 25 Min.
 Ende: 11:40



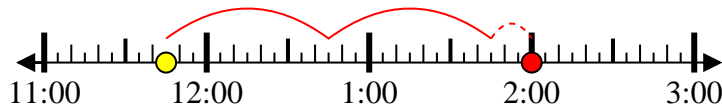
4) Beginn: 6:25
 Elapsed: 1 Std. und 45 Min.
 Ende: 8:10



5) Beginn: 9:10
 Elapsed: 1 Std. und 15 Min.
 Ende: 10:25



6) Beginn: 11:45
 Elapsed: 2 Std. und 15 Min.
 Ende: 2:00



7) Beginn: 12:20
 Elapsed: 1 Std. und 40 Min.
 Ende: 2:00



8) Beginn: 3:35
 Elapsed: 1 Std. und 40 Min.
 Ende: 5:15



Antworten

1. 12:05
2. 2:35
3. 11:40
4. 8:10
5. 10:25
6. 2:00
7. 2:00
8. 5:15



Löse jede Aufgabe.

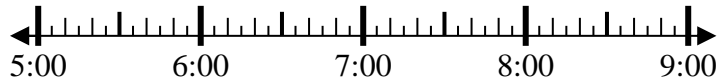
Antworten

1) Beginn: 7:05
 Elapsed: 2 Std. und 20 Min.
 Ende: _____



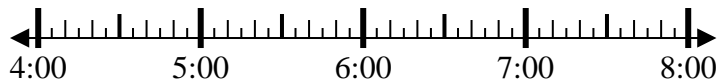
1. _____

2) Beginn: 5:25
 Elapsed: 2 Std. und 20 Min.
 Ende: _____



2. _____

3) Beginn: 4:15
 Elapsed: 1 Std. und 35 Min.
 Ende: _____



3. _____

4) Beginn: 12:05
 Elapsed: 2 Std. und 40 Min.
 Ende: _____



4. _____

5) Beginn: 10:05
 Elapsed: 1 Std. und 45 Min.
 Ende: _____



5. _____

6) Beginn: 11:45
 Elapsed: 2 Std. und 15 Min.
 Ende: _____



6. _____

7) Beginn: 5:25
 Elapsed: 1 Std. und 40 Min.
 Ende: _____



7. _____

8) Beginn: 1:25
 Elapsed: 1 Std. und 15 Min.
 Ende: _____

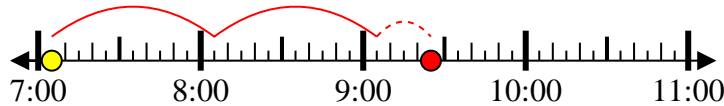


8. _____



Löse jede Aufgabe.

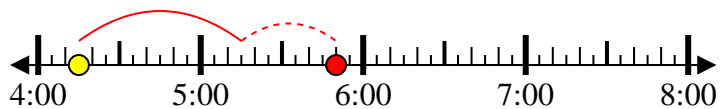
- 1) Beginn: 7:05
 Elapsed: 2 Std. und 20 Min.
 Ende: 9:25



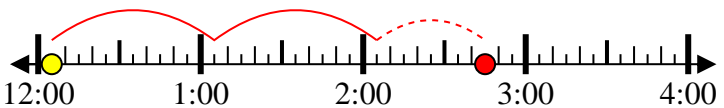
- 2) Beginn: 5:25
 Elapsed: 2 Std. und 20 Min.
 Ende: 7:45



- 3) Beginn: 4:15
 Elapsed: 1 Std. und 35 Min.
 Ende: 5:50



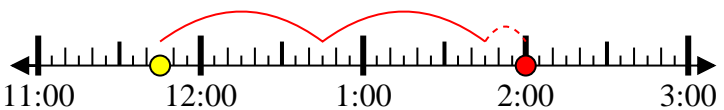
- 4) Beginn: 12:05
 Elapsed: 2 Std. und 40 Min.
 Ende: 2:45



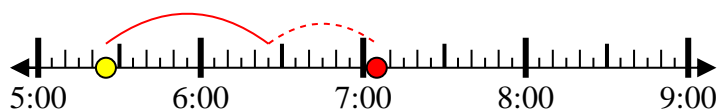
- 5) Beginn: 10:05
 Elapsed: 1 Std. und 45 Min.
 Ende: 11:50



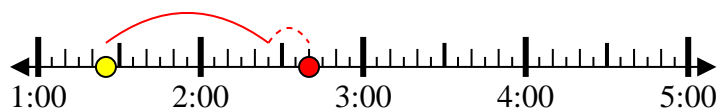
- 6) Beginn: 11:45
 Elapsed: 2 Std. und 15 Min.
 Ende: 2:00



- 7) Beginn: 5:25
 Elapsed: 1 Std. und 40 Min.
 Ende: 7:05



- 8) Beginn: 1:25
 Elapsed: 1 Std. und 15 Min.
 Ende: 2:40

**Antworten**

1. 9:25
 2. 7:45
 3. 5:50
 4. 2:45
 5. 11:50
 6. 2:00
 7. 7:05
 8. 2:40



Löse jede Aufgabe.

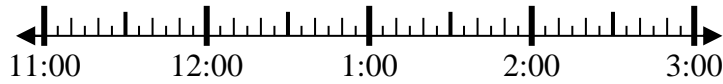
Antworten

1) Beginn: 12:15
 Elapsed: 1 Std. und 35 Min.
 Ende: _____



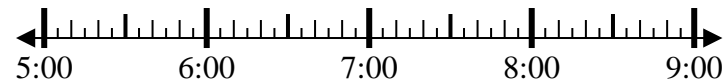
1. _____

2) Beginn: 11:30
 Elapsed: 1 Std. und 25 Min.
 Ende: _____



2. _____

3) Beginn: 5:10
 Elapsed: 1 Std. und 35 Min.
 Ende: _____



3. _____

4) Beginn: 11:00
 Elapsed: 1 Std. und 10 Min.
 Ende: _____



4. _____

5) Beginn: 12:30
 Elapsed: 1 Std. und 10 Min.
 Ende: _____



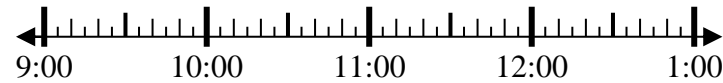
5. _____

6) Beginn: 12:40
 Elapsed: 1 Std. und 25 Min.
 Ende: _____



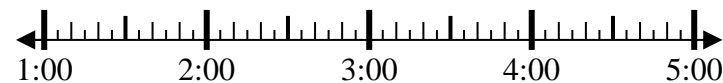
6. _____

7) Beginn: 9:40
 Elapsed: 1 Std. und 50 Min.
 Ende: _____



7. _____

8) Beginn: 1:35
 Elapsed: 2 Std. und 45 Min.
 Ende: _____



8. _____



Löse jede Aufgabe.

1) Beginn: 12:15

Elapsed: 1 Std. und 35
Min.Ende: 1:50

2) Beginn: 11:30

Elapsed: 1 Std. und 25
Min.Ende: 12:55

3) Beginn: 5:10

Elapsed: 1 Std. und 35
Min.Ende: 6:45

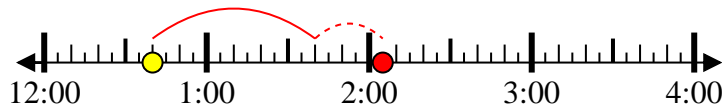
4) Beginn: 11:00

Elapsed: 1 Std. und 10
Min.Ende: 12:10

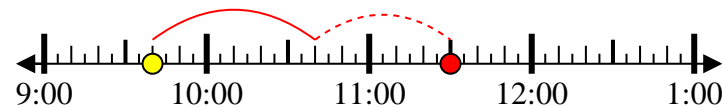
5) Beginn: 12:30

Elapsed: 1 Std. und 10
Min.Ende: 1:40

6) Beginn: 12:40

Elapsed: 1 Std. und 25
Min.Ende: 2:05

7) Beginn: 9:40

Elapsed: 1 Std. und 50
Min.Ende: 11:30

8) Beginn: 1:35

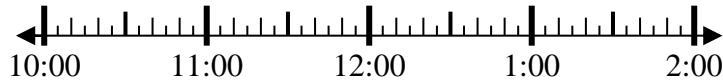
Elapsed: 2 Std. und 45
Min.Ende: 4:20**Antworten**1. 1:502. 12:553. 6:454. 12:105. 1:406. 2:057. 11:308. 4:20



Löse jede Aufgabe.

Antworten

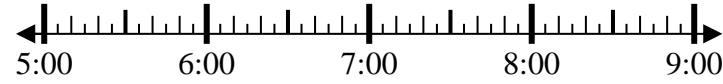
1) Beginn: 10:50
 Elapsed: 2 Std. und 30 Min.
 Ende: _____



1. _____

2. _____

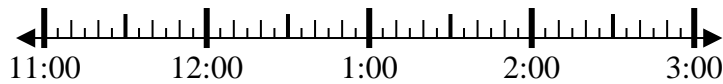
2) Beginn: 5:10
 Elapsed: 1 Std. und 25 Min.
 Ende: _____



3. _____

4. _____

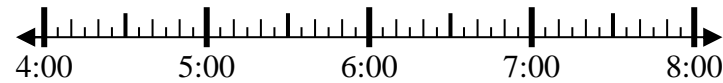
3) Beginn: 11:40
 Elapsed: 1 Std. und 35 Min.
 Ende: _____



5. _____

6. _____

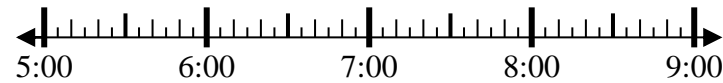
4) Beginn: 4:20
 Elapsed: 2 Std. und 15 Min.
 Ende: _____



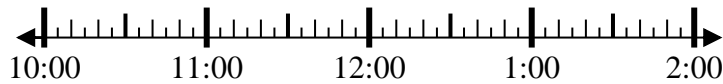
7. _____

8. _____

5) Beginn: 5:15
 Elapsed: 2 Std. und 25 Min.
 Ende: _____



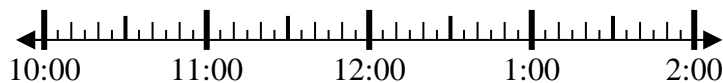
6) Beginn: 10:20
 Elapsed: 2 Std. und 35 Min.
 Ende: _____



7) Beginn: 12:45
 Elapsed: 2 Std. und 50 Min.
 Ende: _____



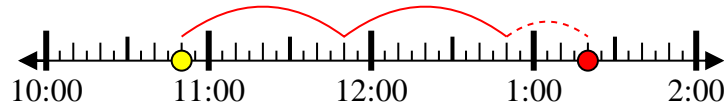
8) Beginn: 10:40
 Elapsed: 1 Std. und 30 Min.
 Ende: _____



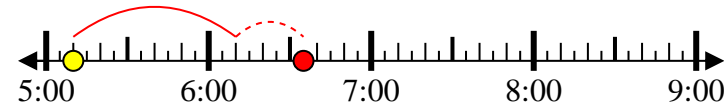


Löse jede Aufgabe.

1) Beginn: 10:50
 Elapsed: 2 Std. und 30 Min.
 Ende: 1:20



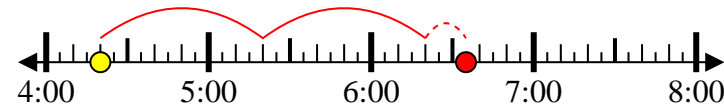
2) Beginn: 5:10
 Elapsed: 1 Std. und 25 Min.
 Ende: 6:35



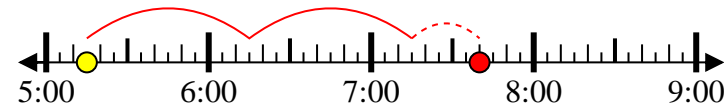
3) Beginn: 11:40
 Elapsed: 1 Std. und 35 Min.
 Ende: 1:15



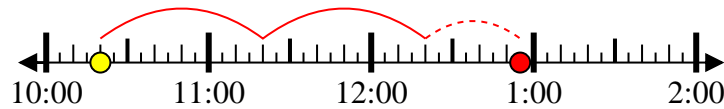
4) Beginn: 4:20
 Elapsed: 2 Std. und 15 Min.
 Ende: 6:35



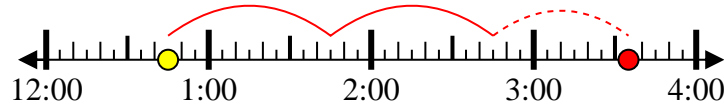
5) Beginn: 5:15
 Elapsed: 2 Std. und 25 Min.
 Ende: 7:40



6) Beginn: 10:20
 Elapsed: 2 Std. und 35 Min.
 Ende: 12:55



7) Beginn: 12:45
 Elapsed: 2 Std. und 50 Min.
 Ende: 3:35



8) Beginn: 10:40
 Elapsed: 1 Std. und 30 Min.
 Ende: 12:10



Antworten

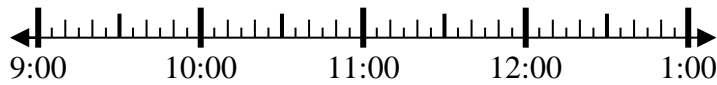
1. 1:20
2. 6:35
3. 1:15
4. 6:35
5. 7:40
6. 12:55
7. 3:35
8. 12:10



Löse jede Aufgabe.

Antworten

1) Beginn: 9:20
 Elapsed: 1 Std. und 25 Min.
 Ende: _____



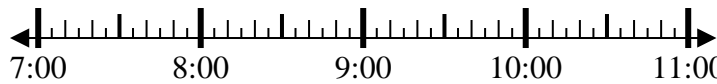
1. _____

2) Beginn: 2:00
 Elapsed: 2 Std. und 55 Min.
 Ende: _____



2. _____

3) Beginn: 7:40
 Elapsed: 2 Std. und 15 Min.
 Ende: _____



3. _____

4) Beginn: 7:15
 Elapsed: 1 Std. und 10 Min.
 Ende: _____



4. _____

5) Beginn: 11:15
 Elapsed: 2 Std. und 25 Min.
 Ende: _____



5. _____

6) Beginn: 5:30
 Elapsed: 1 Std. und 25 Min.
 Ende: _____



6. _____

7) Beginn: 12:00
 Elapsed: 2 Std. und 40 Min.
 Ende: _____



7. _____

8) Beginn: 12:15
 Elapsed: 1 Std. und 20 Min.
 Ende: _____



8. _____

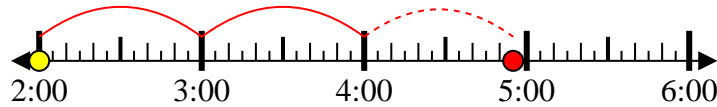


Löse jede Aufgabe.

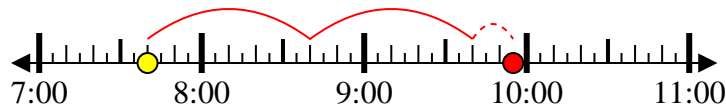
- 1) Beginn: 9:20
 Elapsed: 1 Std. und 25 Min.
 Ende: 10:45



- 2) Beginn: 2:00
 Elapsed: 2 Std. und 55 Min.
 Ende: 4:55



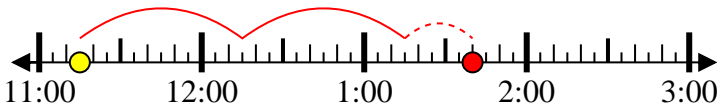
- 3) Beginn: 7:40
 Elapsed: 2 Std. und 15 Min.
 Ende: 9:55



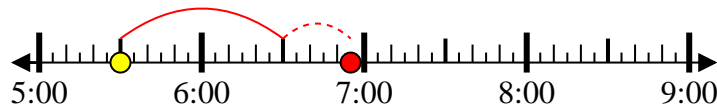
- 4) Beginn: 7:15
 Elapsed: 1 Std. und 10 Min.
 Ende: 8:25



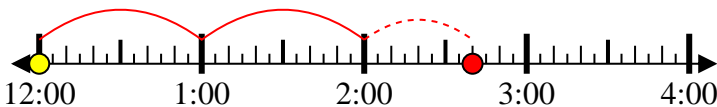
- 5) Beginn: 11:15
 Elapsed: 2 Std. und 25 Min.
 Ende: 1:40



- 6) Beginn: 5:30
 Elapsed: 1 Std. und 25 Min.
 Ende: 6:55



- 7) Beginn: 12:00
 Elapsed: 2 Std. und 40 Min.
 Ende: 2:40



- 8) Beginn: 12:15
 Elapsed: 1 Std. und 20 Min.
 Ende: 1:35

**Antworten**

1. 10:45
 2. 4:55
 3. 9:55
 4. 8:25
 5. 1:40
 6. 6:55
 7. 2:40
 8. 1:35