



**Löse jede Aufgabe.**

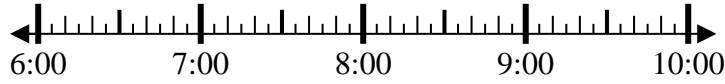
**Antworten**

1) Beginn: 6:45  
 Elapsed: 1 Std. und 10 Min.  
 Ende: \_\_\_\_\_



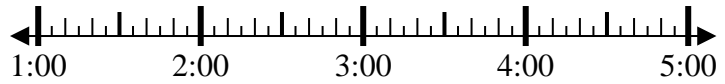
1. \_\_\_\_\_

2) Beginn: 6:25  
 Elapsed: 2 Std. und 40 Min.  
 Ende: \_\_\_\_\_



2. \_\_\_\_\_

3) Beginn: 1:10  
 Elapsed: 1 Std. und 50 Min.  
 Ende: \_\_\_\_\_



3. \_\_\_\_\_

4) Beginn: 11:15  
 Elapsed: 1 Std. und 45 Min.  
 Ende: \_\_\_\_\_



4. \_\_\_\_\_

5) Beginn: 3:25  
 Elapsed: 2 Std. und 10 Min.  
 Ende: \_\_\_\_\_



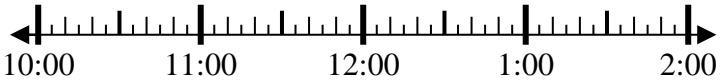
5. \_\_\_\_\_

6) Beginn: 3:20  
 Elapsed: 2 Std. und 35 Min.  
 Ende: \_\_\_\_\_



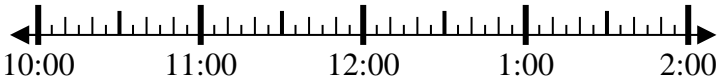
6. \_\_\_\_\_

7) Beginn: 10:35  
 Elapsed: 1 Std. und 50 Min.  
 Ende: \_\_\_\_\_



7. \_\_\_\_\_

8) Beginn: 10:00  
 Elapsed: 1 Std. und 30 Min.  
 Ende: \_\_\_\_\_



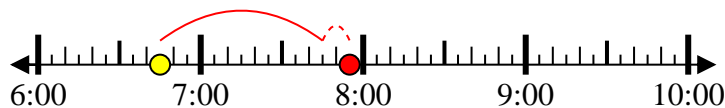
8. \_\_\_\_\_



Löse jede Aufgabe.

1) Beginn: 6:45

Elapsed: 1 Std. und 10 Min.

Ende: 7:55

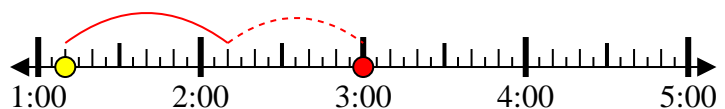
2) Beginn: 6:25

Elapsed: 2 Std. und 40 Min.

Ende: 9:05

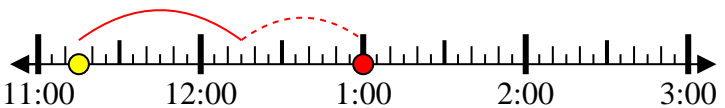
3) Beginn: 1:10

Elapsed: 1 Std. und 50 Min.

Ende: 3:00

4) Beginn: 11:15

Elapsed: 1 Std. und 45 Min.

Ende: 1:00

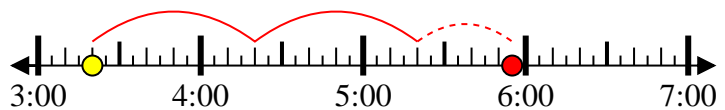
5) Beginn: 3:25

Elapsed: 2 Std. und 10 Min.

Ende: 5:35

6) Beginn: 3:20

Elapsed: 2 Std. und 35 Min.

Ende: 5:55

7) Beginn: 10:35

Elapsed: 1 Std. und 50 Min.

Ende: 12:25

8) Beginn: 10:00

Elapsed: 1 Std. und 30 Min.

Ende: 11:30**Antworten**1. 7:552. 9:053. 3:004. 1:005. 5:356. 5:557. 12:258. 11:30