



**Löse jede Aufgabe.**

**Antworten**

1) Beginn: 12:15

Elapsed: \_\_\_\_\_

Ende: 1:50

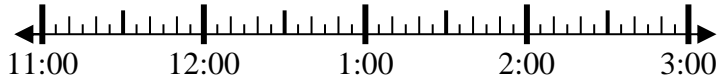


1. \_\_\_\_\_

2) Beginn: 11:30

Elapsed: \_\_\_\_\_

Ende: 12:55

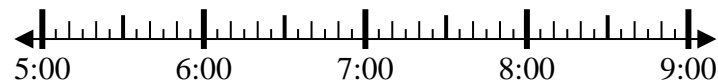


2. \_\_\_\_\_

3) Beginn: 5:10

Elapsed: \_\_\_\_\_

Ende: 6:45

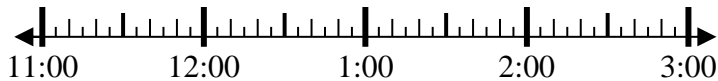


3. \_\_\_\_\_

4) Beginn: 11:00

Elapsed: \_\_\_\_\_

Ende: 12:10



4. \_\_\_\_\_

5) Beginn: 12:30

Elapsed: \_\_\_\_\_

Ende: 1:40



5. \_\_\_\_\_

6) Beginn: 12:40

Elapsed: \_\_\_\_\_

Ende: 2:05

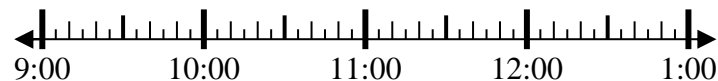


6. \_\_\_\_\_

7) Beginn: 9:40

Elapsed: \_\_\_\_\_

Ende: 11:30



7. \_\_\_\_\_

8) Beginn: 1:35

Elapsed: \_\_\_\_\_

Ende: 4:20



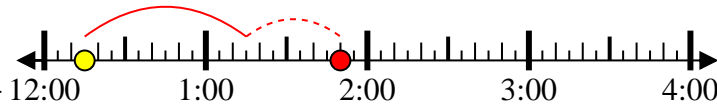
8. \_\_\_\_\_

**Löse jede Aufgabe.**

1) Beginn: 12:15

Elapsed: 1 Std. und 35 Min.

Ende: 1:50



2) Beginn: 11:30

Elapsed: 1 Std. und 25 Min.

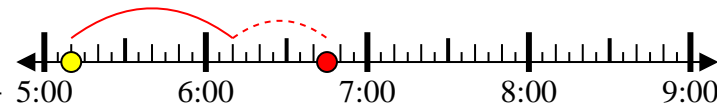
Ende: 12:55



3) Beginn: 5:10

Elapsed: 1 Std. und 35 Min.

Ende: 6:45



4) Beginn: 11:00

Elapsed: 1 Std. und 10 Min.

Ende: 12:10



5) Beginn: 12:30

Elapsed: 1 Std. und 10 Min.

Ende: 1:40



6) Beginn: 12:40

Elapsed: 1 Std. und 25 Min.

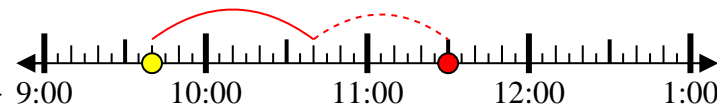
Ende: 2:05



7) Beginn: 9:40

Elapsed: 1 Std. und 50 Min.

Ende: 11:30



8) Beginn: 1:35

Elapsed: 2 Std. und 45 Min.

Ende: 4:20

**Antworten**1. 1 Std. und 35 Min.2. 1 Std. und 25 Min.3. 1 Std. und 35 Min.4. 1 Std. und 10 Min.5. 1 Std. und 10 Min.6. 1 Std. und 25 Min.7. 1 Std. und 50 Min.8. 2 Std. und 45 Min.