

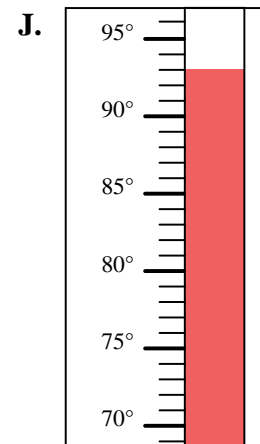
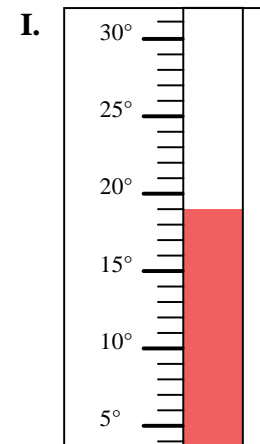
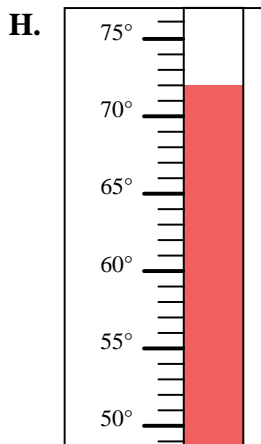
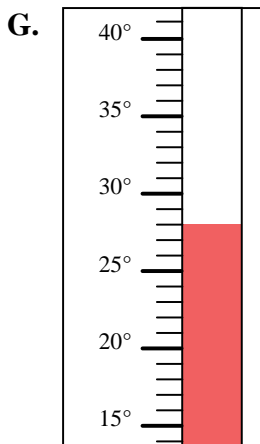
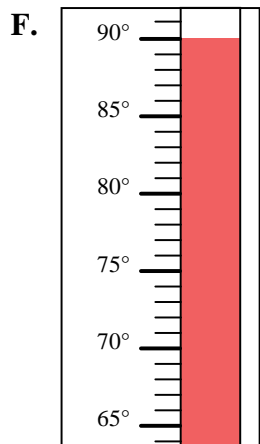
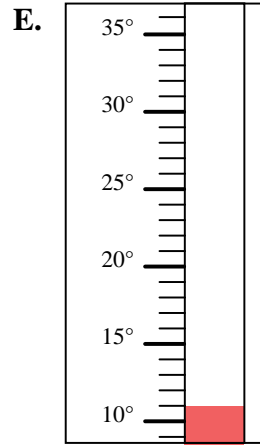
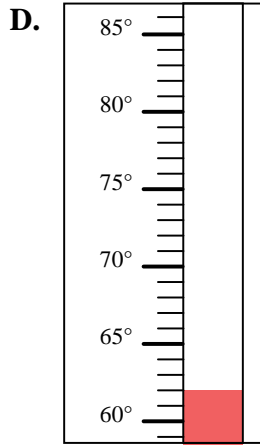
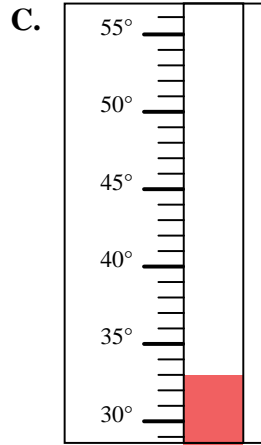
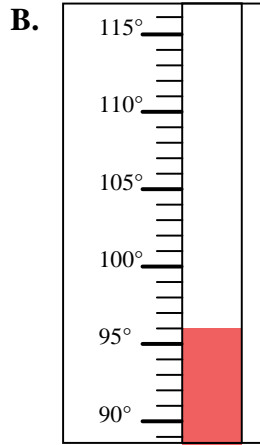
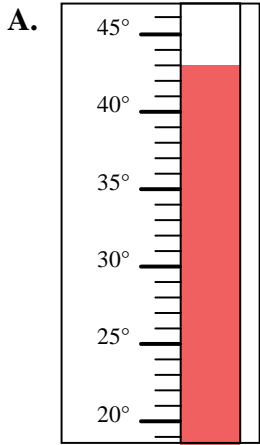


Bestimme, welcher Buchstabe die Frage richtig beantwortet.

Antworten

- 1) Welcher Thermometer zeigt die Temperatur von 62° richtig an?
- 2) Welcher Thermometer zeigt die Temperatur von 43° richtig an?
- 3) Welcher Thermometer zeigt die Temperatur von 72° richtig an?
- 4) Welcher Thermometer zeigt die Temperatur von 33° richtig an?
- 5) Welcher Thermometer zeigt die Temperatur von 11° richtig an?
- 6) Welcher Thermometer zeigt die Temperatur von 93° richtig an?
- 7) Welcher Thermometer zeigt die Temperatur von 96° richtig an?
- 8) Welcher Thermometer zeigt die Temperatur von 19° richtig an?
- 9) Welcher Thermometer zeigt die Temperatur von 28° richtig an?
- 10) Welcher Thermometer zeigt die Temperatur von 90° richtig an?

1. _____
2. _____
3. _____
4. _____
5. _____
6. _____
7. _____
8. _____
9. _____
10. _____





Bestimme, welcher Buchstabe die Frage richtig beantwortet.

Antworten

- 1) Welcher Thermometer zeigt die Temperatur von 62° richtig an?
- 2) Welcher Thermometer zeigt die Temperatur von 43° richtig an?
- 3) Welcher Thermometer zeigt die Temperatur von 72° richtig an?
- 4) Welcher Thermometer zeigt die Temperatur von 33° richtig an?
- 5) Welcher Thermometer zeigt die Temperatur von 11° richtig an?
- 6) Welcher Thermometer zeigt die Temperatur von 93° richtig an?
- 7) Welcher Thermometer zeigt die Temperatur von 96° richtig an?
- 8) Welcher Thermometer zeigt die Temperatur von 19° richtig an?
- 9) Welcher Thermometer zeigt die Temperatur von 28° richtig an?
- 10) Welcher Thermometer zeigt die Temperatur von 90° richtig an?

1. **D**
2. **A**
3. **H**
4. **C**
5. **E**
6. **J**
7. **B**
8. **I**
9. **G**
10. **F**

