

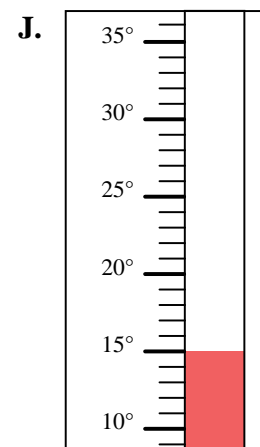
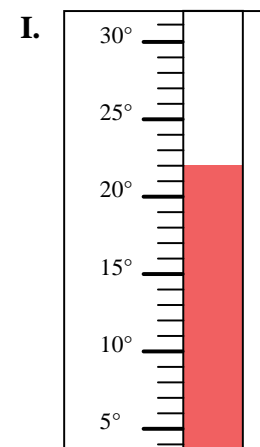
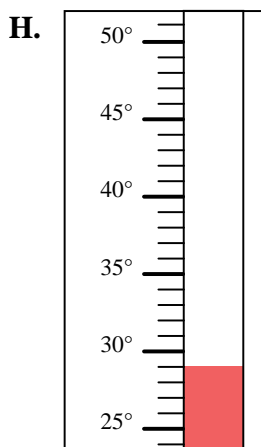
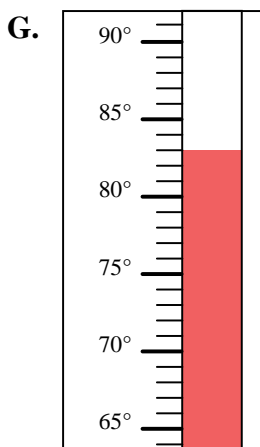
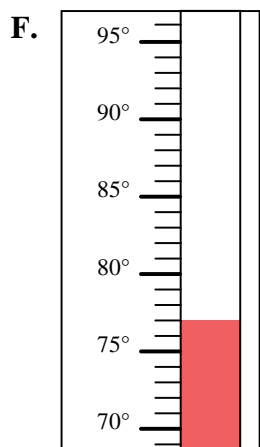
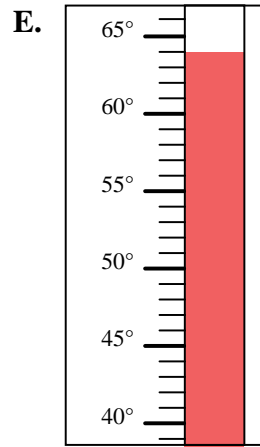
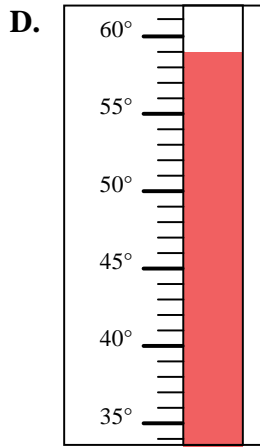
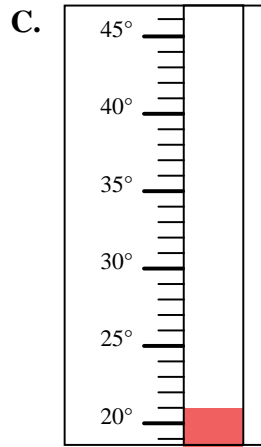
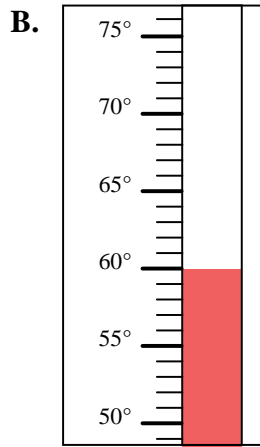
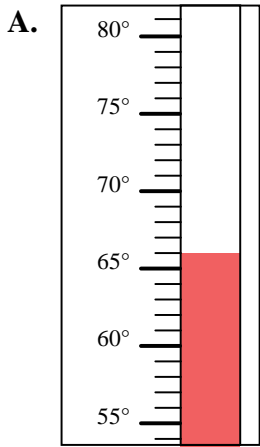


Bestimme, welcher Buchstabe die Frage richtig beantwortet.

**Antworten**

- 1) Welcher Thermometer zeigt die Temperatur von 22° richtig an?
- 2) Welcher Thermometer zeigt die Temperatur von 66° richtig an?
- 3) Welcher Thermometer zeigt die Temperatur von 15° richtig an?
- 4) Welcher Thermometer zeigt die Temperatur von 83° richtig an?
- 5) Welcher Thermometer zeigt die Temperatur von 21° richtig an?
- 6) Welcher Thermometer zeigt die Temperatur von 59° richtig an?
- 7) Welcher Thermometer zeigt die Temperatur von 60° richtig an?
- 8) Welcher Thermometer zeigt die Temperatur von 77° richtig an?
- 9) Welcher Thermometer zeigt die Temperatur von 64° richtig an?
- 10) Welcher Thermometer zeigt die Temperatur von 29° richtig an?

1. \_\_\_\_\_
2. \_\_\_\_\_
3. \_\_\_\_\_
4. \_\_\_\_\_
5. \_\_\_\_\_
6. \_\_\_\_\_
7. \_\_\_\_\_
8. \_\_\_\_\_
9. \_\_\_\_\_
10. \_\_\_\_\_





Bestimme, welcher Buchstabe die Frage richtig beantwortet.

**Antworten**

- 1) Welcher Thermometer zeigt die Temperatur von 22° richtig an?
- 2) Welcher Thermometer zeigt die Temperatur von 66° richtig an?
- 3) Welcher Thermometer zeigt die Temperatur von 15° richtig an?
- 4) Welcher Thermometer zeigt die Temperatur von 83° richtig an?
- 5) Welcher Thermometer zeigt die Temperatur von 21° richtig an?
- 6) Welcher Thermometer zeigt die Temperatur von 59° richtig an?
- 7) Welcher Thermometer zeigt die Temperatur von 60° richtig an?
- 8) Welcher Thermometer zeigt die Temperatur von 77° richtig an?
- 9) Welcher Thermometer zeigt die Temperatur von 64° richtig an?
- 10) Welcher Thermometer zeigt die Temperatur von 29° richtig an?

1.     **I**
2.     **A**
3.     **J**
4.     **G**
5.     **C**
6.     **D**
7.     **B**
8.     **F**
9.     **E**
10.     **H**

