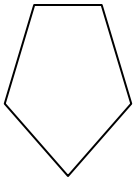




Bestimmen Sie, welcher Buchstabe BEST für die Formen steht, die verwendet wurden, um die gezeigte Figur zu erstellen.

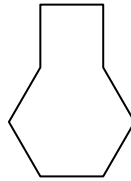
Antworten

1)



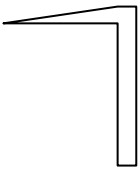
- A. Sechseck & triangle
- B. Viereck & triangle
- C. rectangle & Fünfeck
- D. rectangle & Achteck

2)



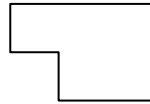
- A. Fünfeck & square
- B. square & Siebeneck
- C. Sechseck & square
- D. square & triangle

3)




- A. Viereck & triangle
- B. square & Viereck
- C. Siebeneck & Achteck
- D. Sechseck & Siebeneck

4)



- A. rectangle & square
- B. Sechseck & square
- C. Viereck & Achteck
- D. rectangle & triangle

5)



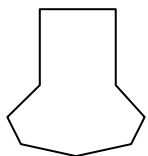
- A. triangle & triangle
- B. rectangle & Sechseck
- C. Fünfeck & Viereck
- D. rectangle & Viereck

6)



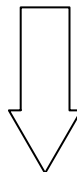
- A. Viereck & Sechseck
- B. Viereck & Siebeneck
- C. Sechseck & Viereck
- D. Viereck & triangle

7)



- A. Siebeneck & rectangle
- B. square & rectangle
- C. Siebeneck & Viereck
- D. Fünfeck & Achteck

8)



- A. Sechseck & Achteck
- B. Achteck & square
- C. triangle & Fünfeck
- D. rectangle & triangle

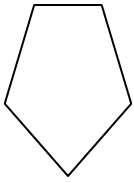
- 1. _____
- 2. _____
- 3. _____
- 4. _____
- 5. _____
- 6. _____
- 7. _____
- 8. _____



Bestimmen Sie, welcher Buchstabe BEST für die Formen steht, die verwendet wurden, um die gezeigte Figur zu erstellen.

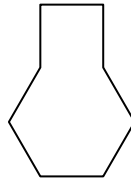
Antworten

1)



- A. Sechseck & triangle
- B. Viereck & triangle
- C. rectangle & Fünfeck
- D. rectangle & Achteck

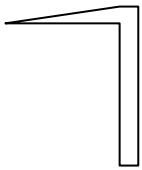
2)



- A. Fünfeck & square
- B. square & Siebeneck
- C. Sechseck & square
- D. square & triangle

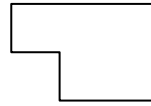
1. **B** 2. **C** 3. **A** 4. **A** 5. **A**

3)



- A. Viereck & triangle
- B. square & Viereck
- C. Siebeneck & Achteck
- D. Sechseck & Siebeneck


4)



- A. rectangle & square
- B. Sechseck & square
- C. Viereck & Achteck
- D. rectangle & triangle

6. **C** 7. **C** 8. **D**

5)



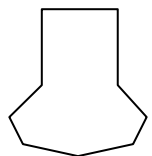
- A. triangle & triangle
- B. rectangle & Sechseck
- C. Fünfeck & Viereck
- D. rectangle & Viereck

6)



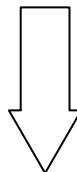
- A. Viereck & Sechseck
- B. Viereck & Siebeneck
- C. Sechseck & Viereck
- D. Viereck & triangle

7)



- A. Siebeneck & rectangle
- B. square & rectangle
- C. Siebeneck & Viereck
- D. Fünfeck & Achteck

8)



- A. Sechseck & Achteck
- B. Achteck & square
- C. triangle & Fünfeck
- D. rectangle & triangle