



Benutze den Zahlenstrahl um jede Zahl auf das nächste Hundert zu runden.

Antworten

Bsp)

4.410



Bsp. 4.400

1)

853



1. _____

2)

783



2. _____

3)

9.697



3. _____

4)

8.980



4. _____

5)

569



5. _____

6)

9.924



6. _____

7)

99.310



7. _____

8)

90.005



8. _____

9)

17.192



9. _____

10)

60.453



10. _____



Benutze den Zahlenstrahl um jede Zahl auf das nächste Hundert zu runden.

Antworten



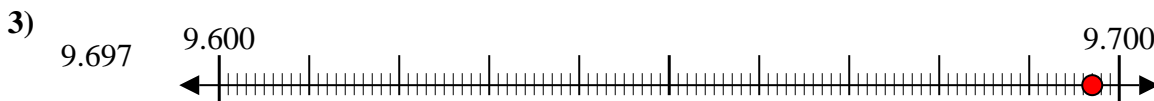
Bsp. 4.400



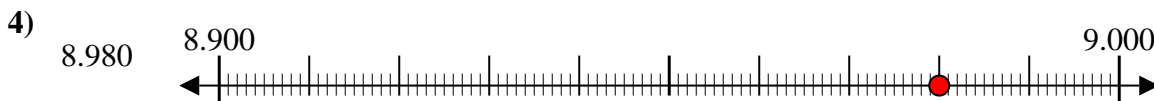
1. 900



2. 800



3. 9.700



4. 9.000



5. 600



6. 9.900



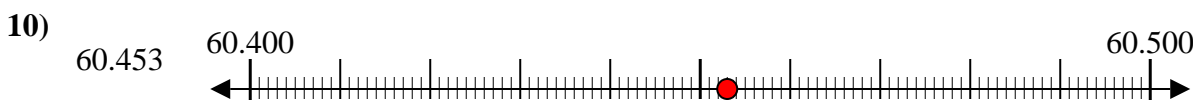
7. 99.300



8. 90.000



9. 17.200



10. 60.500