

**Benutze den doppelten Zahlenstrahl und löse jede Aufgabe.****Antworten**

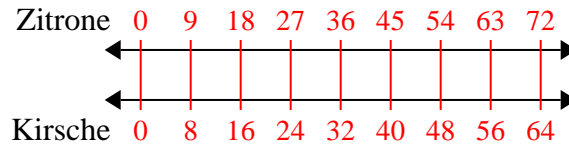
- | | | |
|---|--|---|
| <p>1) Eine Schachtel Süßigkeiten enthielt 8 Kirschstücke für 9 Zitronenstücke. Wenn die Schachtel 72 Zitronenstücke hätte, wie viele Kirschstücke wären es?</p> | <p>Zitrone
←————→
Kirsche
←————→</p> | <p>1. _____
2. _____</p> |
| <p>2) Ein Builder könnte 9 Sheetrock für \$5 erhalten. Wenn er 90-Blätter gekauft hätte, wie viel Geld hätte er ausgegeben?</p> | <p>Blech
←————→
Preis
←————→</p> | <p>3. _____
4. _____</p> |
| <p>3) Ein Rezept fordert 8 Teelöffel Gewürze für jede 5 Charge Hühnchen. Wenn Sie 10 Hähnchenchargen haben, wie viele Teelöffel Gewürz benötigen Sie dann?</p> | <p>Hähnchen
←————→
Würze
←————→</p> | <p>5. _____
6. _____
7. _____</p> |
| <p>4) Für jede 7 Dosen, die Felix zum Recycling gesammelt hat, hat er 9 Cent verdient. Wie viel Geld hätte er verdient, nachdem er 14 Dosen gesammelt hatte?</p> | <p>Büchsen
←————→
Geld
←————→</p> | <p>8. _____</p> |
| <p>5) In einem Videospiel hast du für jeden besiegten 3 Gegner 6 Punkte verdient. Wenn du 24-Feinde besiegt hättest, wie viele Punkte hättest du verdient?</p> | <p>Feinde
←————→
Punkte
←————→</p> | |
| <p>6) Das Verhältnis von Jungen zu Mädchen im Park betrug 9 zu 5. Wenn es 18 Jungen gab, wie viele Mädchen waren es?</p> | <p>Jungs
←————→
Mädchen
←————→</p> | |
| <p>7) Auf ihrem MP3-Player hatte sie für jeden 7-Pop-Song Katharina auch 8-Country-Song. Wenn sie 49 Popsongs auf ihrem MP3-Player hat, wie viele Country-Songs hat sie dann?</p> | <p>Pop
←————→
Land
←————→</p> | |
| <p>8) Ein schlampiges Joe-Restaurant gab 8 Servietten für jeden bestellten 9 Artikel. Wenn jemand 90-Artikel gekauft hat, wie viele Servietten sollte er bekommen?</p> | <p>Artikel
←————→
ervietten
←————→</p> | |



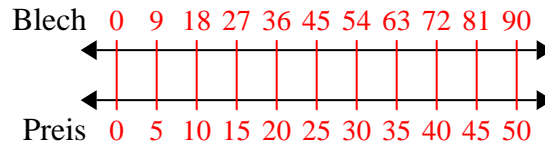
Benutze den doppelten Zahlenstrahl und löse jede Aufgabe.

Antworten

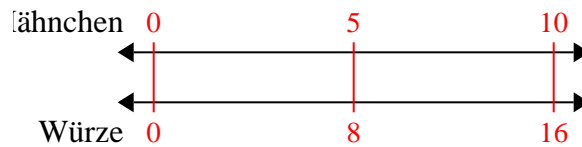
- 1) Eine Schachtel Süßigkeiten enthielt 8 Kirschstücke für 9 Zitronenstücke. Wenn die Schachtel 72 Zitronenstücke hätte, wie viele Kirschstücke wären es?

1. **64**

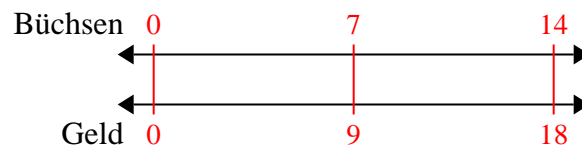
- 2) Ein Builder könnte 9 Sheetrock für \$5 erhalten. Wenn er 90-Blätter gekauft hätte, wie viel Geld hätte er ausgegeben?

2. **50**3. **16**4. **18**

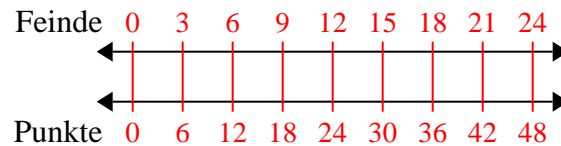
- 3) Ein Rezept fordert 8 Teelöffel Gewürze für jede 5 Charge Hühnchen. Wenn Sie 10 Hähnchenchargen haben, wie viele Teelöffel Gewürz benötigen Sie dann?

5. **48**6. **10**7. **56**

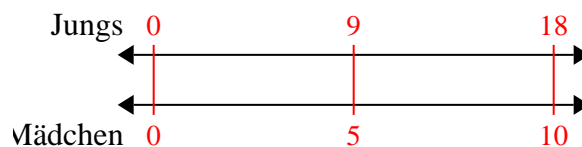
- 4) Für jede 7 Dosen, die Felix zum Recycling gesammelt hat, hat er 9 Cent verdient. Wie viel Geld hätte er verdient, nachdem er 14 Dosen gesammelt hatte?

8. **80**

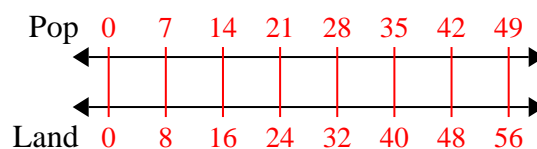
- 5) In einem Videospiel hast du für jeden besiegten 3 Gegner 6 Punkte verdient. Wenn du 24-Feinde besiegt hättest, wie viele Punkte hättest du verdient?



- 6) Das Verhältnis von Jungen zu Mädchen im Park betrug 9 zu 5. Wenn es 18 Jungen gab, wie viele Mädchen waren es?



- 7) Auf ihrem MP3-Player hatte sie für jeden 7-Pop-Song Katharina auch 8-Country-Song. Wenn sie 49 Popsongs auf ihrem MP3-Player hat, wie viele Country-Songs hat sie dann?



- 8) Ein schlampiges Joe-Restaurant gab 8 Servietten für jeden bestellten 9 Artikel. Wenn jemand 90-Artikel gekauft hat, wie viele Servietten sollte er bekommen?

