

**Benutze den doppelten Zahlenstrahl und löse jede Aufgabe.****Antworten**

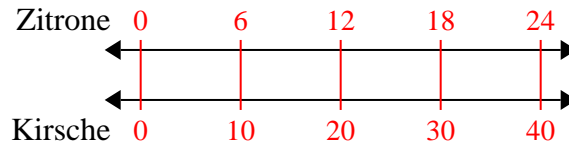
- |  |  |                                  |
|--|--|----------------------------------|
| 1) Eine Schachtel Süßigkeiten enthielt 10 Kirschstücke für 6 Zitronenstücke. Wenn die Schachtel 24 Zitronenstücke hätte, wie viele Kirschstücke wären es?                              | Zitrone<br>←————→<br>Kirsche<br>←————→   | 1. _____<br>2. _____             |
| 2) Bei einer Spendenaktion in einer Schule erhalten Sie für jede verkaufte 3 Schachtel Schokolade 8 Punkte. Wenn Sie 21-Kisten verkaufen würden, wie viele Punkte hätten Sie verdient? | Kisten<br>←————→<br>Punkte<br>←————→     | 3. _____<br>4. _____<br>5. _____ |
| 3) Für jede 5 Dosen, die Felix zum Recycling gesammelt hat, hat er 4 Cent verdient. Wie viel Geld hätte er verdient, nachdem er 30 Dosen gesammelt hatte?                              | Büchsen<br>←————→<br>Geld<br>←————→      | 6. _____<br>7. _____             |
| 4) Ein schlampiges Joe-Restaurant gab 5 Servietten für jeden bestellten 6 Artikel. Wenn jemand 12-Artikel gekauft hat, wie viele Servietten sollte er bekommen?                        | Artikel<br>←————→<br>ervietten<br>←————→ | 8. _____                         |
| 5) Ein Rezept fordert 4 Teelöffel Gewürze für jede 8 Charge Hühnchen. Wenn Sie 48 Hähnchenchargen haben, wie viele Teelöffel Gewürz benötigen Sie dann?                                | lähnchen<br>←————→<br>Würze<br>←————→    |                                  |
| 6) In einem Videospiel hast du für jeden besiegten 3 Gegner 5 Punkte verdient. Wenn du 6-Feinde besiegt hättest, wie viele Punkte hättest du verdient?                                 | Feinde<br>←————→<br>Punkte<br>←————→     |                                  |
| 7) In einem Geschäft gab es einen Sale, bei dem Sie 9 Tüten Cashewnüsse für 6 \$ erhalten konnten. Wenn Sie 18-Taschen kaufen möchten, wie viel würde das kosten?                      | ewkerne<br>←————→<br>Preis<br>←————→     |                                  |
| 8) Das Verhältnis von Jungen zu Mädchen im Park betrug 4 zu 9. Wenn es 28 Jungen gab, wie viele Mädchen waren es?  | Jungs<br>←————→<br>Mädchen<br>←————→     |                                  |



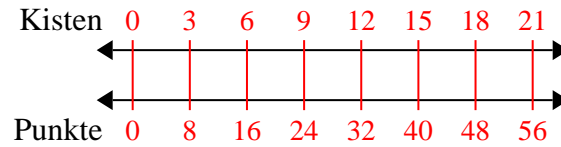
Benutze den doppelten Zahlenstrahl und löse jede Aufgabe.

**Antworten**

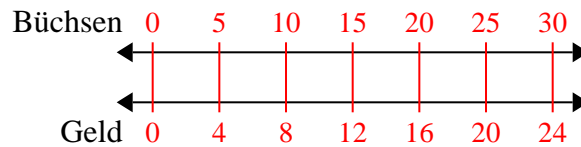
- 1) Eine Schachtel Süßigkeiten enthielt 10 Kirschstücke für 6 Zitronenstücke. Wenn die Schachtel 24 Zitronenstücke hätte, wie viele Kirschstücke wären es?

1. **40**

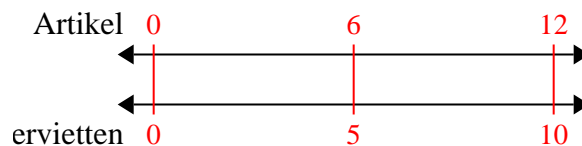
- 2) Bei einer Spendenaktion in einer Schule erhalten Sie für jede verkaufte 3 Schachtel Schokolade 8 Punkte. Wenn Sie 21-Kisten verkaufen würden, wie viele Punkte hätten Sie verdient?

2. **56**3. **24**4. **10**5. **24**

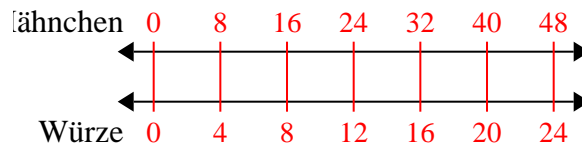
- 3) Für jede 5 Dosen, die Felix zum Recycling gesammelt hat, hat er 4 Cent verdient. Wie viel Geld hätte er verdient, nachdem er 30 Dosen gesammelt hatte?

6. **10**7. **12**

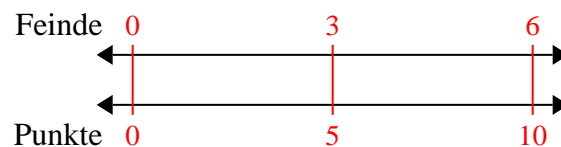
- 4) Ein schlampiges Joe-Restaurant gab 5 Servietten für jeden bestellten 6 Artikel. Wenn jemand 12-Artikel gekauft hat, wie viele Servietten sollte er bekommen?

8. **63**

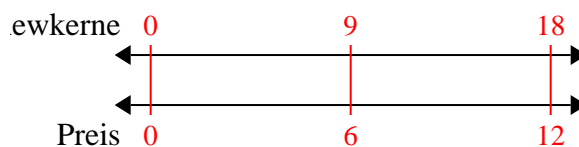
- 5) Ein Rezept fordert 4 Teelöffel Gewürze für jede 8 Charge Hühnchen. Wenn Sie 48 Hähnchenchargen haben, wie viele Teelöffel Gewürz benötigen Sie dann?



- 6) In einem Videospiel hast du für jeden besiegten 3 Gegner 5 Punkte verdient. Wenn du 6-Feinde besiegt hättest, wie viele Punkte hättest du verdient?



- 7) In einem Geschäft gab es einen Sale, bei dem Sie 9 Tüten Cashewnüsse für 6 \$ erhalten konnten. Wenn Sie 18-Taschen kaufen möchten, wie viel würde das kosten?



- 8) Das Verhältnis von Jungen zu Mädchen im Park betrug 4 zu 9. Wenn es 28 Jungen gab, wie viele Mädchen waren es?

