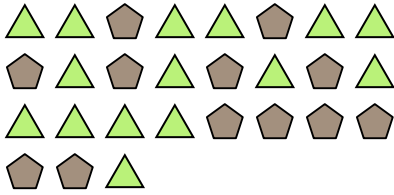




Löse jede Aufgabe.


Antworten

Bsp) Was ist das Verhältnis von Fünfecke zu Dreiecke?



Bsp. **12:15**

1) Was ist das Verhältnis von Kreise zu moons?




1. _____

2) Was ist das Verhältnis von Sterne zu Rechtecke?



2. _____

3) Was ist das Verhältnis von moons zu Fünfecke?



3. _____

4) Was ist das Verhältnis von hearts zu moons?



4. _____

5) Was ist das Verhältnis von Sterne zu Dreiecke?




5. _____

6) Was ist das Verhältnis von moons zu Sterne?



6. _____

7) Was ist das Verhältnis von Fünfecke zu hearts?




7. _____

8) Was ist das Verhältnis von Fünfecke zu Sterne?



8. _____

9) Was ist das Verhältnis von Kreise zu moons?



9. _____

10) Was ist das Verhältnis von Sterne zu moons?



10. _____

11) Was ist das Verhältnis von Dreiecke zu Fünfecke?

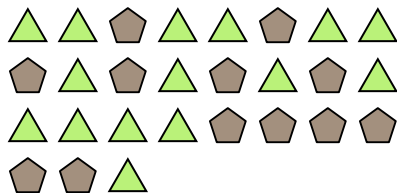


11. _____




Löse jede Aufgabe.

Bsp) Was ist das Verhältnis von Fünfecke zu Dreiecke?



1) Was ist das Verhältnis von Kreise zu moons?




Antworten

Bsp. 12:15

2) Was ist das Verhältnis von Sterne zu Rechtecke?



3) Was ist das Verhältnis von moons zu Fünfecke?



1. 11:11

4) Was ist das Verhältnis von hearts zu moons?



5) Was ist das Verhältnis von Sterne zu Dreiecke?




2. 7:9

6) Was ist das Verhältnis von moons zu Sterne?



7) Was ist das Verhältnis von Fünfecke zu hearts?




3. 3:15

4. 9:2

8) Was ist das Verhältnis von Fünfecke zu Sterne?



9) Was ist das Verhältnis von Kreise zu moons?



5. 4:11

6. 12:8

10) Was ist das Verhältnis von Sterne zu moons?



11) Was ist das Verhältnis von Dreiecke zu Fünfecke?



7. 8:10

8. 11:2

9. 15:11

10. 4:5

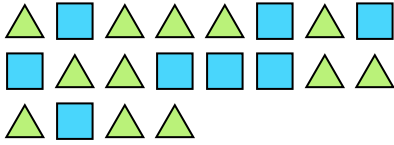
11. 11:3



Löse jede Aufgabe.

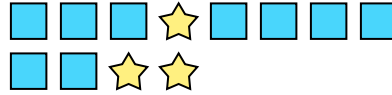
Antworten

Bsp) Was ist das Verhältnis von Dreiecke zu Rechtecke?



Bsp. **12:8**

1) Was ist das Verhältnis von Sterne zu Rechtecke?



1. _____

2) Was ist das Verhältnis von moons zu Sterne?




2. _____

3) Was ist das Verhältnis von moons zu Sterne?




3. _____

4) Was ist das Verhältnis von Sterne zu hearts?



4. _____

5) Was ist das Verhältnis von Dreiecke zu hearts?



5. _____

6) Was ist das Verhältnis von hearts zu moons?




6. _____

7) Was ist das Verhältnis von hearts zu Sterne?



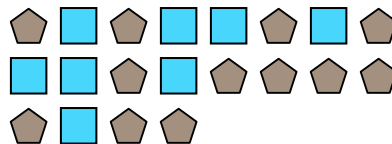
7. _____

8) Was ist das Verhältnis von hearts zu Kreise?



8. _____

9) Was ist das Verhältnis von Rechtecke zu Fünfecke?




9. _____

10) Was ist das Verhältnis von hearts zu Fünfecke?



10. _____

11) Was ist das Verhältnis von Rechtecke zu Sterne?

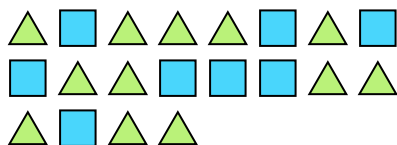


11. _____



Löse jede Aufgabe.

Bsp) Was ist das Verhältnis von Dreiecke zu Rechtecke?



1) Was ist das Verhältnis von Sterne zu Rechtecke?




2) Was ist das Verhältnis von moons zu Sterne?



3) Was ist das Verhältnis von moons zu Sterne?



4) Was ist das Verhältnis von Sterne zu hearts?



5) Was ist das Verhältnis von Dreiecke zu hearts?



6) Was ist das Verhältnis von hearts zu moons?



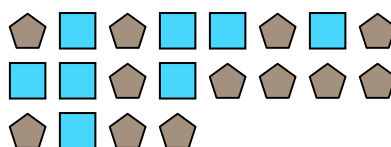
7) Was ist das Verhältnis von hearts zu Sterne?



8) Was ist das Verhältnis von hearts zu Kreise?




9) Was ist das Verhältnis von Rechtecke zu Fünfecke?



10) Was ist das Verhältnis von hearts zu Fünfecke?



11) Was ist das Verhältnis von Rechtecke zu Sterne?

**Antworten**Bsp. 12:81. 3:92. 11:23. 10:44. 8:115. 8:66. 2:107. 9:138. 9:79. 8:1210. 4:211. 13:14



Löse jede Aufgabe.

Antworten

Bsp) Was ist das Verhältnis von moons zu hearts?



1) Was ist das Verhältnis von Sterne zu hearts?



Bsp. **15:7**

1. _____

2. _____

3. _____

4. _____

5. _____

6. _____

7. _____

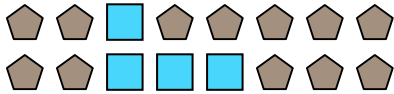
8. _____

9. _____


10. _____

11. _____


2) Was ist das Verhältnis von Rechtecke zu Fünfecke?




3) Was ist das Verhältnis von hearts zu Rechtecke?



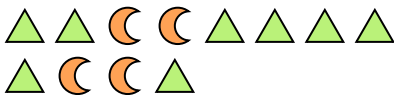
4) Was ist das Verhältnis von Sterne zu Kreise?



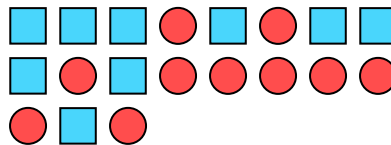
5) Was ist das Verhältnis von hearts zu moons?



6) Was ist das Verhältnis von moons zu Dreiecke?



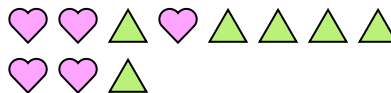
7) Was ist das Verhältnis von Rechtecke zu Kreise?



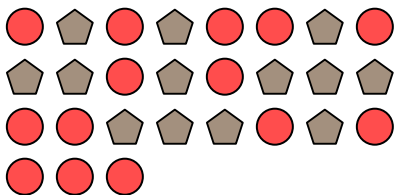
8) Was ist das Verhältnis von Sterne zu hearts?




9) Was ist das Verhältnis von Dreiecke zu hearts?



10) Was ist das Verhältnis von Kreise zu Fünfecke?



11) Was ist das Verhältnis von Sterne zu Rechtecke?





Löse jede Aufgabe.

Antworten

Bsp) Was ist das Verhältnis von moons zu hearts?



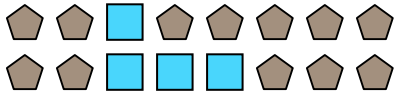
1) Was ist das Verhältnis von Sterne zu hearts?




Bsp. 15:7

1. 3:10

2) Was ist das Verhältnis von Rechtecke zu Fünfecke?



3) Was ist das Verhältnis von hearts zu Rechtecke?




2. 4:12


3. 6:3

4. 2:15

4) Was ist das Verhältnis von Sterne zu Kreise?



5) Was ist das Verhältnis von hearts zu moons?



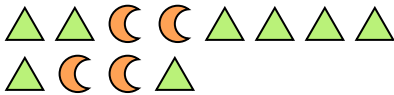
5. 9:10

6. 4:8

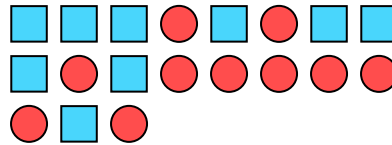
7. 9:10

8. 2:8

6) Was ist das Verhältnis von moons zu Dreiecke?



7) Was ist das Verhältnis von Rechtecke zu Kreise?



9. 6:5

10. 14:13

11. 7:10

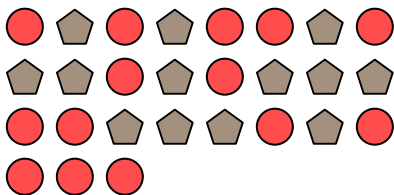
8) Was ist das Verhältnis von Sterne zu hearts?




9) Was ist das Verhältnis von Dreiecke zu hearts?



10) Was ist das Verhältnis von Kreise zu Fünfecke?



11) Was ist das Verhältnis von Sterne zu Rechtecke?





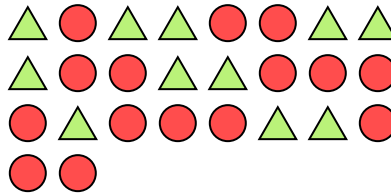
Löse jede Aufgabe.

Antworten

Bsp) Was ist das Verhältnis von Dreiecke zu Sterne?



1) Was ist das Verhältnis von Kreise zu Dreiecke?



Bsp. **3:9**

1. _____

2. _____

3. _____

4. _____

5. _____

6. _____

7. _____

8. _____

9. _____

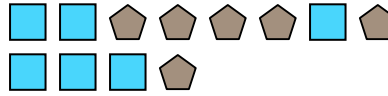
10. _____

11. _____


2) Was ist das Verhältnis von Fünfecke zu moons?



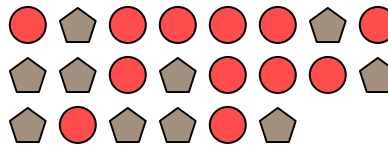
3) Was ist das Verhältnis von Rechtecke zu Fünfecke?



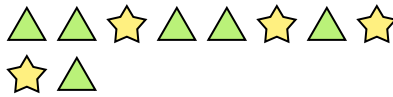
4) Was ist das Verhältnis von moons zu hearts?




5) Was ist das Verhältnis von Kreise zu Fünfecke?




6) Was ist das Verhältnis von Dreiecke zu Sterne?




7) Was ist das Verhältnis von hearts zu Kreise?




8) Was ist das Verhältnis von hearts zu Kreise?



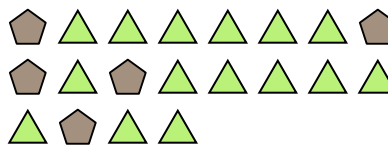
9) Was ist das Verhältnis von hearts zu Kreise?



10) Was ist das Verhältnis von Rechtecke zu moons?



11) Was ist das Verhältnis von Dreiecke zu Fünfecke?





Löse jede Aufgabe.

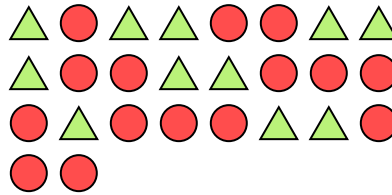
Antworten

Bsp) Was ist das Verhältnis von Dreiecke zu Sterne?



Bsp. 3:9

1) Was ist das Verhältnis von Kreise zu Dreiecke?



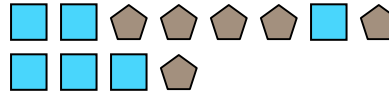
1. 15:11

2) Was ist das Verhältnis von Fünfecke zu moons?




2. 4:11

3) Was ist das Verhältnis von Rechtecke zu Fünfecke?



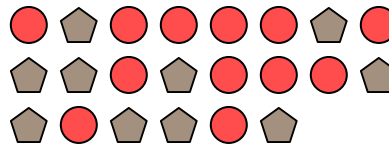
3. 6:6

4) Was ist das Verhältnis von moons zu hearts?



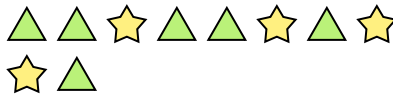
4. 8:14

5) Was ist das Verhältnis von Kreise zu Fünfecke?




5. 12:10

6) Was ist das Verhältnis von Dreiecke zu Sterne?




6. 6:4

7) Was ist das Verhältnis von hearts zu Kreise?




7. 8:11

8) Was ist das Verhältnis von hearts zu Kreise?




8. 15:8

9) Was ist das Verhältnis von hearts zu Kreise?



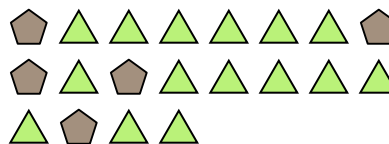
9. 5:9

10) Was ist das Verhältnis von Rechtecke zu moons?



10. 6:13

11) Was ist das Verhältnis von Dreiecke zu Fünfecke?



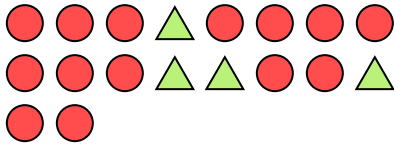
11. 15:5




Löse jede Aufgabe.

Antworten

Bsp) Was ist das Verhältnis von Dreiecke zu Kreise?



1) Was ist das Verhältnis von moons zu Fünfecke?



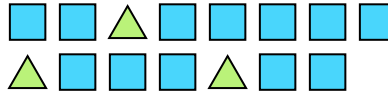
Bsp. 4:14

1. 15:8

2) Was ist das Verhältnis von Kreise zu Sterne?



3) Was ist das Verhältnis von Rechtecke zu Dreiecke?



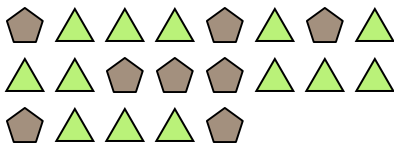
2. 9:7

3. 12:3

4. 13:8

5. 4:10

4) Was ist das Verhältnis von Dreiecke zu Fünfecke?



5) Was ist das Verhältnis von Dreiecke zu hearts?



6. 5:4

7. 11:12


8. 7:5

9. 6:13

6) Was ist das Verhältnis von moons zu Kreise?



7) Was ist das Verhältnis von Kreise zu moons?




10. 8:15

11. 2:3


8) Was ist das Verhältnis von moons zu Sterne?



9) Was ist das Verhältnis von Sterne zu Fünfecke?



10) Was ist das Verhältnis von Kreise zu moons?



11) Was ist das Verhältnis von Fünfecke zu moons?





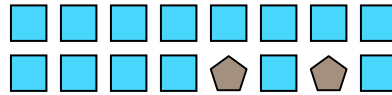
Löse jede Aufgabe.

Antworten

Bsp) Was ist das Verhältnis von moons zu Rechtecke?



1) Was ist das Verhältnis von Rechtecke zu Fünfecke?



Bsp. **6:2**

1. _____

2. _____

3. _____

4. _____

5. _____

6. _____

7. _____

8. _____

9. _____


10. _____

11. _____


2) Was ist das Verhältnis von Sterne zu Dreiecke?



3) Was ist das Verhältnis von Sterne zu Dreiecke?



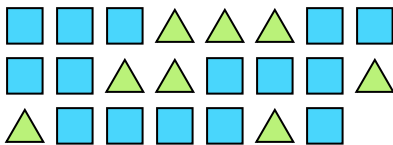
4) Was ist das Verhältnis von moons zu Kreise?




5) Was ist das Verhältnis von Rechtecke zu Fünfecke?



6) Was ist das Verhältnis von Dreiecke zu Rechtecke?



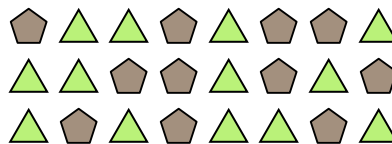
7) Was ist das Verhältnis von Sterne zu Kreise?



8) Was ist das Verhältnis von Sterne zu hearts?



9) Was ist das Verhältnis von Dreiecke zu Fünfecke?



10) Was ist das Verhältnis von Kreise zu moons?



11) Was ist das Verhältnis von hearts zu Sterne?



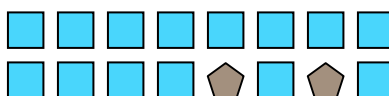


Löse jede Aufgabe.

Bsp) Was ist das Verhältnis von moons zu Rechtecke?



1) Was ist das Verhältnis von Rechtecke zu Fünfecke?




Antworten

Bsp. 6:2

2) Was ist das Verhältnis von Sterne zu Dreiecke?



3) Was ist das Verhältnis von Sterne zu Dreiecke?



1. 14:2

2. 11:8


3. 13:12

4. 5:9

5. 4:3

6. 8:15

4) Was ist das Verhältnis von moons zu Kreise?



5) Was ist das Verhältnis von Rechtecke zu Fünfecke?



7. 9:15

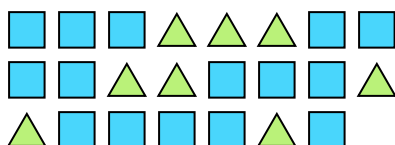
8. 6:7

9. 13:11

10. 3:2

11. 3:9

6) Was ist das Verhältnis von Dreiecke zu Rechtecke?



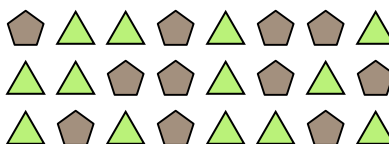
7) Was ist das Verhältnis von Sterne zu Kreise?



8) Was ist das Verhältnis von Sterne zu hearts?



9) Was ist das Verhältnis von Dreiecke zu Fünfecke?



10) Was ist das Verhältnis von Kreise zu moons?



11) Was ist das Verhältnis von hearts zu Sterne?






Löse jede Aufgabe.


Antworten

Bsp) Was ist das Verhältnis von Sterne zu Fünfecke?



Bsp. **15:10**

1) Was ist das Verhältnis von Fünfecke zu Sterne?



1. _____

2) Was ist das Verhältnis von hearts zu Rechtecke?




2. _____

3) Was ist das Verhältnis von Fünfecke zu Sterne?



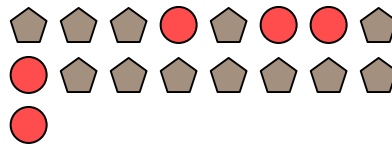
3. _____

4) Was ist das Verhältnis von Sterne zu Kreise?




4. _____

5) Was ist das Verhältnis von Kreise zu Fünfecke?



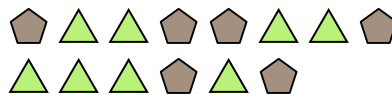
5. _____

6) Was ist das Verhältnis von Fünfecke zu hearts?



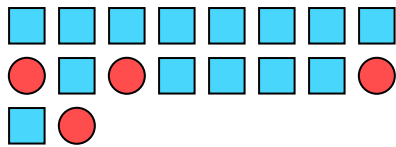
6. _____

7) Was ist das Verhältnis von Dreiecke zu Fünfecke?



7. _____

8) Was ist das Verhältnis von Rechtecke zu Kreise?



8. _____

9) Was ist das Verhältnis von Sterne zu Fünfecke?



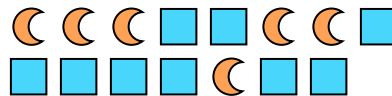
9. _____

10) Was ist das Verhältnis von moons zu hearts?



10. _____

11) Was ist das Verhältnis von moons zu Rechtecke?




11. _____



Löse jede Aufgabe.


Antworten

Bsp) Was ist das Verhältnis von Sterne zu Fünfecke?



Bsp. 15:10

1) Was ist das Verhältnis von Fünfecke zu Sterne?



1. 8:12

2) Was ist das Verhältnis von hearts zu Rechtecke?




2. 10:2

3) Was ist das Verhältnis von Fünfecke zu Sterne?



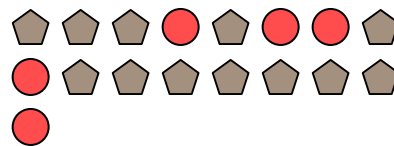
3. 11:5

4) Was ist das Verhältnis von Sterne zu Kreise?




4. 3:10

5) Was ist das Verhältnis von Kreise zu Fünfecke?



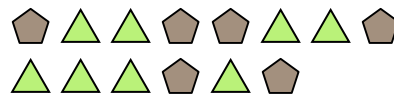
5. 5:12

6) Was ist das Verhältnis von Fünfecke zu hearts?



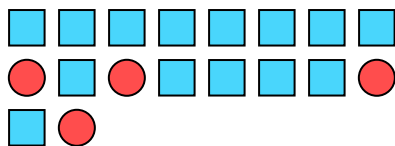
6. 14:15

7) Was ist das Verhältnis von Dreiecke zu Fünfecke?



7. 8:6

8) Was ist das Verhältnis von Rechtecke zu Kreise?



8. 14:4

9) Was ist das Verhältnis von Sterne zu Fünfecke?



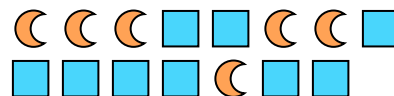
9. 7:5

10) Was ist das Verhältnis von moons zu hearts?



10. 8:5

11) Was ist das Verhältnis von moons zu Rechtecke?



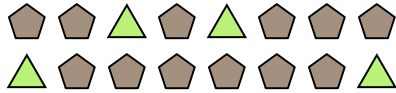
11. 6:9



Löse jede Aufgabe.

Antworten

Bsp) Was ist das Verhältnis von Dreiecke zu Fünfecke?



1) Was ist das Verhältnis von Sterne zu moons?



Bsp. **4:12**

1. _____

2. _____

3. _____

4. _____

5. _____

6. _____

7. _____

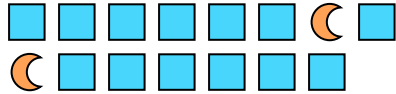
8. _____

9. _____


10. _____

11. _____

2) Was ist das Verhältnis von moons zu Rechtecke?



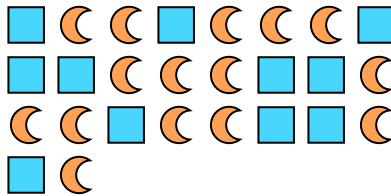
3) Was ist das Verhältnis von Fünfecke zu moons?



4) Was ist das Verhältnis von Sterne zu Fünfecke?




5) Was ist das Verhältnis von moons zu Rechtecke?




6) Was ist das Verhältnis von Sterne zu Kreise?



7) Was ist das Verhältnis von Kreise zu Sterne?



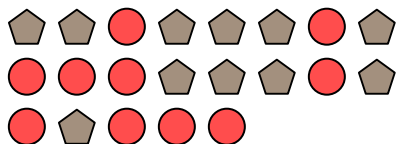
8) Was ist das Verhältnis von Kreise zu moons?




9) Was ist das Verhältnis von Fünfecke zu Sterne?



10) Was ist das Verhältnis von Fünfecke zu Kreise?



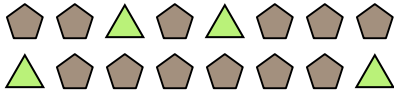
11) Was ist das Verhältnis von Rechtecke zu hearts?





Löse jede Aufgabe.

Bsp) Was ist das Verhältnis von Dreiecke zu Fünfecke?



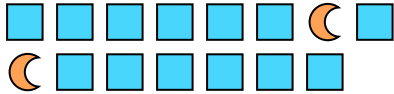
1) Was ist das Verhältnis von Sterne zu moons?




Antworten

Bsp. 4:12

2) Was ist das Verhältnis von moons zu Rechtecke?



3) Was ist das Verhältnis von Fünfecke zu moons?




1. 9:12

2. 2:13

4) Was ist das Verhältnis von Sterne zu Fünfecke?



5) Was ist das Verhältnis von moons zu Rechtecke?



3. 10:13

4. 12:5

5. 15:11

6. 7:9

7. 12:7


8. 8:15

9. 7:4

6) Was ist das Verhältnis von Sterne zu Kreise?




7) Was ist das Verhältnis von Kreise zu Sterne?



10. 11:10

11. 4:6

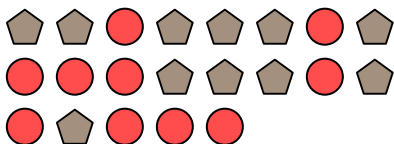
8) Was ist das Verhältnis von Kreise zu moons?




9) Was ist das Verhältnis von Fünfecke zu Sterne?



10) Was ist das Verhältnis von Fünfecke zu Kreise?



11) Was ist das Verhältnis von Rechtecke zu hearts?





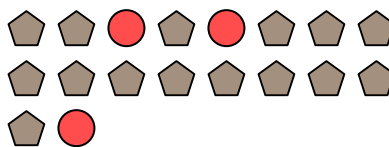
Löse jede Aufgabe.

Antworten

Bsp) Was ist das Verhältnis von Sterne zu Fünfecke?



1) Was ist das Verhältnis von Kreise zu Fünfecke?




Bsp. **6:3**

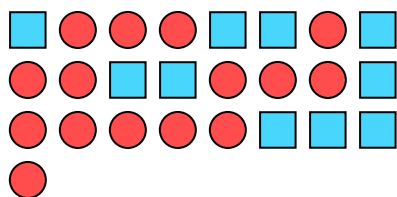
2) Was ist das Verhältnis von Kreise zu moons?



3) Was ist das Verhältnis von Dreiecke zu moons?



4) Was ist das Verhältnis von Kreise zu Rechtecke?



5) Was ist das Verhältnis von hearts zu Sterne?



6) Was ist das Verhältnis von Kreise zu Dreiecke?




7) Was ist das Verhältnis von hearts zu Fünfecke?




8) Was ist das Verhältnis von Fünfecke zu Sterne?




9) Was ist das Verhältnis von Sterne zu Dreiecke?



10) Was ist das Verhältnis von Rechtecke zu moons?



11) Was ist das Verhältnis von Sterne zu Kreise?



- 1. _____
- 2. _____
- 3. _____
- 4. _____
- 5. _____
- 6. _____
- 7. _____
- 8. _____
- 9. _____
- 10. _____
- 11. _____

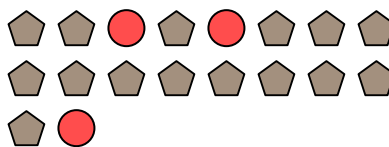


Löse jede Aufgabe.

Bsp) Was ist das Verhältnis von Sterne zu Fünfecke?




1) Was ist das Verhältnis von Kreise zu Fünfecke?



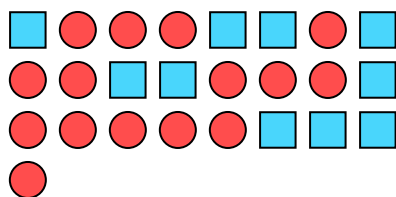
2) Was ist das Verhältnis von Kreise zu moons?



3) Was ist das Verhältnis von Dreiecke zu moons?



4) Was ist das Verhältnis von Kreise zu Rechtecke?



5) Was ist das Verhältnis von hearts zu Sterne?



6) Was ist das Verhältnis von Kreise zu Dreiecke?




7) Was ist das Verhältnis von hearts zu Fünfecke?




8) Was ist das Verhältnis von Fünfecke zu Sterne?




9) Was ist das Verhältnis von Sterne zu Dreiecke?



10) Was ist das Verhältnis von Rechtecke zu moons?



11) Was ist das Verhältnis von Sterne zu Kreise?



Antworten

Bsp. 6:3

1. 3:15

2. 4:5

3. 4:13

4. 15:10

5. 2:13

6. 3:4

7. 5:6

8. 5:4

9. 5:15

10. 8:15

11. 13:6




Löse jede Aufgabe.

Antworten

Bsp) Was ist das Verhältnis von moons zu Sterne?



1) Was ist das Verhältnis von moons zu Dreiecke?



Bsp. **5:10**

1. _____

2. _____

3. _____

4. _____

5. _____

6. _____

7. _____


8. _____

9. _____


10. _____

11. _____

2) Was ist das Verhältnis von hearts zu Rechtecke?




3) Was ist das Verhältnis von Dreiecke zu hearts?




4) Was ist das Verhältnis von Sterne zu hearts?



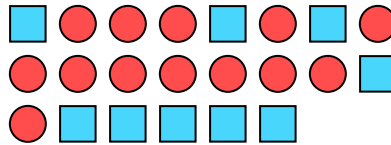
5) Was ist das Verhältnis von Sterne zu Dreiecke?



6) Was ist das Verhältnis von Fünfecke zu moons?



7) Was ist das Verhältnis von Kreise zu Rechtecke?



8) Was ist das Verhältnis von Sterne zu Fünfecke?




9) Was ist das Verhältnis von Dreiecke zu Sterne?



10) Was ist das Verhältnis von Sterne zu Kreise?



11) Was ist das Verhältnis von Sterne zu hearts?






Löse jede Aufgabe.

Bsp) Was ist das Verhältnis von moons zu Sterne?




1) Was ist das Verhältnis von moons zu Dreiecke?




Bsp. 5:10

1. 14:13

2) Was ist das Verhältnis von hearts zu Rechtecke?



3) Was ist das Verhältnis von Dreiecke zu hearts?



2. 11:7

3. 14:15

4. 8:3

4) Was ist das Verhältnis von Sterne zu hearts?



5) Was ist das Verhältnis von Sterne zu Dreiecke?



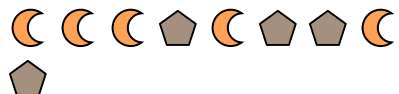
5. 2:3

6. 4:5

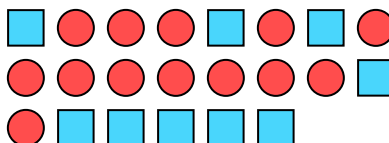
7. 13:9

8. 15:7

6) Was ist das Verhältnis von Fünfecke zu moons?



7) Was ist das Verhältnis von Kreise zu Rechtecke?



9. 10:8

10. 2:4

11. 2:11

8) Was ist das Verhältnis von Sterne zu Fünfecke?



9) Was ist das Verhältnis von Dreiecke zu Sterne?



10) Was ist das Verhältnis von Sterne zu Kreise?



11) Was ist das Verhältnis von Sterne zu hearts?

