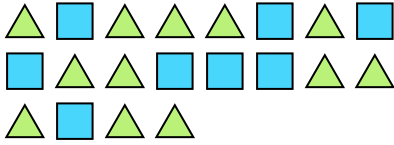




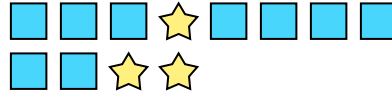
Löse jede Aufgabe.

Antworten

Bsp) Was ist das Verhältnis von Dreiecke zu Rechtecke?



1) Was ist das Verhältnis von Sterne zu Rechtecke?



Bsp. **12:8**

1. _____

2. _____

3. _____

4. _____

5. _____

6. _____

7. _____

8. _____

9. _____

10. _____

11. _____


2) Was ist das Verhältnis von moons zu Sterne?




3) Was ist das Verhältnis von moons zu Sterne?



4) Was ist das Verhältnis von Sterne zu hearts?



5) Was ist das Verhältnis von Dreiecke zu hearts?




6) Was ist das Verhältnis von hearts zu moons?



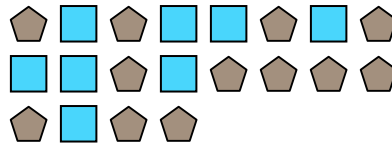
7) Was ist das Verhältnis von hearts zu Sterne?



8) Was ist das Verhältnis von hearts zu Kreise?




9) Was ist das Verhältnis von Rechtecke zu Fünfecke?



10) Was ist das Verhältnis von hearts zu Fünfecke?



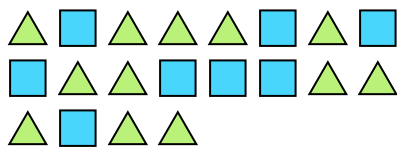
11) Was ist das Verhältnis von Rechtecke zu Sterne?






Löse jede Aufgabe.

Bsp) Was ist das Verhältnis von Dreiecke zu Rechtecke?



1) Was ist das Verhältnis von Sterne zu Rechtecke?




2) Was ist das Verhältnis von moons zu Sterne?



3) Was ist das Verhältnis von moons zu Sterne?



4) Was ist das Verhältnis von Sterne zu hearts?



5) Was ist das Verhältnis von Dreiecke zu hearts?



6) Was ist das Verhältnis von hearts zu moons?



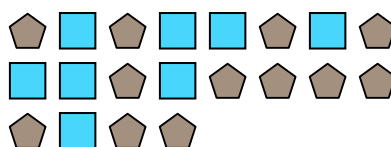
7) Was ist das Verhältnis von hearts zu Sterne?



8) Was ist das Verhältnis von hearts zu Kreise?




9) Was ist das Verhältnis von Rechtecke zu Fünfecke?



10) Was ist das Verhältnis von hearts zu Fünfecke?



11) Was ist das Verhältnis von Rechtecke zu Sterne?



Antworten

Bsp. 12:8

1. 3:9

2. 11:2

3. 10:4

4. 8:11

5. 8:6

6. 2:10

7. 9:13

8. 9:7

9. 8:12

10. 4:2

11. 13:14