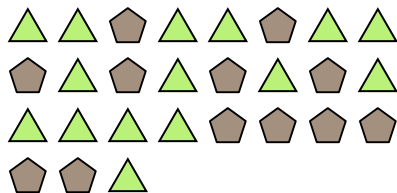




Löse jede Aufgabe.


Antworten

Bsp) Was ist das Verhältnis von Fünfecke zu Dreiecke?



Bsp. **12:15**

1) Was ist das Verhältnis von Kreise zu moons?




1. _____

2) Was ist das Verhältnis von Sterne zu Rechtecke?



2. _____

3) Was ist das Verhältnis von moons zu Fünfecke?



3. _____

4) Was ist das Verhältnis von hearts zu moons?



4. _____

5) Was ist das Verhältnis von Sterne zu Dreiecke?




5. _____

6) Was ist das Verhältnis von moons zu Sterne?



6. _____

7) Was ist das Verhältnis von Fünfecke zu hearts?




7. _____

8) Was ist das Verhältnis von Fünfecke zu Sterne?



8. _____

9) Was ist das Verhältnis von Kreise zu moons?



9. _____

10) Was ist das Verhältnis von Sterne zu moons?



10. _____

11) Was ist das Verhältnis von Dreiecke zu Fünfecke?

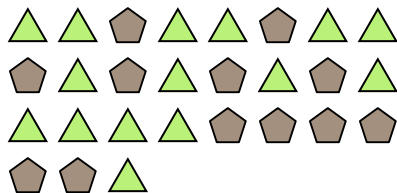


11. _____




Löse jede Aufgabe.

Bsp) Was ist das Verhältnis von Fünfecke zu Dreiecke?



1) Was ist das Verhältnis von Kreise zu moons?




Antworten

Bsp. 12:15

2) Was ist das Verhältnis von Sterne zu Rechtecke?



3) Was ist das Verhältnis von moons zu Fünfecke?



1. 11:11

4) Was ist das Verhältnis von hearts zu moons?



5) Was ist das Verhältnis von Sterne zu Dreiecke?



2. 7:9

3. 3:15

4. 9:2

5. 4:11

6. 12:8

7. 8:10

8. 11:2

9. 15:11


10. 4:5

11. 11:3

6) Was ist das Verhältnis von moons zu Sterne?




7) Was ist das Verhältnis von Fünfecke zu hearts?



8) Was ist das Verhältnis von Fünfecke zu Sterne?



9) Was ist das Verhältnis von Kreise zu moons?



10) Was ist das Verhältnis von Sterne zu moons?



11) Was ist das Verhältnis von Dreiecke zu Fünfecke?

