
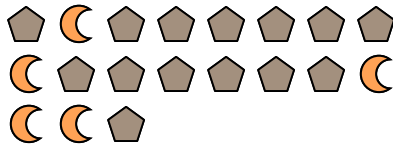
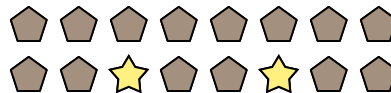



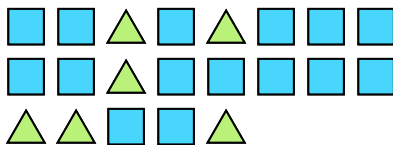
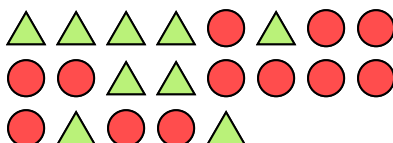






Löse jede Aufgabe.

**Bsp)** Wie lautet das Verhältnis von moons zu Kreise?**1)** Wie lautet das Verhältnis von Sterne zu Kreise?**2)** Wie lautet das Verhältnis von Fünfecke zu moons?**3)** Wie lautet das Verhältnis von Fünfecke zu Sterne?**4)** Wie lautet das Verhältnis von Kreise zu Dreiecke?**5)** Wie lautet das Verhältnis von Kreise zu hearts?**6)** Wie lautet das Verhältnis von Fünfecke zu moons?**7)** Wie lautet das Verhältnis von hearts zu Dreiecke?**8)** Wie lautet das Verhältnis von Rechtecke zu Dreiecke?**9)** Wie lautet das Verhältnis von Sterne zu Fünfecke?**10)** Wie lautet das Verhältnis von Dreiecke zu Kreise?**11)** Wie lautet das Verhältnis von Dreiecke zu Fünfecke?**Antworten**Bsp. **3:3**1. **10:2**2. **14:5**3. **14:2**4. **12:4**5. **14:12**6. **7:4**7. **15:13**8. **15:6**9. **8:7**10. **9:12**11. **3:5**