



Löse jede Aufgabe.

Antworten

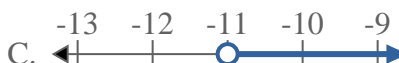
- 1) Bestimme, welche Möglichkeit $X > -5$ anzeigt. 2) Bestimme, welche Möglichkeit $X \geq 12$ anzeigt.



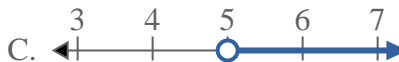
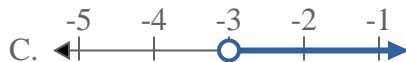
- 3) Bestimme, welche Möglichkeit $X \leq 20$ anzeigt.



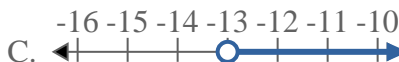
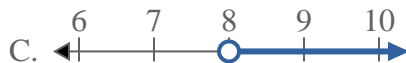
- 4) Bestimme, welche Möglichkeit $X \geq -11$ anzeigt.



- 5) Bestimme, welche Möglichkeit $X > -3$ anzeigt. 6) Bestimme, welche Möglichkeit $X > 5$ anzeigt.



- 7) Bestimme, welche Möglichkeit $X \leq 8$ anzeigt. 8) Bestimme, welche Möglichkeit $X \leq -13$ anzeigt.



1. _____
2. _____
3. _____
4. _____
5. _____
6. _____
7. _____
8. _____



Löse jede Aufgabe.

Antworten

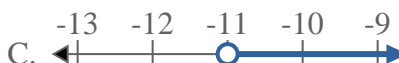
- 1) Bestimme, welche Möglichkeit $X > -5$ anzeigt. 2) Bestimme, welche Möglichkeit $X \geq 12$ anzeigt.



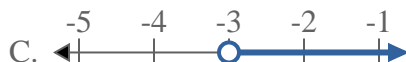
- 3) Bestimme, welche Möglichkeit $X \leq 20$ anzeigt.



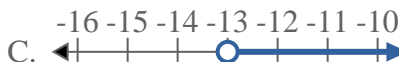
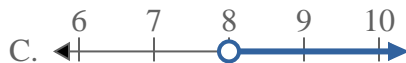
- 4) Bestimme, welche Möglichkeit $X \geq -11$ anzeigt.



- 5) Bestimme, welche Möglichkeit $X > -3$ anzeigt. 6) Bestimme, welche Möglichkeit $X > 5$ anzeigt.



- 7) Bestimme, welche Möglichkeit $X \leq 8$ anzeigt. 8) Bestimme, welche Möglichkeit $X \leq -13$ anzeigt.



1. **C**

2. **D**

3. **B**

4. **D**

5. **C**

6. **C**

7. **B**

8. **B**