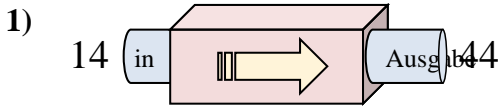


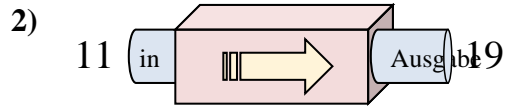


Stelle fest, welche Regel die Funktionsmaschine anwendet.

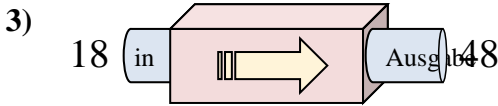
Antworten



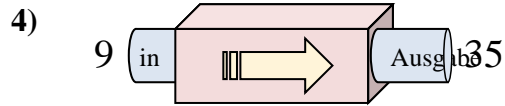
- A. 27 hinzufügen
- B. 30 hinzufügen
- C. 25 hinzufügen
- D. Subtrahieren von 32



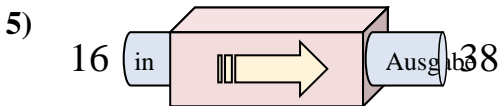
- A. 8 hinzufügen
- B. 6 hinzufügen
- C. Subtrahieren von 3
- D. 4 hinzufügen



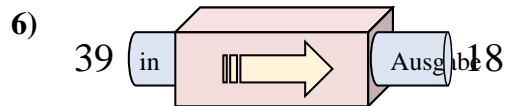
- A. Subtrahieren von 25
- B. 30 hinzufügen
- C. 29 hinzufügen
- D. 34 hinzufügen



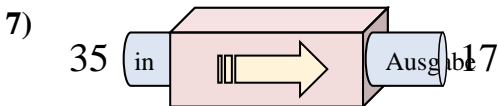
- A. 28 hinzufügen
- B. 26 hinzufügen
- C. Subtrahieren von 30
- D. Subtrahieren von 22



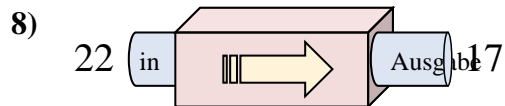
- A. 22 hinzufügen
- B. 27 hinzufügen
- C. 24 hinzufügen
- D. Subtrahieren von 17



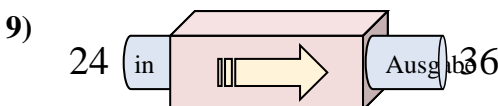
- A. Subtrahieren von 20
- B. Subtrahieren von 23
- C. Subtrahieren von 16
- D. Subtrahieren von 21



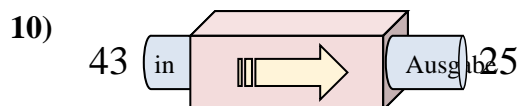
- A. Subtrahieren von 17
- B. 21 hinzufügen
- C. Subtrahieren von 14
- D. Subtrahieren von 18



- A. Subtrahieren von 10
- B. 2 hinzufügen
- C. Subtrahieren von 6
- D. Subtrahieren von 5



- A. Subtrahieren von 17
- B. Subtrahieren von 12
- C. 12 hinzufügen
- D. 9 hinzufügen

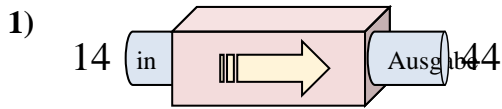


- A. 15 hinzufügen
- B. Subtrahieren von 16
- C. 13 hinzufügen
- D. Subtrahieren von 18

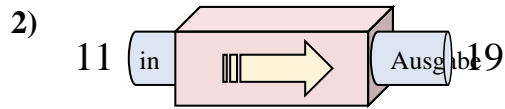
- 1. _____
- 2. _____
- 3. _____
- 4. _____
- 5. _____
- 6. _____
- 7. _____
- 8. _____
- 9. _____
- 10. _____



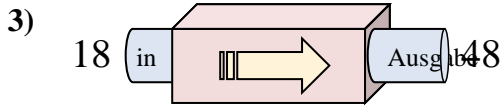
Stelle fest, welche Regel die Funktionsmaschine anwendet.

Antworten

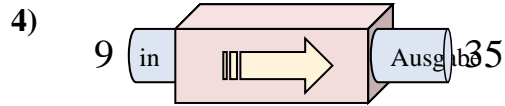
- A. 27 hinzufügen
- B. 30 hinzufügen
- C. 25 hinzufügen
- D. Subtrahieren von 32



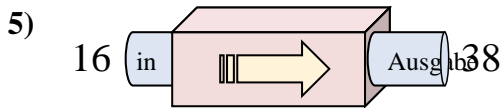
- A. 8 hinzufügen
- B. 6 hinzufügen
- C. Subtrahieren von 3
- D. 4 hinzufügen



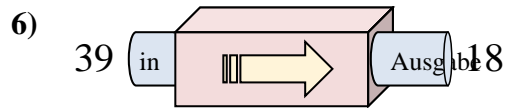
- A. Subtrahieren von 25
- B. 30 hinzufügen
- C. 29 hinzufügen
- D. 34 hinzufügen



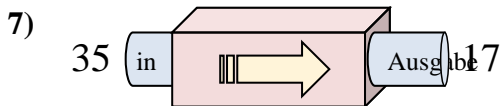
- A. 28 hinzufügen
- B. 26 hinzufügen
- C. Subtrahieren von 30
- D. Subtrahieren von 22



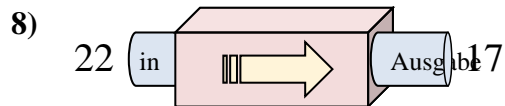
- A. 22 hinzufügen
- B. 27 hinzufügen
- C. 24 hinzufügen
- D. Subtrahieren von 17



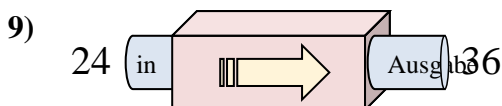
- A. Subtrahieren von 20
- B. Subtrahieren von 23
- C. Subtrahieren von 16
- D. Subtrahieren von 21



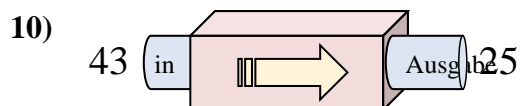
- A. Subtrahieren von 17
- B. 21 hinzufügen
- C. Subtrahieren von 14
- D. Subtrahieren von 18



- A. Subtrahieren von 10
- B. 2 hinzufügen
- C. Subtrahieren von 6
- D. Subtrahieren von 5



- A. Subtrahieren von 17
- B. Subtrahieren von 12
- C. 12 hinzufügen
- D. 9 hinzufügen



- A. 15 hinzufügen
- B. Subtrahieren von 16
- C. 13 hinzufügen
- D. Subtrahieren von 18

1. **B**
2. **A**
3. **B**
4. **B**
5. **A**
6. **D**
7. **D**
8. **D**
9. **C**
10. **D**