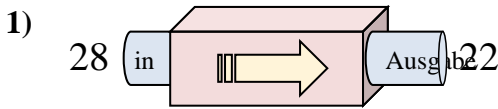


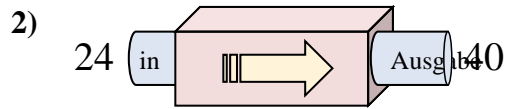


Stelle fest, welche Regel die Funktionsmaschine anwendet.

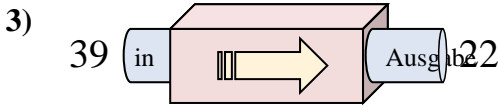
Antworten



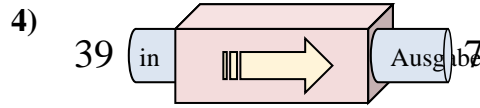
- A. Subtrahieren von 5
- B. Subtrahieren von 11
- C. Subtrahieren von 6
- D. 5 hinzufügen



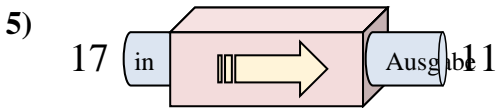
- A. 20 hinzufügen
- B. 17 hinzufügen
- C. Subtrahieren von 19
- D. 16 hinzufügen



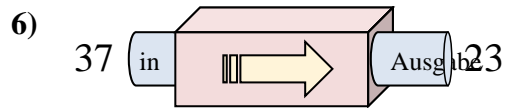
- A. 17 hinzufügen
- B. Subtrahieren von 17
- C. Subtrahieren von 20
- D. Subtrahieren von 19



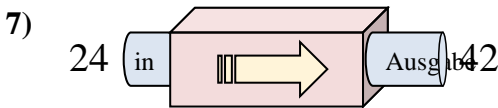
- A. Subtrahieren von 30
- B. Subtrahieren von 35
- C. Subtrahieren von 32
- D. Subtrahieren von 34



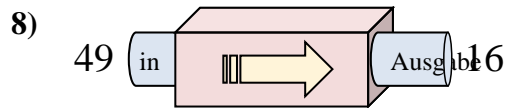
- A. 9 hinzufügen
- B. Subtrahieren von 8
- C. Subtrahieren von 6
- D. Subtrahieren von 2



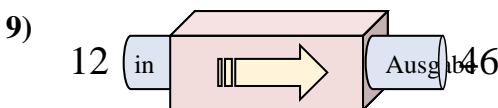
- A. Subtrahieren von 12
- B. 10 hinzufügen
- C. Subtrahieren von 14
- D. Subtrahieren von 15



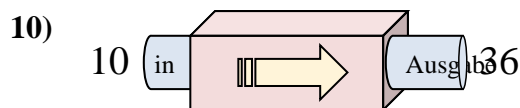
- A. 18 hinzufügen
- B. 15 hinzufügen
- C. 22 hinzufügen
- D. 14 hinzufügen



- A. Subtrahieren von 33
- B. Subtrahieren von 32
- C. 32 hinzufügen
- D. 30 hinzufügen



- A. 37 hinzufügen
- B. 32 hinzufügen
- C. 34 hinzufügen
- D. 38 hinzufügen

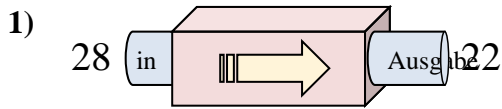


- A. 29 hinzufügen
- B. 26 hinzufügen
- C. Subtrahieren von 29
- D. 30 hinzufügen

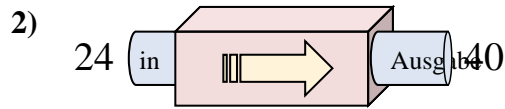
1. _____
2. _____
3. _____
4. _____
5. _____
6. _____
7. _____
8. _____
9. _____
10. _____



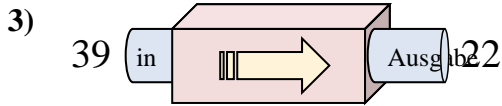
Stelle fest, welche Regel die Funktionsmaschine anwendet.

Antworten

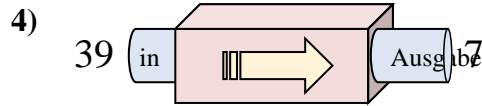
- A. Subtrahieren von 5
- B. Subtrahieren von 11
- C. Subtrahieren von 6
- D. 5 hinzufügen



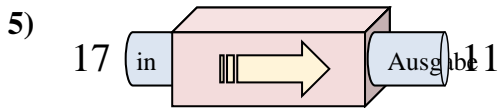
- A. 20 hinzufügen
- B. 17 hinzufügen
- C. Subtrahieren von 19
- D. 16 hinzufügen



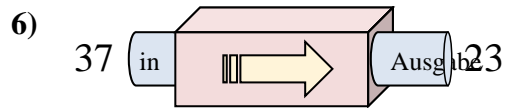
- A. 17 hinzufügen
- B. Subtrahieren von 17
- C. Subtrahieren von 20
- D. Subtrahieren von 19



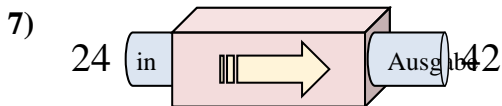
- A. Subtrahieren von 30
- B. Subtrahieren von 35
- C. Subtrahieren von 32
- D. Subtrahieren von 34



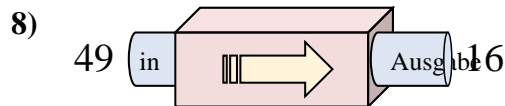
- A. 9 hinzufügen
- B. Subtrahieren von 8
- C. Subtrahieren von 6
- D. Subtrahieren von 2



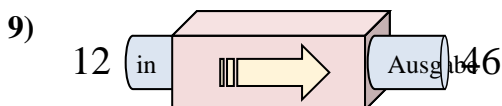
- A. Subtrahieren von 12
- B. 10 hinzufügen
- C. Subtrahieren von 14
- D. Subtrahieren von 15



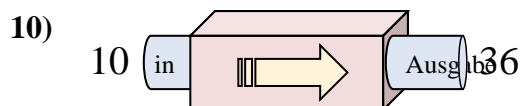
- A. 18 hinzufügen
- B. 15 hinzufügen
- C. 22 hinzufügen
- D. 14 hinzufügen



- A. Subtrahieren von 33
- B. Subtrahieren von 32
- C. 32 hinzufügen
- D. 30 hinzufügen



- A. 37 hinzufügen
- B. 32 hinzufügen
- C. 34 hinzufügen
- D. 38 hinzufügen



- A. 29 hinzufügen
- B. 26 hinzufügen
- C. Subtrahieren von 29
- D. 30 hinzufügen

1. **C**2. **D**3. **B**4. **C**5. **C**6. **C**7. **A**8. **A**9. **C**10. **B**