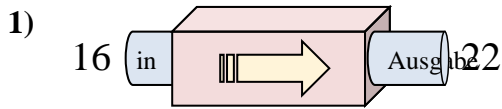
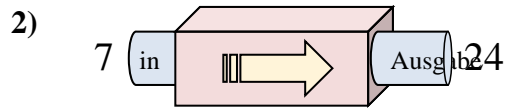




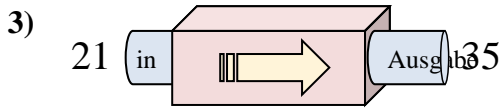
Stelle fest, welche Regel die Funktionsmaschine anwendet.

Antworten

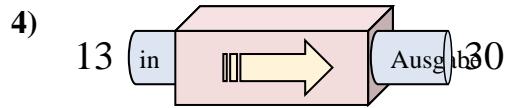
- A. 11 hinzufügen
- B. 7 hinzufügen
- C. 6 hinzufügen
- D. 5 hinzufügen



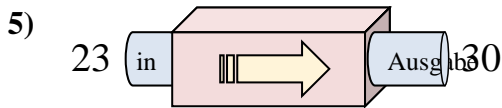
- A. 17 hinzufügen
- B. 18 hinzufügen
- C. Subtrahieren von 14
- D. Subtrahieren von 18



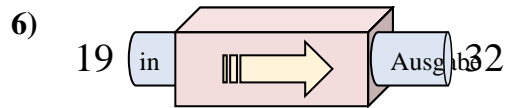
- A. Subtrahieren von 11
- B. 18 hinzufügen
- C. 14 hinzufügen
- D. Subtrahieren von 15



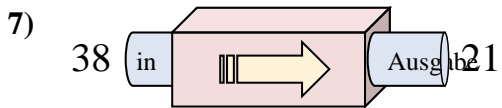
- A. 18 hinzufügen
- B. 21 hinzufügen
- C. 17 hinzufügen
- D. Subtrahieren von 19



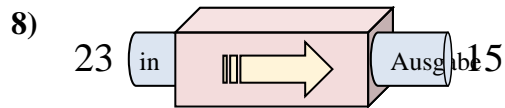
- A. Subtrahieren von 11
- B. 7 hinzufügen
- C. Subtrahieren von 3
- D. 4 hinzufügen



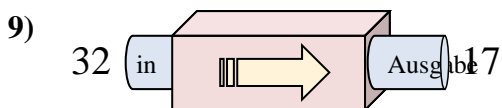
- A. Subtrahieren von 13
- B. 13 hinzufügen
- C. 17 hinzufügen
- D. Subtrahieren von 8



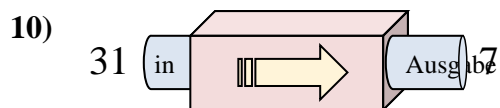
- A. Subtrahieren von 18
- B. Subtrahieren von 17
- C. 13 hinzufügen
- D. Subtrahieren von 14



- A. Subtrahieren von 9
- B. Subtrahieren von 11
- C. Subtrahieren von 8
- D. 9 hinzufügen



- A. Subtrahieren von 11
- B. Subtrahieren von 15
- C. 10 hinzufügen
- D. Subtrahieren von 20



- A. Subtrahieren von 19
- B. Subtrahieren von 25
- C. Subtrahieren von 24
- D. 22 hinzufügen

1. _____

2. _____

3. _____

4. _____

5. _____

6. _____

7. _____

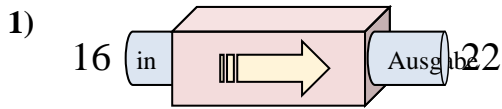
8. _____

9. _____

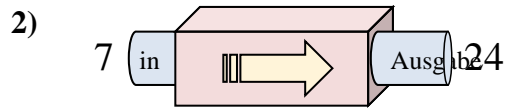
10. _____



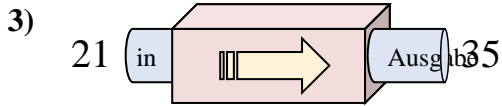
Stelle fest, welche Regel die Funktionsmaschine anwendet.

Antworten

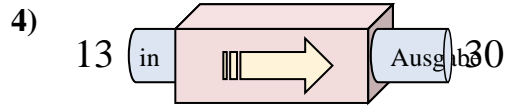
- A. 11 hinzufügen
- B. 7 hinzufügen
- C. 6 hinzufügen
- D. 5 hinzufügen



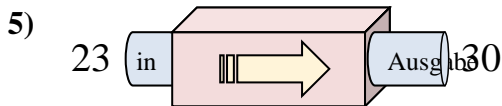
- A. 17 hinzufügen
- B. 18 hinzufügen
- C. Subtrahieren von 14
- D. Subtrahieren von 18



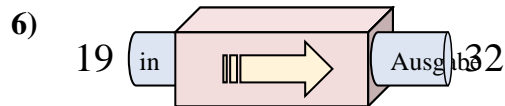
- A. Subtrahieren von 11
- B. 18 hinzufügen
- C. 14 hinzufügen
- D. Subtrahieren von 15



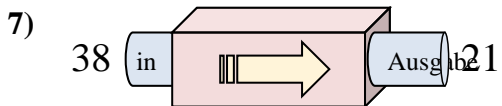
- A. 18 hinzufügen
- B. 21 hinzufügen
- C. 17 hinzufügen
- D. Subtrahieren von 19



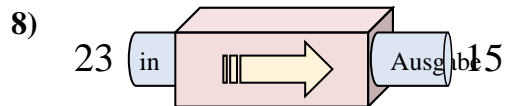
- A. Subtrahieren von 11
- B. 7 hinzufügen
- C. Subtrahieren von 3
- D. 4 hinzufügen



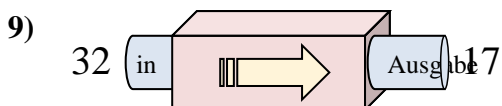
- A. Subtrahieren von 13
- B. 13 hinzufügen
- C. 17 hinzufügen
- D. Subtrahieren von 8



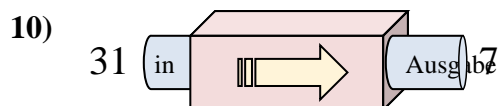
- A. Subtrahieren von 18
- B. Subtrahieren von 17
- C. 13 hinzufügen
- D. Subtrahieren von 14



- A. Subtrahieren von 9
- B. Subtrahieren von 11
- C. Subtrahieren von 8
- D. 9 hinzufügen



- A. Subtrahieren von 11
- B. Subtrahieren von 15
- C. 10 hinzufügen
- D. Subtrahieren von 20



- A. Subtrahieren von 19
- B. Subtrahieren von 25
- C. Subtrahieren von 24
- D. 22 hinzufügen

1. **C**2. **A**3. **C**4. **C**5. **B**6. **B**7. **B**8. **C**9. **B**10. **C**