



Benutze den Zahlenstrahl um den absoluten Wert zu finden.

1) a. Was ist der Wert von A?



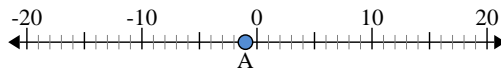
b. Wie weit ist A entfernt von 0 (absoluter Wert)

2) a. Was ist der Wert von A?



b. Wie weit ist A entfernt von 0 (absoluter Wert)

3) a. Was ist der Wert von A?



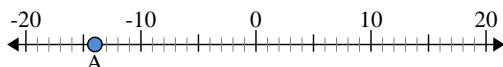
Antworten

- 1. _____
- 2. _____
- 3. _____
- 4. _____
- 5. _____
- 6. _____
- 7. _____
- 8. _____
- 9. _____
- 10. _____



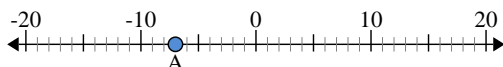
Benutze den Zahlenstrahl um den absoluten Wert zu finden.

1) a. Was ist der Wert von A?



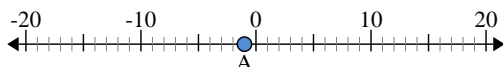
b. Wie weit ist A entfernt von 0 (absoluter Wert)

2) a. Was ist der Wert von A?



b. Wie weit ist A entfernt von 0 (absoluter Wert)

3) a. Was ist der Wert von A?



Antworten

1. -14 14

2. -7 7

3. -1 1

4. 10 10

5. 20 20

6. 5 5

7. -17 17

8. -6 6

9. 12 12

10. -2 2