




Löse jede Aufgabe.


Antworten

- 1) Welcher Buchstabe zeigt die korrekte Lage von -128




1. _____

- 2) Welcher Buchstabe zeigt die korrekte Lage von -114



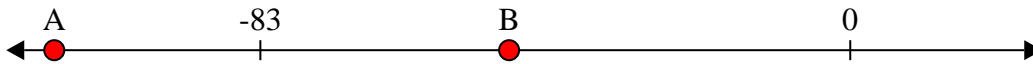
2. _____

- 3) Welcher Buchstabe zeigt die korrekte Lage von -76




3. _____

- 4) Welcher Buchstabe zeigt die korrekte Lage von -48




4. _____

- 5) Welcher Buchstabe zeigt die korrekte Lage von -47




5. _____

- 6) Welcher Buchstabe zeigt die korrekte Lage von -115



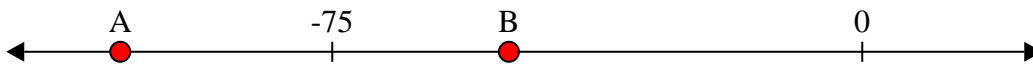
6. _____

- 7) Welcher Buchstabe zeigt die korrekte Lage von -115




7. _____

- 8) Welcher Buchstabe zeigt die korrekte Lage von -105




8. _____

- 9) Welcher Buchstabe zeigt die korrekte Lage von -10



9. _____

- 10) Welcher Buchstabe zeigt die korrekte Lage von -82



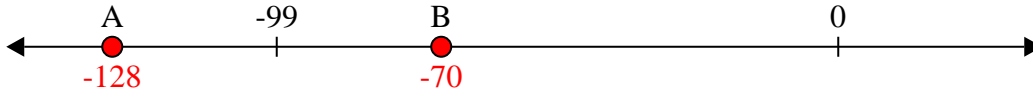
10. _____



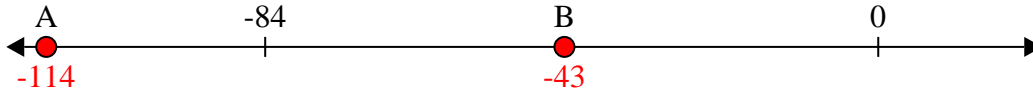
Löse jede Aufgabe.

Antworten

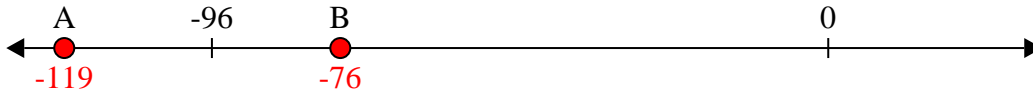
1) Welcher Buchstabe zeigt die korrekte Lage von -128

1. **A**

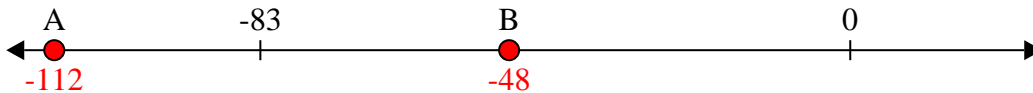
2) Welcher Buchstabe zeigt die korrekte Lage von -114

2. **A**

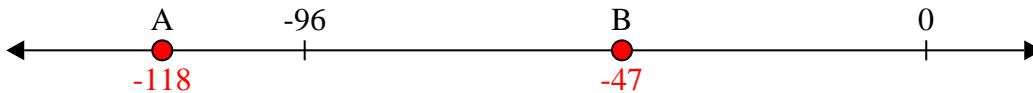
3) Welcher Buchstabe zeigt die korrekte Lage von -76

3. **B**


4) Welcher Buchstabe zeigt die korrekte Lage von -48

4. **B**


5) Welcher Buchstabe zeigt die korrekte Lage von -47

5. **B**

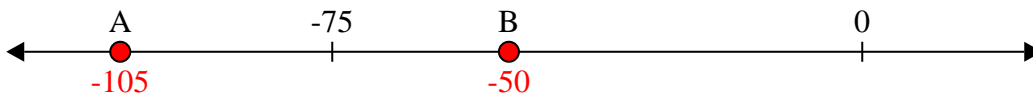
6) Welcher Buchstabe zeigt die korrekte Lage von -115

6. **A**


7) Welcher Buchstabe zeigt die korrekte Lage von -115

7. **A**

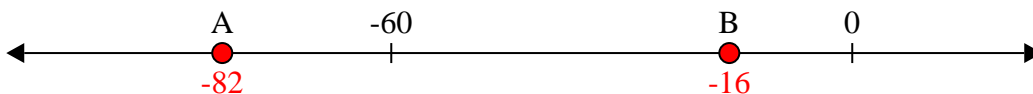
8) Welcher Buchstabe zeigt die korrekte Lage von -105

8. **A**

9) Welcher Buchstabe zeigt die korrekte Lage von -10

9. **B**

10) Welcher Buchstabe zeigt die korrekte Lage von -82

10. **A**