




Löse jede Aufgabe.

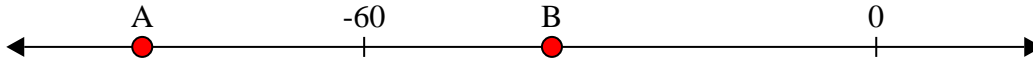
Antworten

1) Welcher Buchstabe zeigt die korrekte Lage von -11




1. _____

2) Welcher Buchstabe zeigt die korrekte Lage von -38




2. _____

3) Welcher Buchstabe zeigt die korrekte Lage von -78




3. _____

4) Welcher Buchstabe zeigt die korrekte Lage von -28



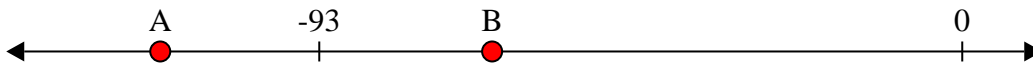
4. _____

5) Welcher Buchstabe zeigt die korrekte Lage von -109




5. _____

6) Welcher Buchstabe zeigt die korrekte Lage von -68




6. _____

7) Welcher Buchstabe zeigt die korrekte Lage von -10



7. _____

8) Welcher Buchstabe zeigt die korrekte Lage von -20




8. _____

9) Welcher Buchstabe zeigt die korrekte Lage von -82



9. _____

10) Welcher Buchstabe zeigt die korrekte Lage von -79



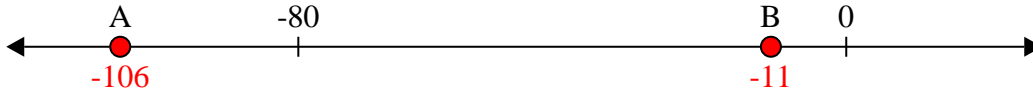
10. _____



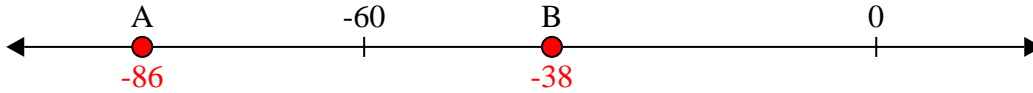
Löse jede Aufgabe.

Antworten

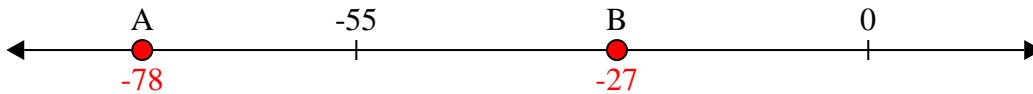
1) Welcher Buchstabe zeigt die korrekte Lage von -11

1. **B**

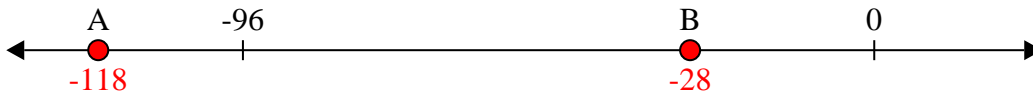
2) Welcher Buchstabe zeigt die korrekte Lage von -38

2. **B**

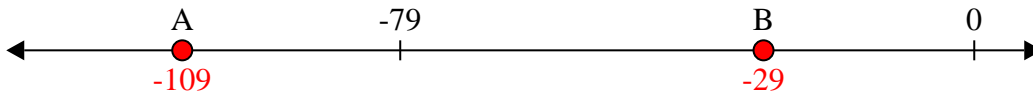
3) Welcher Buchstabe zeigt die korrekte Lage von -78

3. **A**

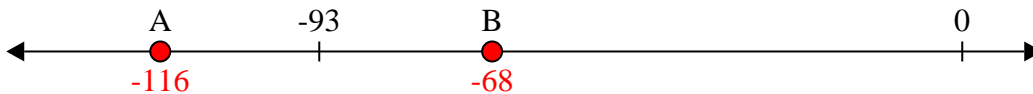
4) Welcher Buchstabe zeigt die korrekte Lage von -28

4. **B**


5) Welcher Buchstabe zeigt die korrekte Lage von -109

5. **A**


6) Welcher Buchstabe zeigt die korrekte Lage von -68

6. **B**

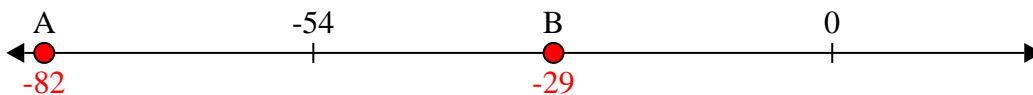
7) Welcher Buchstabe zeigt die korrekte Lage von -10

7. **B**

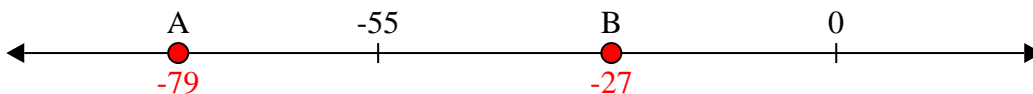
8) Welcher Buchstabe zeigt die korrekte Lage von -20

8. **B**

9) Welcher Buchstabe zeigt die korrekte Lage von -82

9. **A**

10) Welcher Buchstabe zeigt die korrekte Lage von -79

10. **A**