



**Löse jede Aufgabe.****Antworten**

1) Welcher Buchstabe zeigt -82 am besten?




1. \_\_\_\_\_

2) Welcher Buchstabe zeigt -31 am besten?




2. \_\_\_\_\_

3) Welcher Buchstabe zeigt -39 am besten?




3. \_\_\_\_\_

4) Welcher Buchstabe zeigt -121 am besten?




4. \_\_\_\_\_

5) Welcher Buchstabe zeigt -25 am besten?




5. \_\_\_\_\_

6) Welcher Buchstabe zeigt -12 am besten?



6. \_\_\_\_\_

7) Welcher Buchstabe zeigt -126 am besten?




7. \_\_\_\_\_

8) Welcher Buchstabe zeigt -117 am besten?




8. \_\_\_\_\_

9) Welcher Buchstabe zeigt -92 am besten?



9. \_\_\_\_\_

10) Welcher Buchstabe zeigt -20 am besten?




10. \_\_\_\_\_




Löse jede Aufgabe.

Antworten


1) Welcher Buchstabe zeigt -82 am besten?

1. **A**


2) Welcher Buchstabe zeigt -31 am besten?

2. **B**


3) Welcher Buchstabe zeigt -39 am besten?

3. **B**


4) Welcher Buchstabe zeigt -121 am besten?

4. **A**


5) Welcher Buchstabe zeigt -25 am besten?

5. **B**

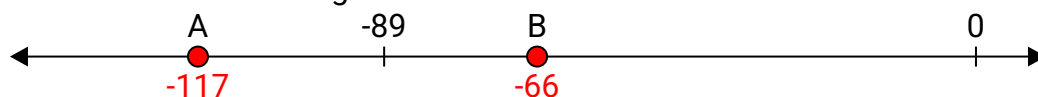
6) Welcher Buchstabe zeigt -12 am besten?

6. **B**

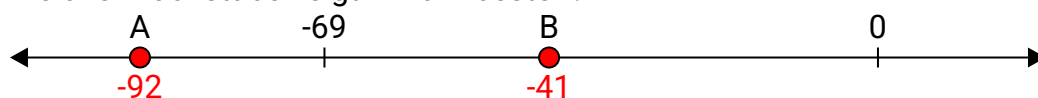
7) Welcher Buchstabe zeigt -126 am besten?

7. **A**


8) Welcher Buchstabe zeigt -117 am besten?

8. **A**

9) Welcher Buchstabe zeigt -92 am besten?

9. **A**

10) Welcher Buchstabe zeigt -20 am besten?

10. **B**