



Benutze die vorgegebene Anordnung um jede Aufgabe zu lösen.

Antworten

1) $40 \cdot 35 =$

2) $20 \cdot 32 =$

1. _____

2. _____

3. _____

4. _____

5. _____

6. _____

3) $22 \cdot 20 =$

4) $20 \cdot 25 =$

5) $21 \cdot 20 =$

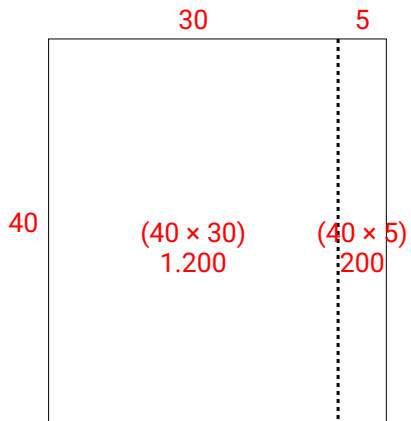
6) $27 \cdot 20 =$



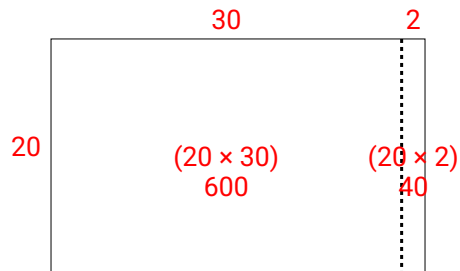
Benutze die vorgegebene Anordnung um jede Aufgabe zu lösen.

Antworten

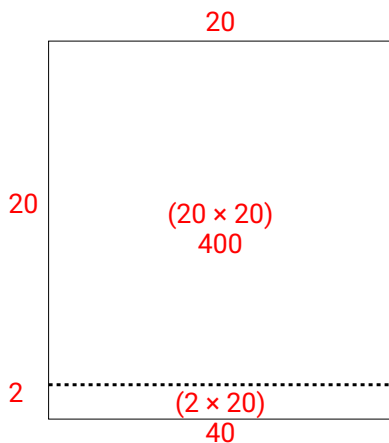
1) $40 \cdot 35 =$



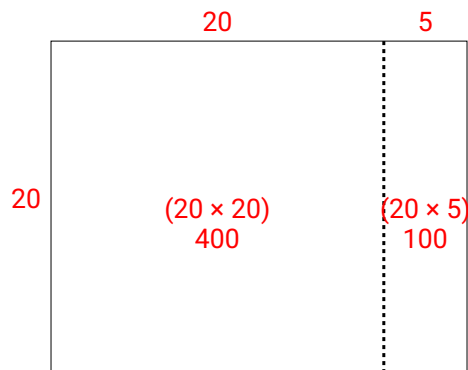
2) $20 \cdot 32 =$

1. **1.400**2. **640**3. **440**4. **500**5. **420**6. **540**

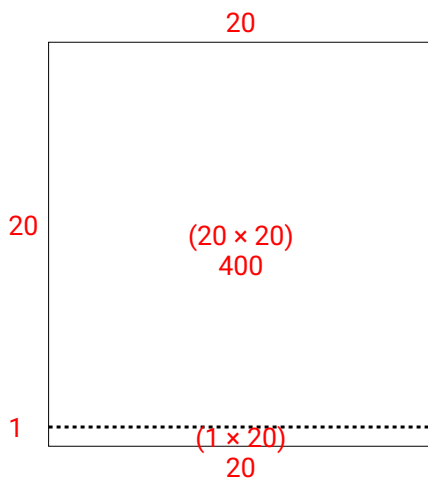
3) $22 \cdot 20 =$



4) $20 \cdot 25 =$



5) $21 \cdot 20 =$



6) $27 \cdot 20 =$

