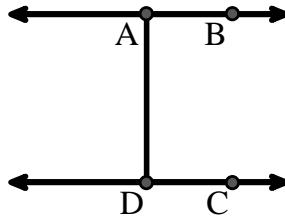




Löse jede Aufgabe.

Verwenden Sie die Grafik rechts, um Folgendes zu finden (wenn möglich):

- 1) Parallele Linien _____
- 2) Senkrechte Linien _____
- 3) Ein Strahl _____
- 4) Schnittpunkte _____
- 5) Eine Linie _____
- 6) Ein Segment _____

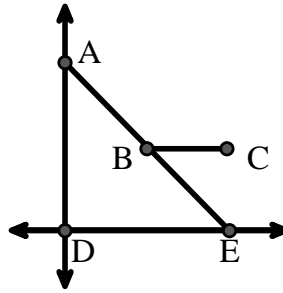


Antworten

1. _____
2. _____
3. _____
4. _____
5. _____
6. _____
7. _____
8. _____

Verwenden Sie die Grafik rechts, um Folgendes zu finden (wenn möglich):


- 7) Spitzer Winkel _____
- 8) Stumpfer Winkel _____
- 9) Geraden Winkel _____
- 10) Rechter Winkel _____



9. _____
10. _____
11. graph
12. graph
13. graph
14. graph
15. graph

Verwenden Sie die Punktmatrix, um Folgendes zu zeichnen:

- 11) Segment \overline{AC}
- 12) Straight Angle $\angle ABC$
- 13) Segment \overleftrightarrow{BD} perpendicular to \overline{BC}
- 14) Segment \overleftrightarrow{CE} parallel to segment \overline{BD}
- 15) Line \overleftrightarrow{FG} parallel to angle $\angle ABC$

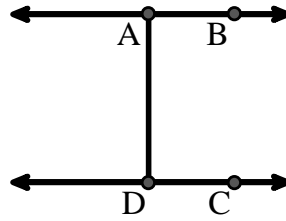




Löse jede Aufgabe.

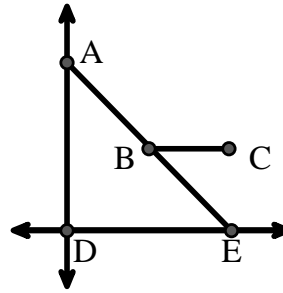
Verwenden Sie die Grafik rechts, um Folgendes zu finden (wenn möglich):

- 1) Parallele Linien $(\vec{A} \& \vec{B}), (\vec{C} \& \vec{D}), (\vec{A} \& \vec{D})$
- 2) Senkrechte Linien _____
- 3) Ein Strahl $\vec{AB}, \vec{BA}, \vec{DC}, \vec{CD}$
- 4) Schnittpunkte _____
- 5) Eine Linie \vec{AB}, \vec{CD}
- 6) Ein Segment $\overline{AB}, \overline{CD}, \overline{AD}$



Verwenden Sie die Grafik rechts, um Folgendes zu finden (wenn möglich):

- 7) Spitzer Winkel $\angle AED, \angle EAD, \angle EBC$
- 8) Stumpfer Winkel $\angle ABC$
- 9) Geraden Winkel $\angle ABE$
- 10) Rechter Winkel $\angle ADE$



Verwenden Sie die Punktmatrix, um Folgendes zu zeichnen:

- 11) Segment \overline{AC}
- 12) Straight Angle $\angle ABC$
- 13) Segment \vec{BD} perpendicular to \overline{BC}
- 14) Segment \vec{CE} parallel to segment \overline{BD}
- 15) Line \vec{FG} parallel to angle $\angle ABC$



Antworten

1. $(\vec{A} \& \vec{B})$
2. keine
3. \vec{AB}
4. keine
5. \vec{AB}
6. \overline{AB}
7. $\angle AED$
8. $\angle ABC$
9. $\angle ABE$
10. $\angle ADE$
11. graph
12. graph
13. graph
14. graph
15. graph