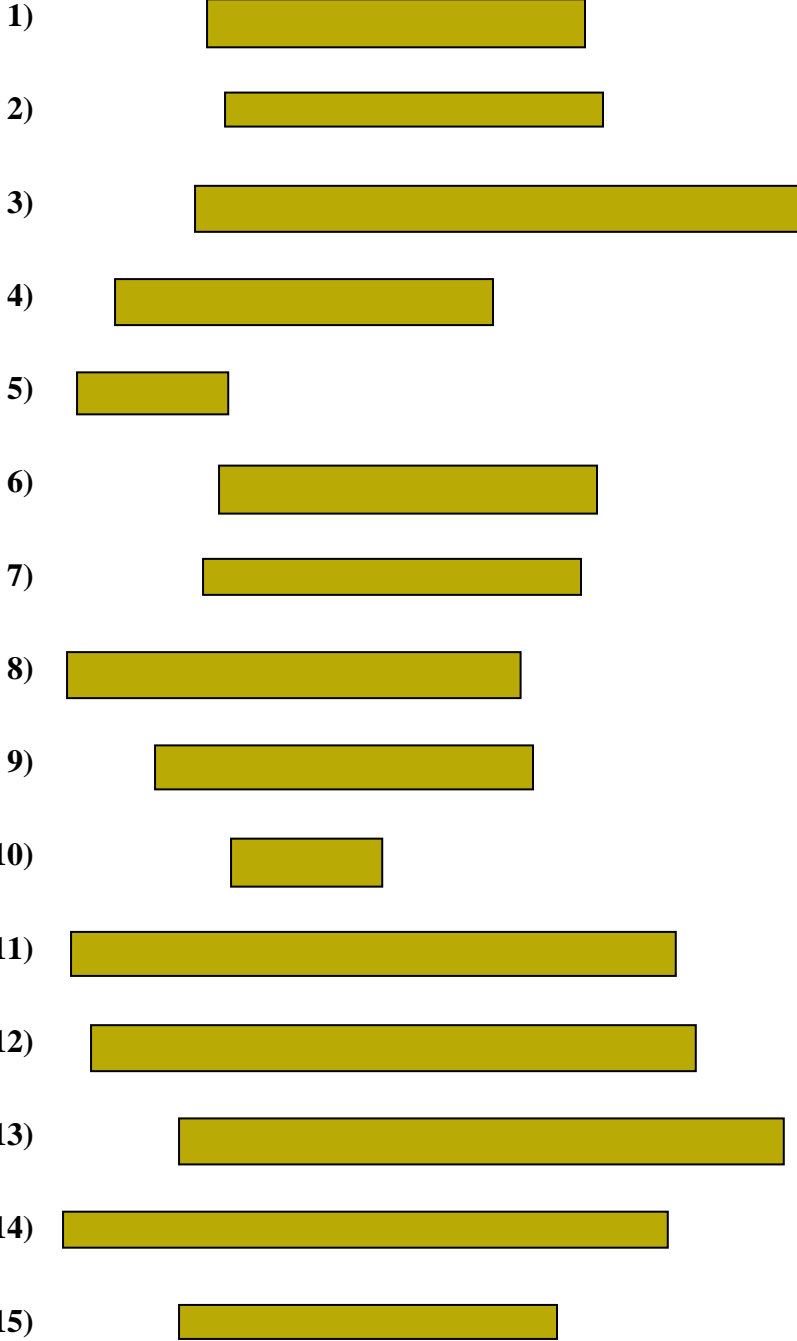




Messe jeden Streifen ab (in cm) und stelle die Ergebnisse dann in einem Liniendiagramm dar.

Antworten








- 1. _____
- 2. _____
- 3. _____
- 4. _____
- 5. _____
- 6. _____
- 7. _____
- 8. _____
- 9. _____
- 10. _____
- 11. _____
- 12. _____
- 13. _____
- 14. _____
- 15. _____

Line Plot



Messe jeden Streifen ab (in cm) und stelle die Ergebnisse dann in einem Liniendiagramm dar.

- 1)  5
- 2)  5
- 3)  8
- 4)  5
- 5)  2
- 6)  5
- 7)  5
- 8)  6
- 9)  5
- 10)  2
- 11)  8
- 12)  8
- 13)  8
- 14)  8
- 15)  5

- Antworten**
- 1. 5
 - 2. 5
 - 3. 8
 - 4. 5
 - 5. 2
 - 6. 5
 - 7. 5
 - 8. 6
 - 9. 5
 - 10. 2
 - 11. 8
 - 12. 8
 - 13. 8
 - 14. 8
 - 15. 5

Line Plot

