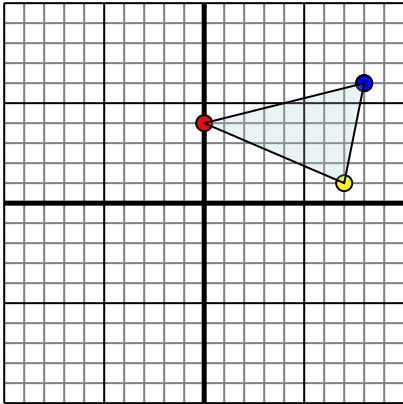




Spiegle jede Figur wie beschrieben.

1)

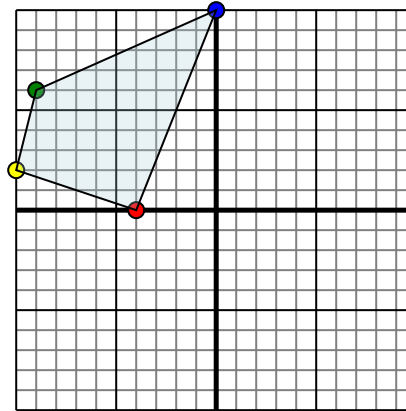


Die obige Figur hat die folgenden Koordinaten:

- A. (0,4)
- B. (7,1)
- C. (8,6)

Spiegle die Figur an der X-Achse.

2)

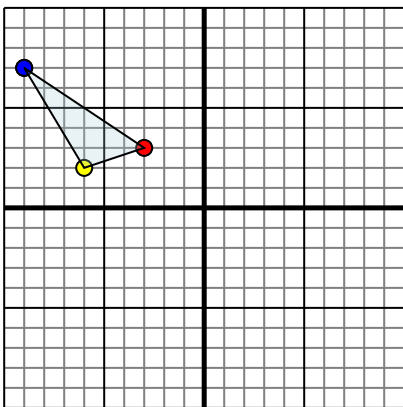


Die obige Figur hat die folgenden Koordinaten:

- A. (-4,0)
- B. (-10,2)
- C. (-9,6)
- D. (0,10)

Spiegle die Figur an der Y-Achse.

3)

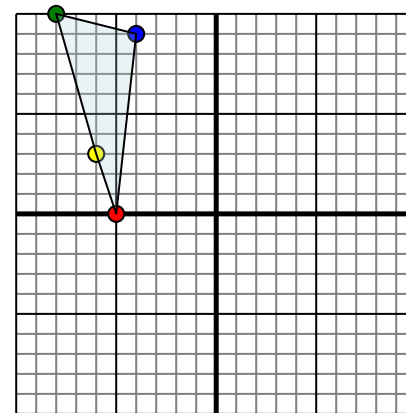


Die obige Figur hat die folgenden Koordinaten:

- A. (-3,3)
- B. (-6,2)
- C. (-9,7)

Spiegle die Figur an der Y-Achse.

4)



Die obige Figur hat die folgenden Koordinaten:

- A. (-5,0)
- B. (-6,3)
- C. (-8,10)
- D. (-4,9)

Spiegle die Figur an der X-Achse.

**Antworten**

1. \_\_\_\_\_

2. \_\_\_\_\_

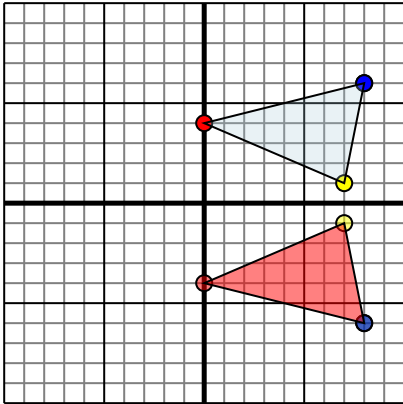
3. \_\_\_\_\_

4. \_\_\_\_\_



Spiegle jede Figur wie beschrieben.

1)

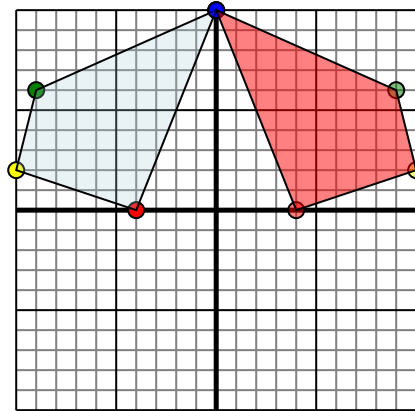


Die obige Figur hat die folgenden Koordinaten:

- A. (0,4)
- B. (7,1)
- C. (8,6)

Spiegle die Figur an der X-Achse.

2)

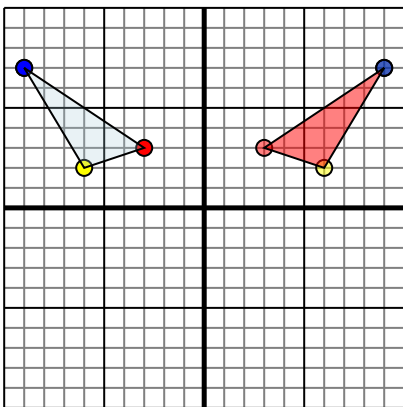


Die obige Figur hat die folgenden Koordinaten:

- A. (-4,0)
- B. (-10,2)
- C. (-9,6)
- D. (0,10)

Spiegle die Figur an der Y-Achse.

3)

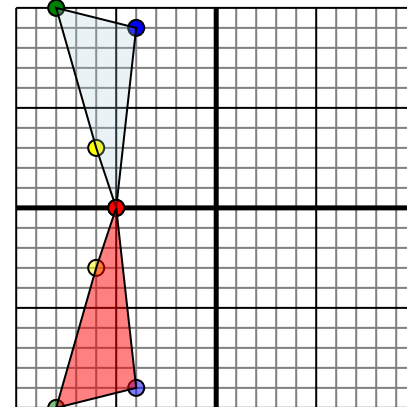


Die obige Figur hat die folgenden Koordinaten:

- A. (-3,3)
- B. (-6,2)
- C. (-9,7)

Spiegle die Figur an der Y-Achse.

4)



Die obige Figur hat die folgenden Koordinaten:

- A. (-5,0)
- B. (-6,3)
- C. (-8,10)
- D. (-4,9)

Spiegle die Figur an der X-Achse.

**Antworten**

1. 0.-4 7.-1 8.-6 Graph
2. 4.0 10.2 9.6 0.10 Graph
3. 3.3 6.2 9.7 Graph
4. -5.0 -6.-3 -8.-10 -4.-9 Graph