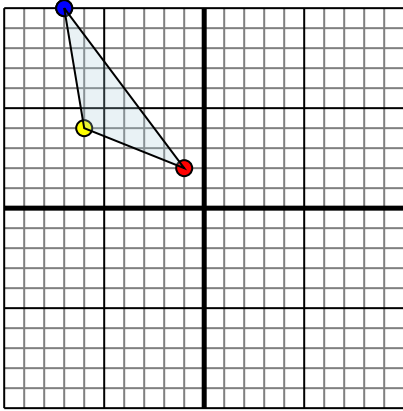




Spiegle jede Figur wie beschrieben.

Antworten

1)

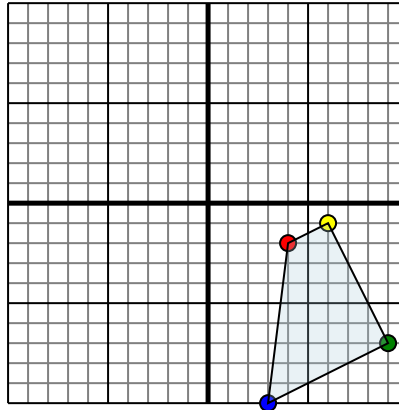


Die obige Figur hat die folgenden Koordinaten:

- A. (-1,2)
- B. (-6,4)
- C. (-7,10)

Spiegle die Figur an der Y-Achse.

2)

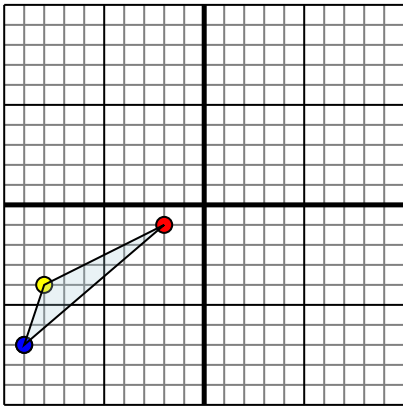


Die obige Figur hat die folgenden Koordinaten:

- A. (4,-2)
- B. (6,-1)
- C. (9,-7)
- D. (3,-10)

Spiegle die Figur an der X-Achse.

3)

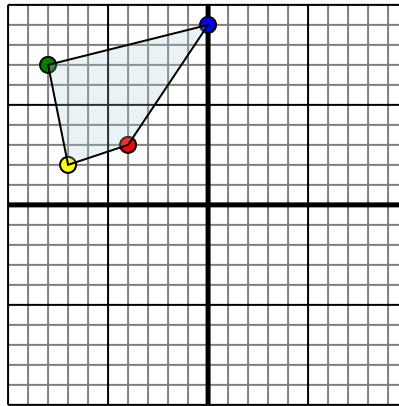


Die obige Figur hat die folgenden Koordinaten:

- A. (-2,-1)
- B. (-8,-4)
- C. (-9,-7)

Spiegle die Figur an der X-Achse.

4)



Die obige Figur hat die folgenden Koordinaten:

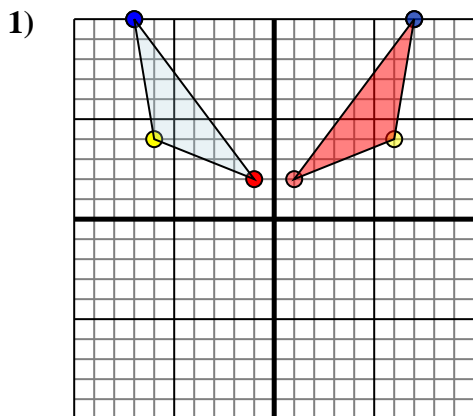
- A. (-4,3)
- B. (-7,2)
- C. (-8,7)
- D. (0,9)

Spiegle die Figur an der Y-Achse.

- 1. _____
- 2. _____
- 3. _____
- 4. _____



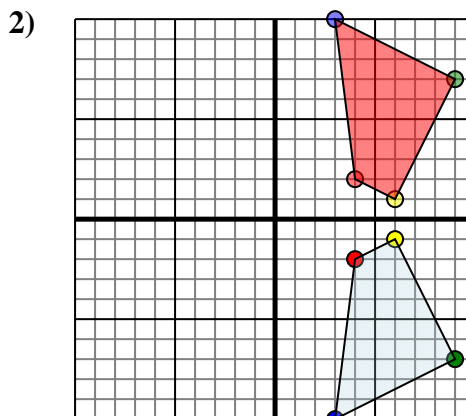
Spiegle jede Figur wie beschrieben.



Die obige Figur hat die folgenden Koordinaten:

- A. (-1,2)
- B. (-6,4)
- C. (-7,10)

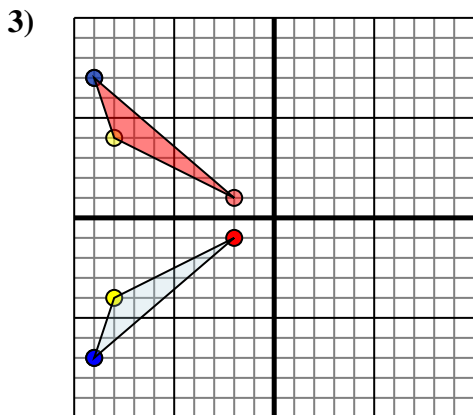
Spiegle die Figur an der Y-Achse.



Die obige Figur hat die folgenden Koordinaten:

- A. (4,-2)
- B. (6,-1)
- C. (9,-7)
- D. (3,-10)

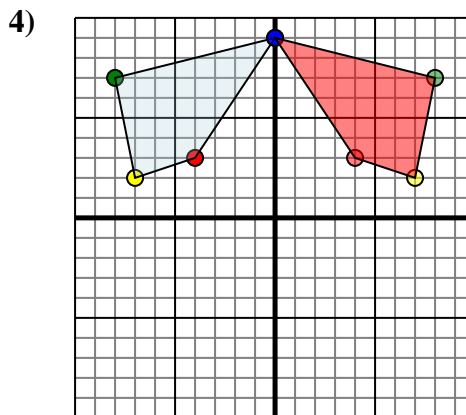
Spiegle die Figur an der X-Achse.



Die obige Figur hat die folgenden Koordinaten:

- A. (-2,-1)
- B. (-8,-4)
- C. (-9,-7)

Spiegle die Figur an der X-Achse.



Die obige Figur hat die folgenden Koordinaten:

- A. (-4,3)
- B. (-7,2)
- C. (-8,7)
- D. (0,9)

Spiegle die Figur an der Y-Achse.

Antworten

1. **1.2** **6.4** **7.10** Graph
2. **4.2** **6.1** **9.7** **3.10** Graph
3. **-2.1** **-8.4** **-9.7** Graph
4. **4.3** **7.2** **8.7** **0.9** Graph