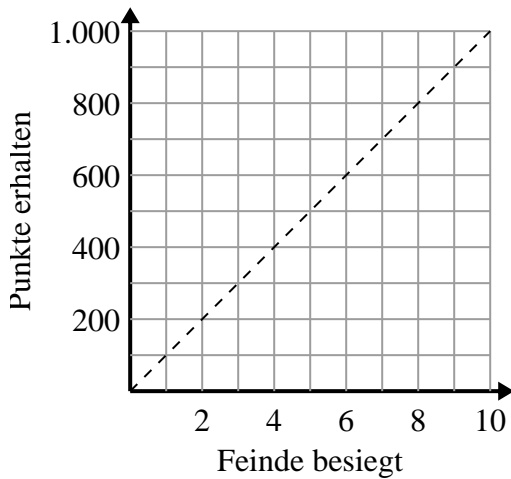




Bestimmen Sie, welche Aussagen über den Graphen wahr sind.

Antworten

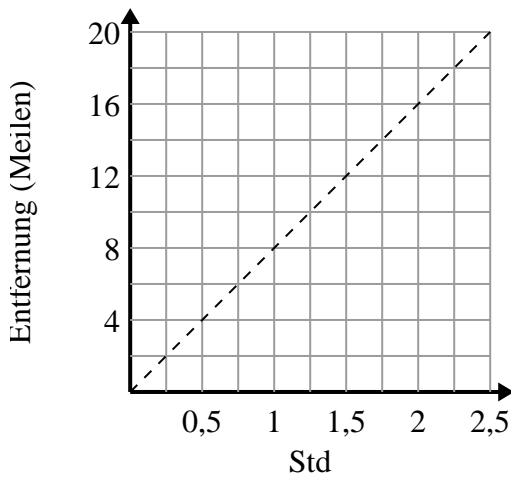
1)



- A. Der Punkt (700 , 7) zeigt, dass das Besiegen von 7 Feinden 700 Punkte einbringt.
- B. Der Punkt (200 , 2) zeigt, dass das Besiegen von 2 Feinden 200 Punkte einbringt.
- C. Der Punkt (2 , 200) zeigt, dass das Besiegen von 2 Feinden 200 Punkte einbringt.
- D. Der Punkt (5 , 500) zeigt an, dass Sie 500 Punkte für das Besiegen von 5 Feinden verdienen würden.

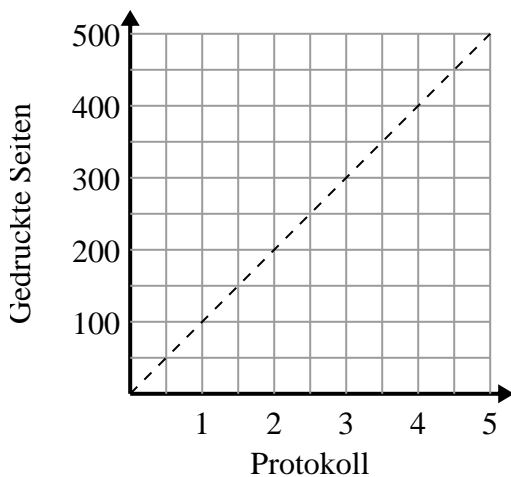
- 1. _____
- 2. _____
- 3. _____

2)



- A. Der Punkt (1.75 , 14) zeigt an, dass die Fahrt mit 14 Meilen 1.75 Stunden dauert.
- B. Der Punkt (8 , 1) zeigt an, dass es 1 Stunden dauert, um 8 Meilen zurückzulegen.
- C. Der Punkt (0.5 , 4) zeigt an, dass es 0.5 Stunden dauert, um 4 Meilen zurückzulegen.
- D. Der Punkt (14 , 1.75) zeigt an, dass die Fahrt mit 14 Meilen 1.75 Stunden dauert.

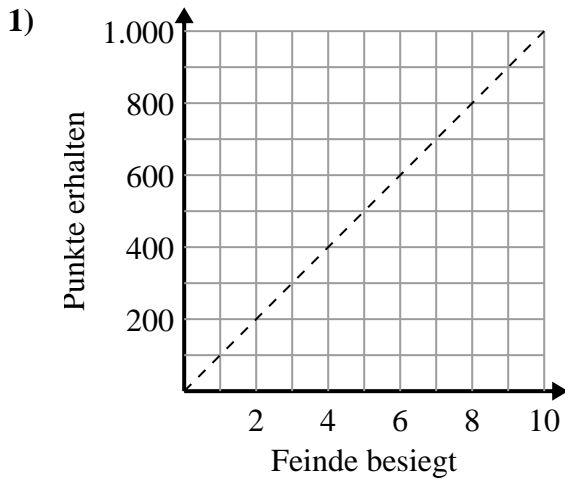
3)



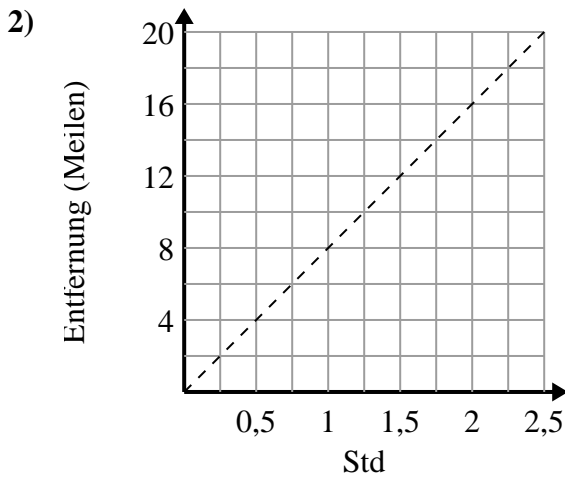
- A. Der Punkt (1.5 , 150) zeigt an, dass es 1.5 Minuten dauert, 150 Seiten zu drucken.
- B. Der Punkt (200 , 2) zeigt an, dass das Drucken von 200 Seiten 2 Minuten dauert.
- C. Der Punkt (2.5 , 250) zeigt an, dass es 2.5 Minuten dauert, 250 Seiten zu drucken.
- D. Der Punkt (3.5 , 350) zeigt an, dass es 3.5 Minuten dauert, 350 Seiten zu drucken.



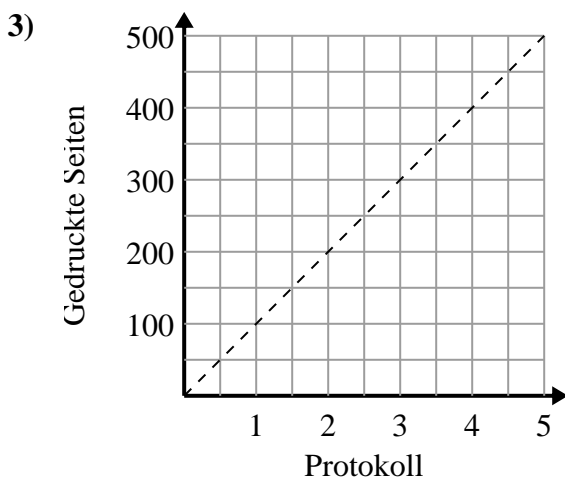
Bestimmen Sie, welche Aussagen über den Graphen wahr sind.

Antworten

- A. Der Punkt (700 , 7) zeigt, dass das Besiegen von 7 Feinden 700 Punkte einbringt.
- B. Der Punkt (200 , 2) zeigt, dass das Besiegen von 2 Feinden 200 Punkte einbringt.
- C. Der Punkt (2 , 200) zeigt, dass das Besiegen von 2 Feinden 200 Punkte einbringt.
- D. Der Punkt (5 , 500) zeigt an, dass Sie 500 Punkte für das Besiegen von 5 Feinden verdienen würden.

1. **C,D**2. **A,C**3. **A,C,D**

- A. Der Punkt (1.75 , 14) zeigt an, dass die Fahrt mit 14 Meilen 1.75 Stunden dauert.
- B. Der Punkt (8 , 1) zeigt an, dass es 1 Stunden dauert, um 8 Meilen zurückzulegen.
- C. Der Punkt (0.5 , 4) zeigt an, dass es 0.5 Stunden dauert, um 4 Meilen zurückzulegen.
- D. Der Punkt (14 , 1.75) zeigt an, dass die Fahrt mit 14 Meilen 1.75 Stunden dauert.



- A. Der Punkt (1.5 , 150) zeigt an, dass es 1.5 Minuten dauert, 150 Seiten zu drucken.
- B. Der Punkt (200 , 2) zeigt an, dass das Drucken von 200 Seiten 2 Minuten dauert.
- C. Der Punkt (2.5 , 250) zeigt an, dass es 2.5 Minuten dauert, 250 Seiten zu drucken.
- D. Der Punkt (3.5 , 350) zeigt an, dass es 3.5 Minuten dauert, 350 Seiten zu drucken.