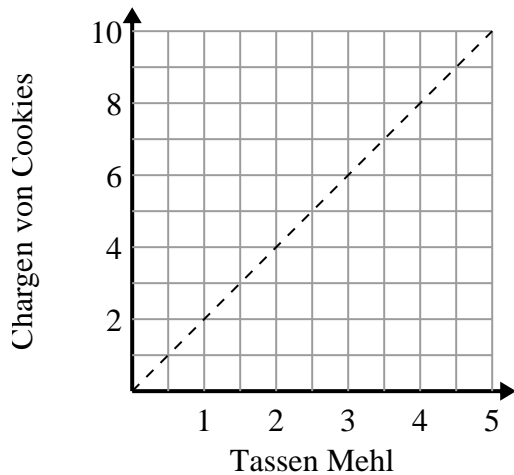




Bestimmen Sie, welche Aussagen über den Graphen wahr sind.

Antworten

1)



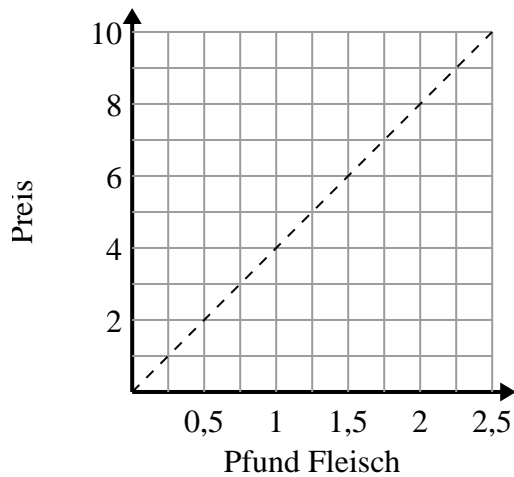
- A. Der Punkt (8 , 4) zeigt, dass 8 Chargen von Keksen 4 Tassen Mehl benötigen.
- B. Der Punkt (3 , 1.5) zeigt, dass 1.5 Tassen Mehl 3 Chargen Kekse ergeben.
- C. Der Punkt (1 , 2) zeigt, dass 2 Chargen von Keksen 1 Tassen Mehl benötigen.
- D. Der Punkt (1 , 0.5) zeigt, dass 0.5 Tasse Mehl 1 Charge Kekse ergeben.

1. _____

2. _____

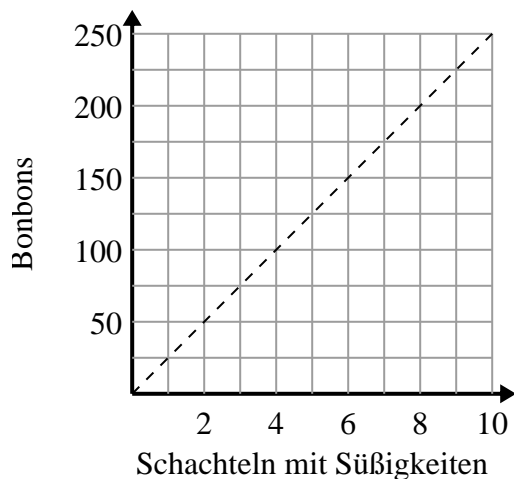
3. _____

2)



- A. Der Punkt (2 , 0.5) zeigt an, dass Sie mit \$2 0.5 Pfund Fleisch kaufen.
- B. Der Punkt (1.75 , 7) zeigt, dass der Kauf von 1.75 Pfund Fleisch 7 \$ kostet.
- C. Der Punkt (0.75 , 3) zeigt an, dass Sie mit \$3 0.75 Pfund Fleisch kaufen.
- D. Der Punkt (6 , 1.5) zeigt an, dass Sie mit \$6 1.5 Pfund Fleisch kaufen.

3)



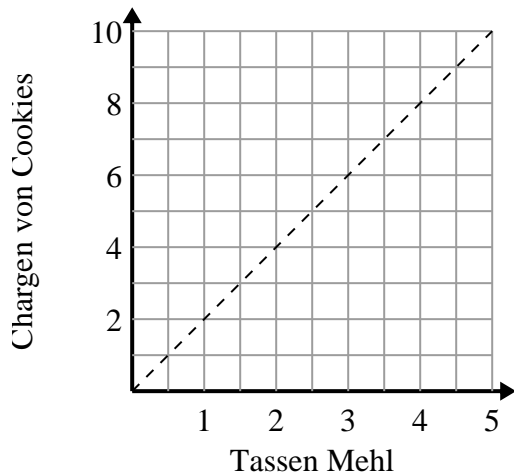
- A. Der Punkt (200 , 8) zeigt an, dass Sie 200 Bonbons in 8 Kisten erhalten.
- B. Der Punkt (50 , 2) zeigt an, dass 2 Schachteln mit Süßigkeiten 50 Bonbons enthalten.
- C. Der Punkt (1 , 25) zeigt an, dass Sie 25 Bonbons in 1 Kasten erhalten.
- D. Der Punkt (7 , 175) zeigt an, dass Sie 175 Bonbons in 7 Kisten erhalten.



Bestimmen Sie, welche Aussagen über den Graphen wahr sind.

Antworten

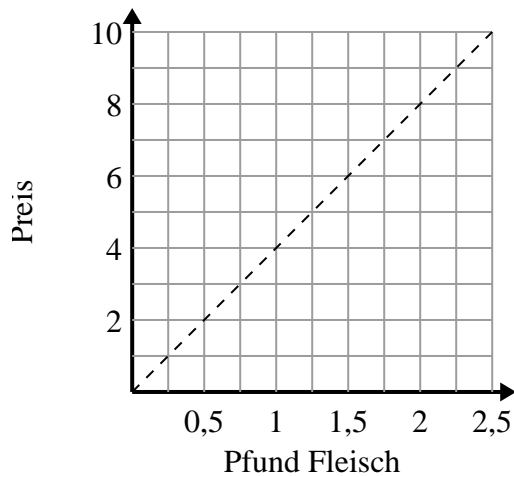
1)



- A. Der Punkt (8 , 4) zeigt, dass 8 Chargen von Keksen 4 Tassen Mehl benötigen.
- B. Der Punkt (3 , 1.5) zeigt, dass 1.5 Tassen Mehl 3 Chargen Kekse ergeben.
- C. Der Punkt (1 , 2) zeigt, dass 2 Chargen von Keksen 1 Tassen Mehl benötigen.
- D. Der Punkt (1 , 0.5) zeigt, dass 0.5 Tasse Mehl 1 Charge Kekse ergeben.

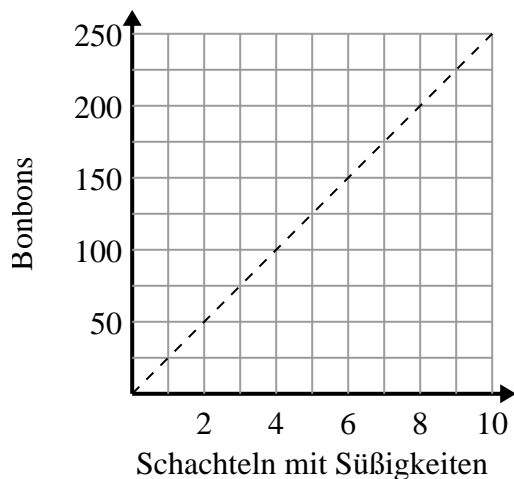
1. **C**2. **B,C**3. **C,D**

2)



- A. Der Punkt (2 , 0.5) zeigt an, dass Sie mit \$2 0.5 Pfund Fleisch kaufen.
- B. Der Punkt (1.75 , 7) zeigt, dass der Kauf von 1.75 Pfund Fleisch 7 \$ kostet.
- C. Der Punkt (0.75 , 3) zeigt an, dass Sie mit \$3 0.75 Pfund Fleisch kaufen.
- D. Der Punkt (6 , 1.5) zeigt an, dass Sie mit \$6 1.5 Pfund Fleisch kaufen.

3)



- A. Der Punkt (200 , 8) zeigt an, dass Sie 200 Bonbons in 8 Kisten erhalten.
- B. Der Punkt (50 , 2) zeigt an, dass 2 Schachteln mit Süßigkeiten 50 Bonbons enthalten.
- C. Der Punkt (1 , 25) zeigt an, dass Sie 25 Bonbons in 1 Kasten erhalten.
- D. Der Punkt (7 , 175) zeigt an, dass Sie 175 Bonbons in 7 Kisten erhalten.