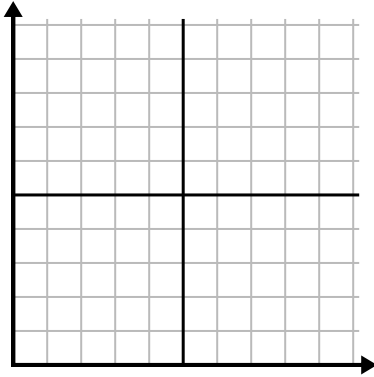




Füllen Sie das Raster mithilfe des Diagramms aus.

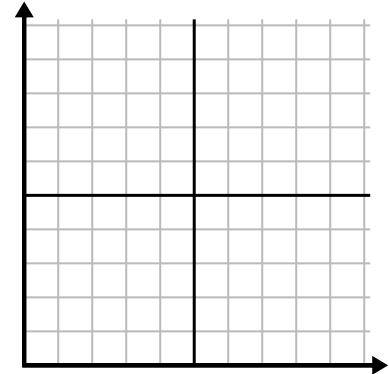
1)

Monat	1	2	3	4	5	6
Stromrechnungspreis	175	50	250	200	100	150



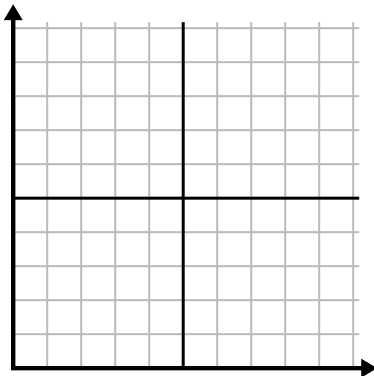
2)

Tag	1	2	3	4	5
Mahlzeiten verkauft	900	300	600	1.000	400



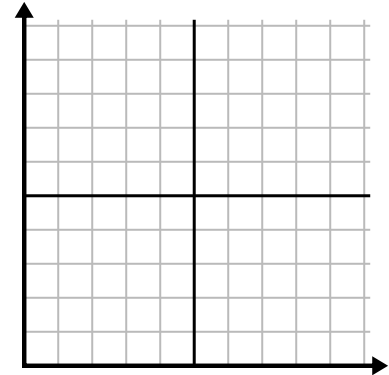
3)

Woche	1	2	3	4	5	6	7
Stundenlanges Fernsehen geschaut	15	30	50	35	10	25	45



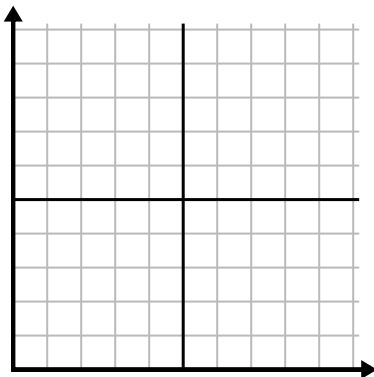
4)

Stunde	1	2	3	4	5
Verkaufte Menge	2	3	8	1	4



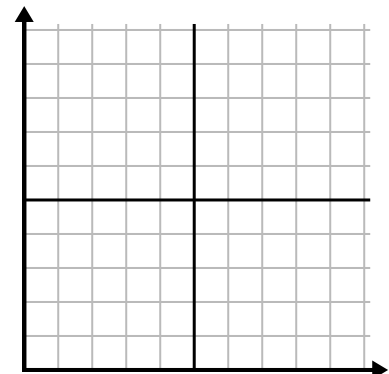
5)

Tag	1	2	3	4	5
Kalorien verbrannt	200	180	40	80	120



6)

Jahr	1	2	3	4	5	6
Verwendete Tintenpatronen	18	20	14	16	12	8

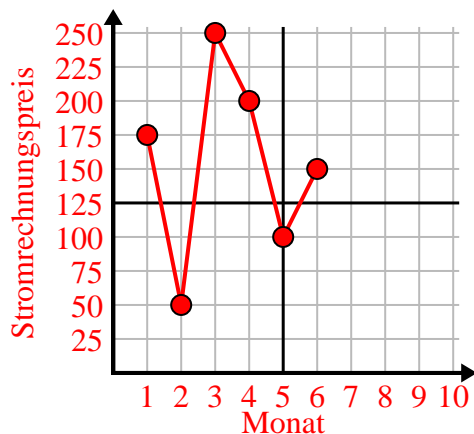




Füllen Sie das Raster mithilfe des Diagramms aus.

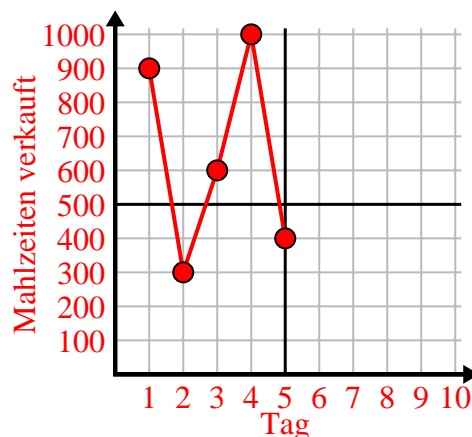
1)

Monat	1	2	3	4	5	6
Stromrechnungspreis	175	50	250	200	100	150



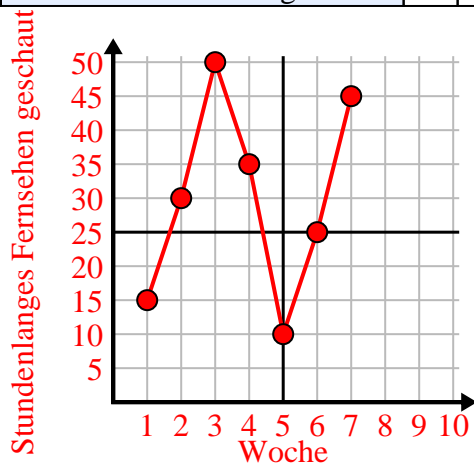
2)

Tag	1	2	3	4	5
Mahlzeiten verkauft	900	300	600	1.000	400



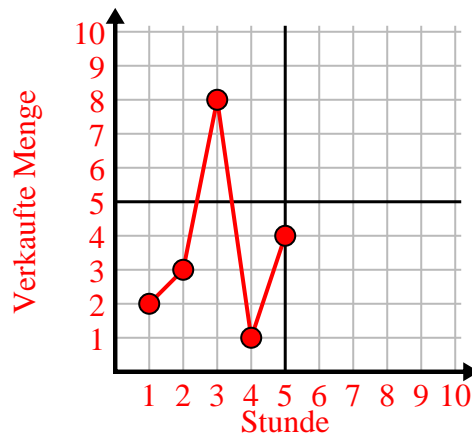
3)

Woche	1	2	3	4	5	6	7
Stundenlanges Fernsehen geschaut	15	30	50	35	10	25	45



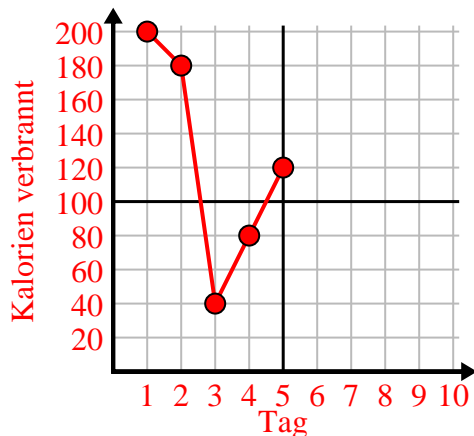
4)

Stunde	1	2	3	4	5
Verkaufte Menge	2	3	8	1	4



5)

Tag	1	2	3	4	5
Kalorien verbrannt	200	180	40	80	120



6)

Jahr	1	2	3	4	5	6
Verwendete Tintenpatronen	18	20	14	16	12	8

