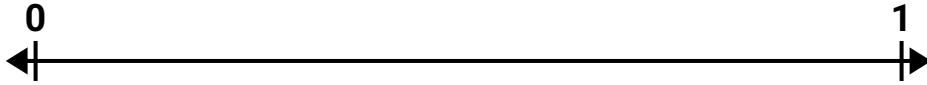



Löse jede Aufgabe.


- 1) Teile in 8 gleich große Teile und beschrifte jede Unterteilung.




- 2) Teile in 2 gleich große Teile und beschrifte jede Unterteilung.




- 3) Teile in 3 gleich große Teile und beschrifte jede Unterteilung.



- 4) Teile in 6 gleich große Teile und beschrifte jede Unterteilung.

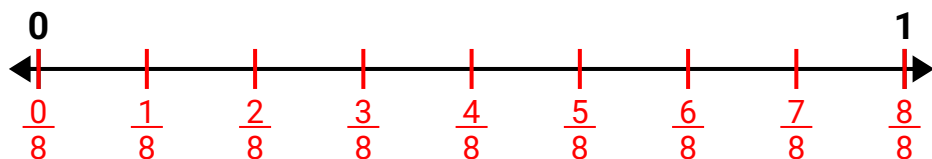


- 5) Teile in 4 gleich große Teile und beschrifte jede Unterteilung.

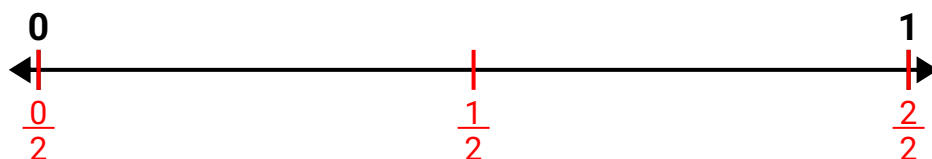


**Löse jede Aufgabe.**

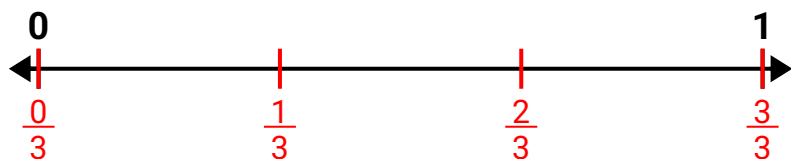
- 1) Teile in 8 gleich große Teile und beschrifte jede Unterteilung.



- 2) Teile in 2 gleich große Teile und beschrifte jede Unterteilung.



- 3) Teile in 3 gleich große Teile und beschrifte jede Unterteilung.



- 4) Teile in 6 gleich große Teile und beschrifte jede Unterteilung.



- 5) Teile in 4 gleich große Teile und beschrifte jede Unterteilung.

