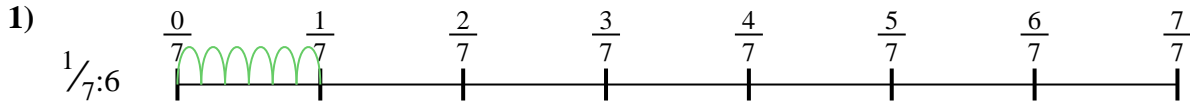





Benutze den Zahlenstrahl um jede Aufgabe zu lösen. Die erste Aufgabe ist bereits als Beispiel markiert.

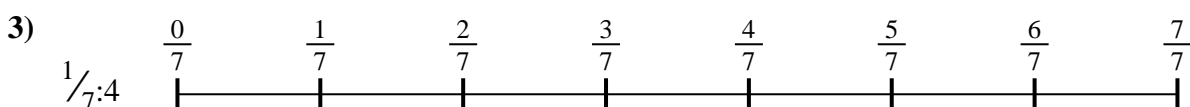
Antworten




1. _____



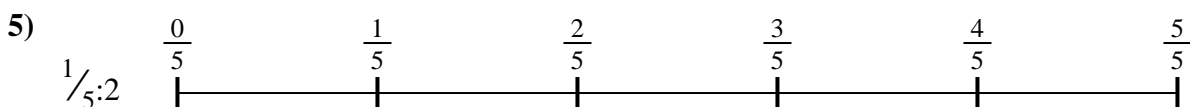
2. _____



3. _____




4. _____



5. _____



6. _____



7. _____



8. _____

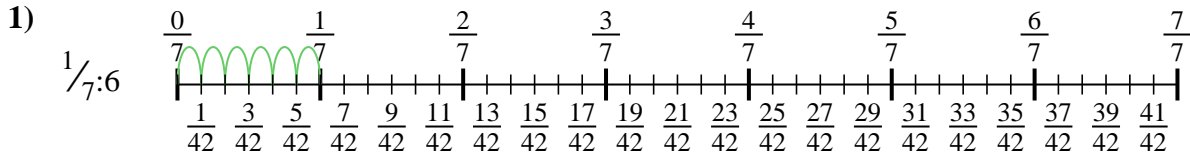


9. _____

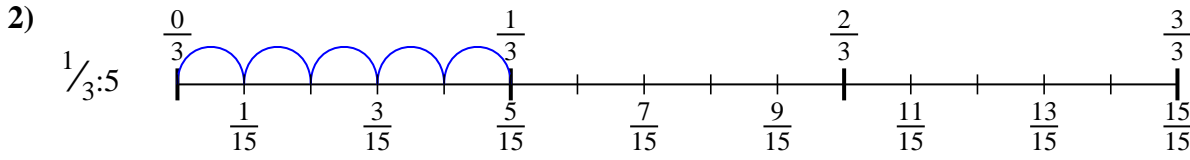


Benutze den Zahlenstrahl um jede Aufgabe zu lösen. Die erste Aufgabe ist bereits als Beispiel markiert.

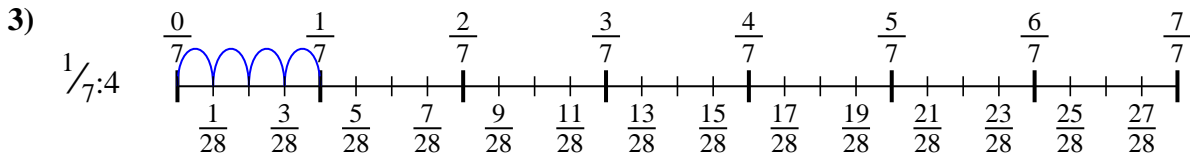
Antworten



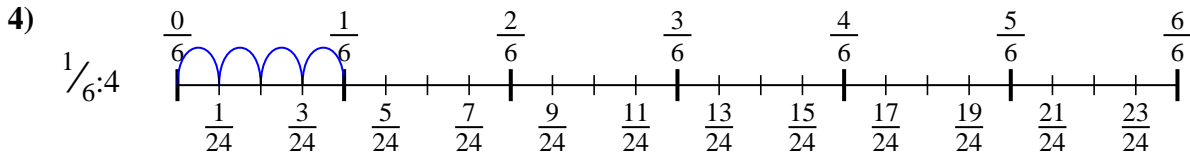
1. $\frac{1}{42}$



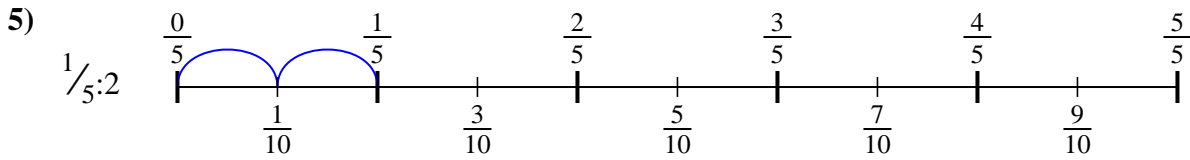
2. $\frac{1}{15}$



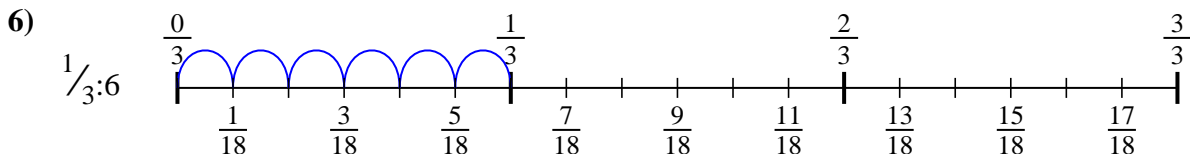
3. $\frac{1}{28}$



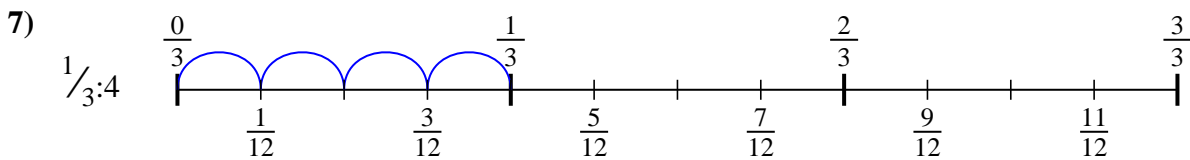
4. $\frac{1}{24}$



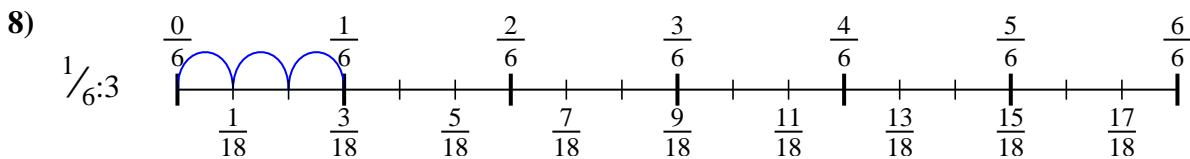
5. $\frac{1}{10}$



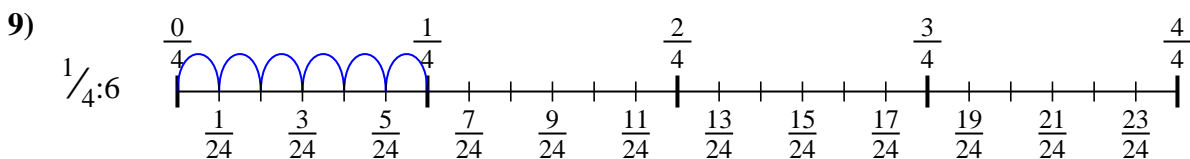
6. $\frac{1}{18}$



7. $\frac{1}{12}$



8. $\frac{1}{18}$



9. $\frac{1}{24}$



Benutze den Zahlenstrahl um jede Aufgabe zu lösen. Die erste Aufgabe ist bereits als Beispiel markiert.

Antworten

$\frac{1}{15}$

$\frac{1}{42}$

$\frac{1}{18}$

$\frac{1}{18}$

$\frac{1}{24}$

$\frac{1}{10}$

$\frac{1}{12}$

$\frac{1}{28}$

$\frac{1}{24}$

1. _____

2. _____

3. _____

4. _____

5. _____

6. _____

7. _____

8. _____

9. _____

