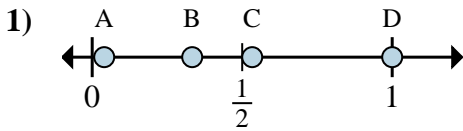
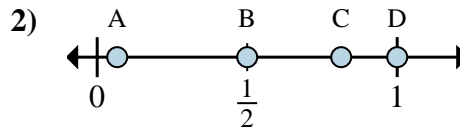




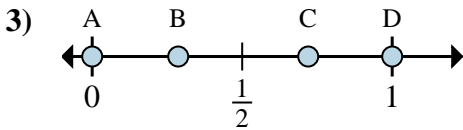
Stelle fest, welcher Buchstabe die richtige Lage auf dem Zahlenstrahl darstellt.

**Antworten**

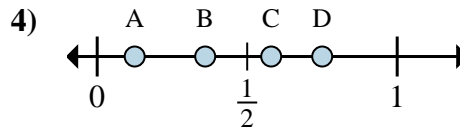
- a. Welcher Buchstabe zeigt die richtige Lage von  $\frac{1}{3}$
- b. Welcher Buchstabe zeigt die richtige Lage von  $\frac{3}{3}$



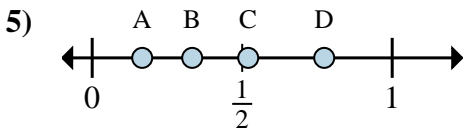
- a. Welcher Buchstabe zeigt die richtige Lage von  $\frac{1}{2}$
- b. Welcher Buchstabe zeigt die richtige Lage von  $\frac{2}{2}$



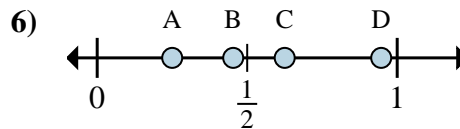
- a. Welcher Buchstabe zeigt die richtige Lage von  $\frac{0}{6}$
- b. Welcher Buchstabe zeigt die richtige Lage von  $\frac{6}{6}$



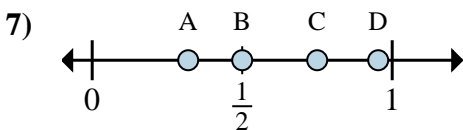
- a. Welcher Buchstabe zeigt die richtige Lage von  $\frac{1}{8}$
- b. Welcher Buchstabe zeigt die richtige Lage von  $\frac{6}{8}$



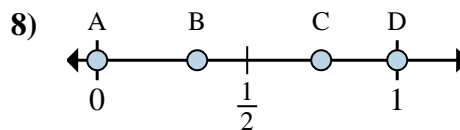
- a. Welcher Buchstabe zeigt die richtige Lage von  $\frac{2}{6}$
- b. Welcher Buchstabe zeigt die richtige Lage von  $\frac{1}{6}$



- a. Welcher Buchstabe zeigt die richtige Lage von  $\frac{5}{8}$
- b. Welcher Buchstabe zeigt die richtige Lage von  $\frac{2}{8}$



- a. Welcher Buchstabe zeigt die richtige Lage von  $\frac{3}{4}$
- b. Welcher Buchstabe zeigt die richtige Lage von  $\frac{2}{4}$



- a. Welcher Buchstabe zeigt die richtige Lage von  $\frac{0}{6}$
- b. Welcher Buchstabe zeigt die richtige Lage von  $\frac{6}{6}$

1. \_\_\_\_\_

2. \_\_\_\_\_

3. \_\_\_\_\_

4. \_\_\_\_\_

5. \_\_\_\_\_

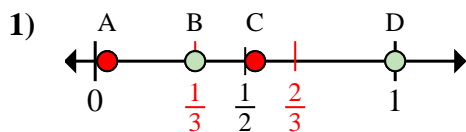
6. \_\_\_\_\_

7. \_\_\_\_\_

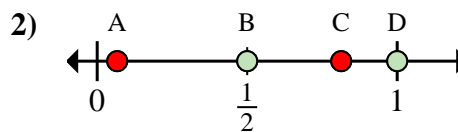
8. \_\_\_\_\_



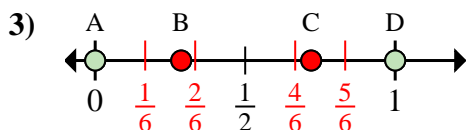
Stelle fest, welcher Buchstabe die richtige Lage auf dem Zahlenstrahl darstellt.

**Antworten**

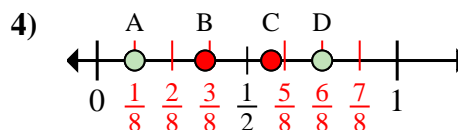
- a. Welcher Buchstabe zeigt die richtige Lage von  $\frac{1}{3}$
- b. Welcher Buchstabe zeigt die richtige Lage von  $\frac{3}{3}$



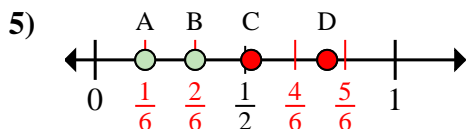
- a. Welcher Buchstabe zeigt die richtige Lage von  $\frac{1}{2}$
- b. Welcher Buchstabe zeigt die richtige Lage von  $\frac{2}{2}$



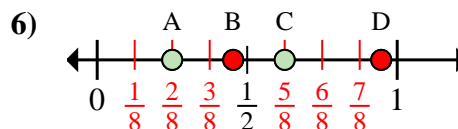
- a. Welcher Buchstabe zeigt die richtige Lage von  $\frac{0}{6}$
- b. Welcher Buchstabe zeigt die richtige Lage von  $\frac{6}{6}$



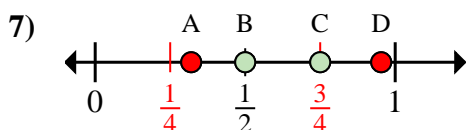
- a. Welcher Buchstabe zeigt die richtige Lage von  $\frac{1}{8}$
- b. Welcher Buchstabe zeigt die richtige Lage von  $\frac{6}{8}$



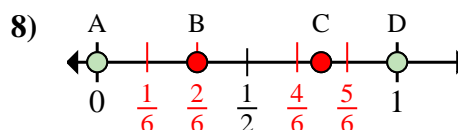
- a. Welcher Buchstabe zeigt die richtige Lage von  $\frac{2}{6}$
- b. Welcher Buchstabe zeigt die richtige Lage von  $\frac{1}{6}$



- a. Welcher Buchstabe zeigt die richtige Lage von  $\frac{5}{8}$
- b. Welcher Buchstabe zeigt die richtige Lage von  $\frac{2}{8}$



- a. Welcher Buchstabe zeigt die richtige Lage von  $\frac{3}{4}$
- b. Welcher Buchstabe zeigt die richtige Lage von  $\frac{2}{4}$

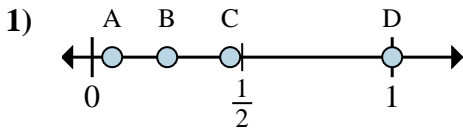


- a. Welcher Buchstabe zeigt die richtige Lage von  $\frac{0}{6}$
- b. Welcher Buchstabe zeigt die richtige Lage von  $\frac{6}{6}$

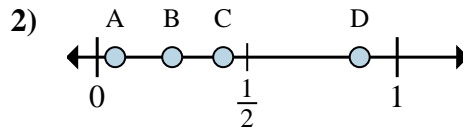
1. B D2. B D3. A D4. A D5. B A6. C A7. C B8. A D



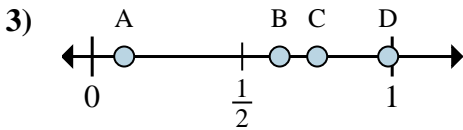
Stelle fest, welcher Buchstabe die richtige Lage auf dem Zahlenstrahl darstellt.

Antworten

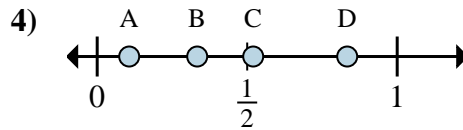
- a. Welcher Buchstabe zeigt die richtige Lage von  $\frac{4}{4}$
- b. Welcher Buchstabe zeigt die richtige Lage von  $\frac{1}{4}$



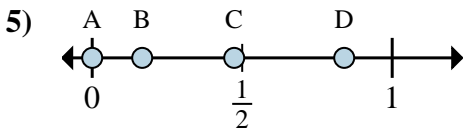
- a. Welcher Buchstabe zeigt die richtige Lage von  $\frac{7}{8}$
- b. Welcher Buchstabe zeigt die richtige Lage von  $\frac{2}{8}$



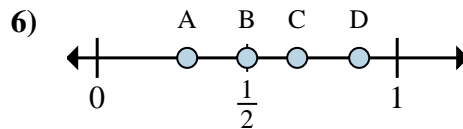
- a. Welcher Buchstabe zeigt die richtige Lage von  $\frac{5}{8}$
- b. Welcher Buchstabe zeigt die richtige Lage von  $\frac{6}{8}$



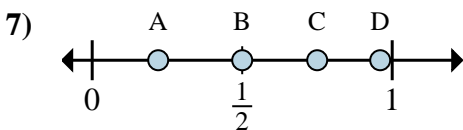
- a. Welcher Buchstabe zeigt die richtige Lage von  $\frac{5}{6}$
- b. Welcher Buchstabe zeigt die richtige Lage von  $\frac{2}{6}$



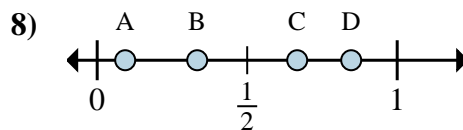
- a. Welcher Buchstabe zeigt die richtige Lage von  $\frac{0}{6}$
- b. Welcher Buchstabe zeigt die richtige Lage von  $\frac{1}{6}$



- a. Welcher Buchstabe zeigt die richtige Lage von  $\frac{3}{6}$
- b. Welcher Buchstabe zeigt die richtige Lage von  $\frac{4}{6}$



- a. Welcher Buchstabe zeigt die richtige Lage von  $\frac{3}{4}$
- b. Welcher Buchstabe zeigt die richtige Lage von  $\frac{2}{4}$



- a. Welcher Buchstabe zeigt die richtige Lage von  $\frac{2}{3}$
- b. Welcher Buchstabe zeigt die richtige Lage von  $\frac{1}{3}$

1. \_\_\_\_\_

2. \_\_\_\_\_

3. \_\_\_\_\_

4. \_\_\_\_\_

5. \_\_\_\_\_

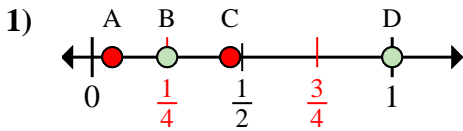
6. \_\_\_\_\_

7. \_\_\_\_\_

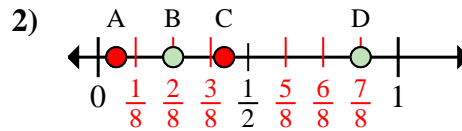
8. \_\_\_\_\_



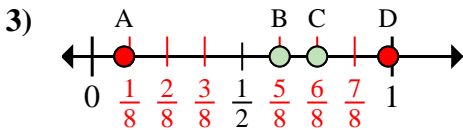
Stelle fest, welcher Buchstabe die richtige Lage auf dem Zahlenstrahl darstellt.

**Antworten**

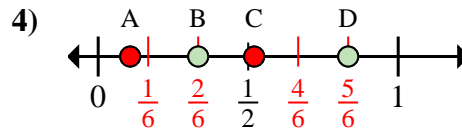
- a. Welcher Buchstabe zeigt die richtige Lage von  $\frac{4}{4}$
- b. Welcher Buchstabe zeigt die richtige Lage von  $\frac{1}{4}$



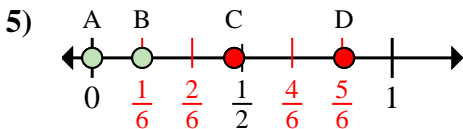
- a. Welcher Buchstabe zeigt die richtige Lage von  $\frac{7}{8}$
- b. Welcher Buchstabe zeigt die richtige Lage von  $\frac{2}{8}$



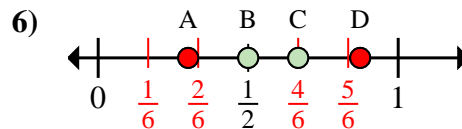
- a. Welcher Buchstabe zeigt die richtige Lage von  $\frac{5}{8}$
- b. Welcher Buchstabe zeigt die richtige Lage von  $\frac{6}{8}$



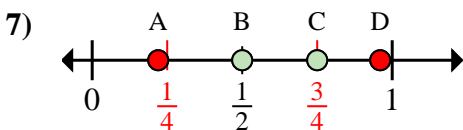
- a. Welcher Buchstabe zeigt die richtige Lage von  $\frac{5}{6}$
- b. Welcher Buchstabe zeigt die richtige Lage von  $\frac{2}{6}$



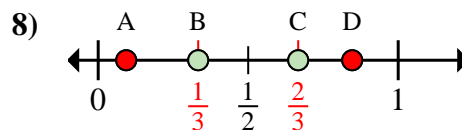
- a. Welcher Buchstabe zeigt die richtige Lage von  $\frac{0}{6}$
- b. Welcher Buchstabe zeigt die richtige Lage von  $\frac{1}{6}$



- a. Welcher Buchstabe zeigt die richtige Lage von  $\frac{3}{6}$
- b. Welcher Buchstabe zeigt die richtige Lage von  $\frac{4}{6}$



- a. Welcher Buchstabe zeigt die richtige Lage von  $\frac{3}{4}$
- b. Welcher Buchstabe zeigt die richtige Lage von  $\frac{2}{4}$

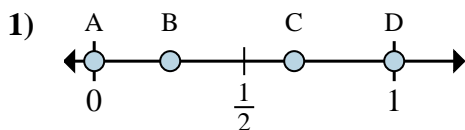


- a. Welcher Buchstabe zeigt die richtige Lage von  $\frac{2}{3}$
- b. Welcher Buchstabe zeigt die richtige Lage von  $\frac{1}{3}$

1. D B
2. D B
3. B C
4. D B
5. A B
6. B C
7. C B
8. C B

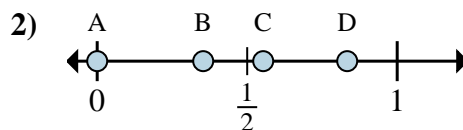


Stelle fest, welcher Buchstabe die richtige Lage auf dem Zahlenstrahl darstellt.

Antworten

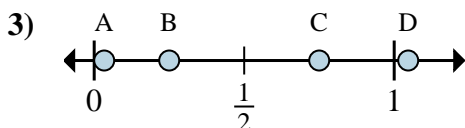
a. Welcher Buchstabe zeigt die richtige Lage von  $\frac{0}{3}$

b. Welcher Buchstabe zeigt die richtige Lage von  $\frac{2}{3}$



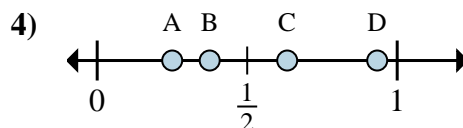
a. Welcher Buchstabe zeigt die richtige Lage von  $\frac{0}{6}$

b. Welcher Buchstabe zeigt die richtige Lage von  $\frac{5}{6}$



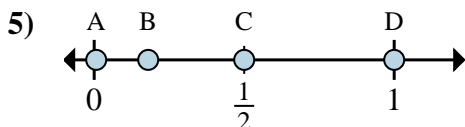
a. Welcher Buchstabe zeigt die richtige Lage von  $\frac{3}{4}$

b. Welcher Buchstabe zeigt die richtige Lage von  $\frac{1}{4}$



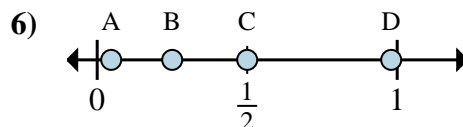
a. Welcher Buchstabe zeigt die richtige Lage von  $\frac{2}{8}$

b. Welcher Buchstabe zeigt die richtige Lage von  $\frac{3}{8}$



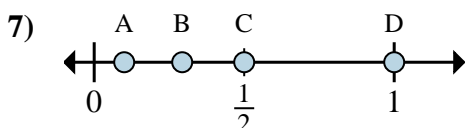
a. Welcher Buchstabe zeigt die richtige Lage von  $\frac{2}{4}$

b. Welcher Buchstabe zeigt die richtige Lage von  $\frac{4}{4}$



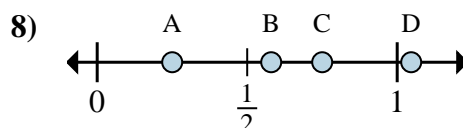
a. Welcher Buchstabe zeigt die richtige Lage von  $\frac{1}{4}$

b. Welcher Buchstabe zeigt die richtige Lage von  $\frac{2}{4}$



a. Welcher Buchstabe zeigt die richtige Lage von  $\frac{1}{2}$

b. Welcher Buchstabe zeigt die richtige Lage von  $\frac{2}{2}$



a. Welcher Buchstabe zeigt die richtige Lage von  $\frac{1}{4}$

b. Welcher Buchstabe zeigt die richtige Lage von  $\frac{3}{4}$

1. \_\_\_\_\_

2. \_\_\_\_\_

3. \_\_\_\_\_

4. \_\_\_\_\_

5. \_\_\_\_\_

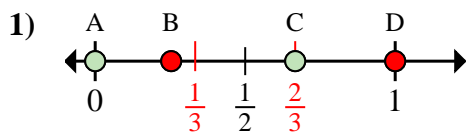
6. \_\_\_\_\_

7. \_\_\_\_\_

8. \_\_\_\_\_

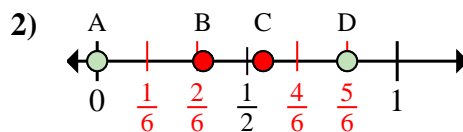


Stelle fest, welcher Buchstabe die richtige Lage auf dem Zahlenstrahl darstellt.

**Antworten**

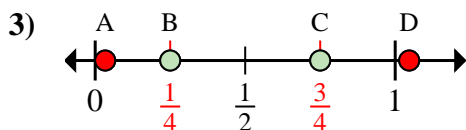
a. Welcher Buchstabe zeigt die richtige Lage von  $\frac{0}{3}$

b. Welcher Buchstabe zeigt die richtige Lage von  $\frac{2}{3}$



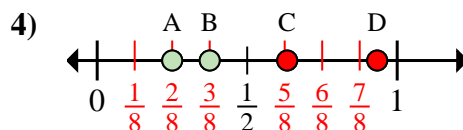
a. Welcher Buchstabe zeigt die richtige Lage von  $\frac{0}{6}$

b. Welcher Buchstabe zeigt die richtige Lage von  $\frac{5}{6}$



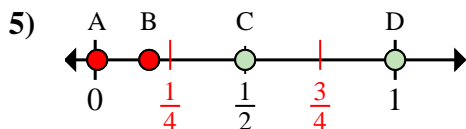
a. Welcher Buchstabe zeigt die richtige Lage von  $\frac{3}{4}$

b. Welcher Buchstabe zeigt die richtige Lage von  $\frac{1}{4}$



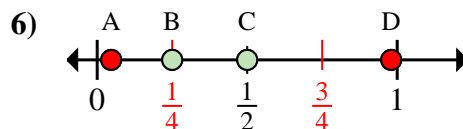
a. Welcher Buchstabe zeigt die richtige Lage von  $\frac{2}{8}$

b. Welcher Buchstabe zeigt die richtige Lage von  $\frac{3}{8}$



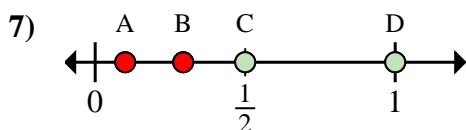
a. Welcher Buchstabe zeigt die richtige Lage von  $\frac{2}{4}$

b. Welcher Buchstabe zeigt die richtige Lage von  $\frac{4}{4}$



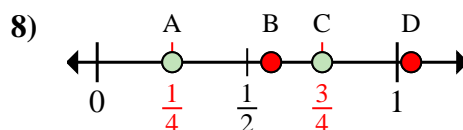
a. Welcher Buchstabe zeigt die richtige Lage von  $\frac{1}{4}$

b. Welcher Buchstabe zeigt die richtige Lage von  $\frac{2}{4}$



a. Welcher Buchstabe zeigt die richtige Lage von  $\frac{1}{2}$

b. Welcher Buchstabe zeigt die richtige Lage von  $\frac{2}{2}$



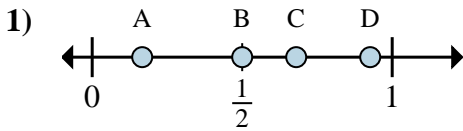
a. Welcher Buchstabe zeigt die richtige Lage von  $\frac{1}{4}$

b. Welcher Buchstabe zeigt die richtige Lage von  $\frac{3}{4}$

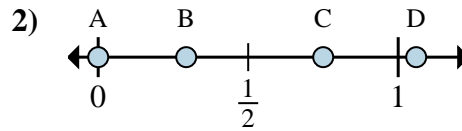
1. A C2. A D3. C B4. A B5. C D6. B C7. C D8. A C



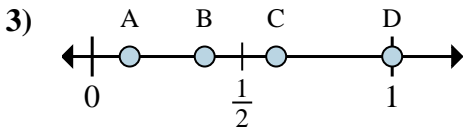
Stelle fest, welcher Buchstabe die richtige Lage auf dem Zahlenstrahl darstellt.

**Antworten**

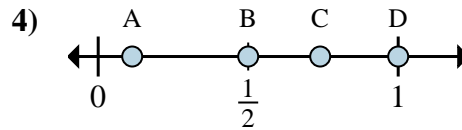
- a. Welcher Buchstabe zeigt die richtige Lage von  $\frac{1}{6}$   
 b. Welcher Buchstabe zeigt die richtige Lage von  $\frac{3}{6}$



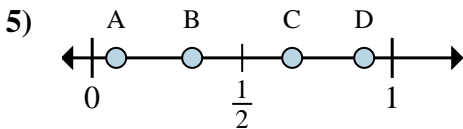
- a. Welcher Buchstabe zeigt die richtige Lage von  $\frac{0}{4}$   
 b. Welcher Buchstabe zeigt die richtige Lage von  $\frac{3}{4}$



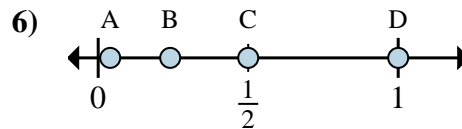
- a. Welcher Buchstabe zeigt die richtige Lage von  $\frac{1}{8}$   
 b. Welcher Buchstabe zeigt die richtige Lage von  $\frac{3}{8}$



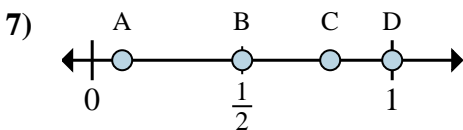
- a. Welcher Buchstabe zeigt die richtige Lage von  $\frac{2}{2}$   
 b. Welcher Buchstabe zeigt die richtige Lage von  $\frac{1}{2}$



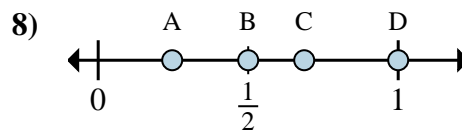
- a. Welcher Buchstabe zeigt die richtige Lage von  $\frac{1}{3}$   
 b. Welcher Buchstabe zeigt die richtige Lage von  $\frac{2}{3}$



- a. Welcher Buchstabe zeigt die richtige Lage von  $\frac{2}{2}$   
 b. Welcher Buchstabe zeigt die richtige Lage von  $\frac{1}{2}$



- a. Welcher Buchstabe zeigt die richtige Lage von  $\frac{1}{2}$   
 b. Welcher Buchstabe zeigt die richtige Lage von  $\frac{2}{2}$

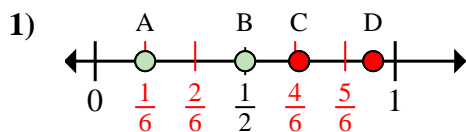


- a. Welcher Buchstabe zeigt die richtige Lage von  $\frac{1}{2}$   
 b. Welcher Buchstabe zeigt die richtige Lage von  $\frac{2}{2}$

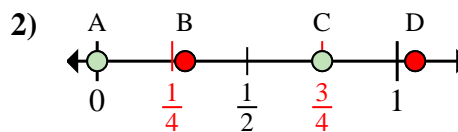
1. \_\_\_\_\_  
 2. \_\_\_\_\_  
 3. \_\_\_\_\_  
 4. \_\_\_\_\_  
 5. \_\_\_\_\_  
 6. \_\_\_\_\_  
 7. \_\_\_\_\_  
 8. \_\_\_\_\_



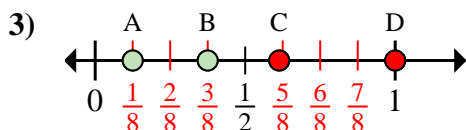
Stelle fest, welcher Buchstabe die richtige Lage auf dem Zahlenstrahl darstellt.

**Antworten**

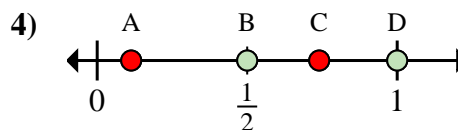
- a. Welcher Buchstabe zeigt die richtige Lage von  $\frac{1}{6}$
- b. Welcher Buchstabe zeigt die richtige Lage von  $\frac{3}{6}$



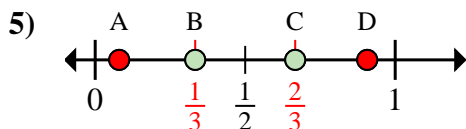
- a. Welcher Buchstabe zeigt die richtige Lage von  $\frac{0}{4}$
- b. Welcher Buchstabe zeigt die richtige Lage von  $\frac{3}{4}$



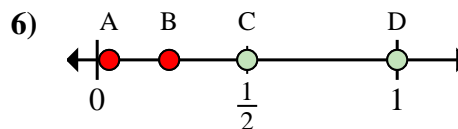
- a. Welcher Buchstabe zeigt die richtige Lage von  $\frac{1}{8}$
- b. Welcher Buchstabe zeigt die richtige Lage von  $\frac{3}{8}$



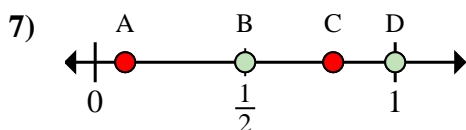
- a. Welcher Buchstabe zeigt die richtige Lage von  $\frac{2}{2}$
- b. Welcher Buchstabe zeigt die richtige Lage von  $\frac{1}{2}$



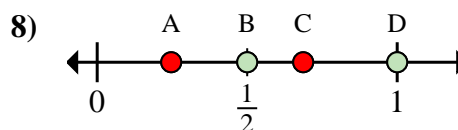
- a. Welcher Buchstabe zeigt die richtige Lage von  $\frac{1}{3}$
- b. Welcher Buchstabe zeigt die richtige Lage von  $\frac{2}{3}$



- a. Welcher Buchstabe zeigt die richtige Lage von  $\frac{2}{2}$
- b. Welcher Buchstabe zeigt die richtige Lage von  $\frac{1}{2}$



- a. Welcher Buchstabe zeigt die richtige Lage von  $\frac{1}{2}$
- b. Welcher Buchstabe zeigt die richtige Lage von  $\frac{2}{2}$



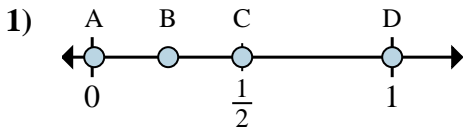
- a. Welcher Buchstabe zeigt die richtige Lage von  $\frac{1}{2}$
- b. Welcher Buchstabe zeigt die richtige Lage von  $\frac{2}{2}$

1. A B2. A C3. A B4. D B5. B C6. D C7. B D8. B D

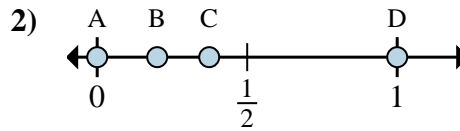




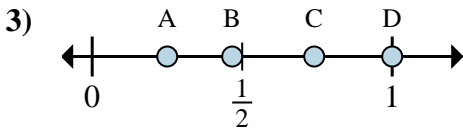
Stelle fest, welcher Buchstabe die richtige Lage auf dem Zahlenstrahl darstellt.

Antworten

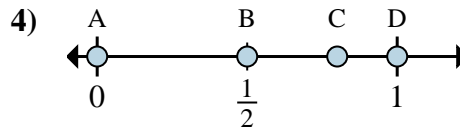
- a. Welcher Buchstabe zeigt die richtige Lage von  $\frac{6}{6}$
- b. Welcher Buchstabe zeigt die richtige Lage von  $\frac{3}{6}$



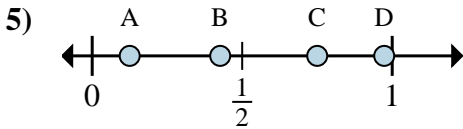
- a. Welcher Buchstabe zeigt die richtige Lage von  $\frac{0}{2}$
- b. Welcher Buchstabe zeigt die richtige Lage von  $\frac{2}{2}$



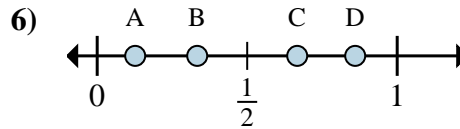
- a. Welcher Buchstabe zeigt die richtige Lage von  $\frac{1}{4}$
- b. Welcher Buchstabe zeigt die richtige Lage von  $\frac{4}{4}$



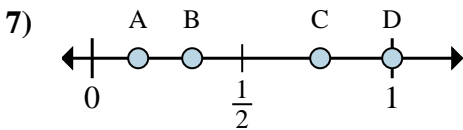
- a. Welcher Buchstabe zeigt die richtige Lage von  $\frac{0}{3}$
- b. Welcher Buchstabe zeigt die richtige Lage von  $\frac{3}{3}$



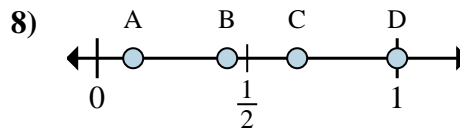
- a. Welcher Buchstabe zeigt die richtige Lage von  $\frac{1}{8}$
- b. Welcher Buchstabe zeigt die richtige Lage von  $\frac{6}{8}$



- a. Welcher Buchstabe zeigt die richtige Lage von  $\frac{2}{3}$
- b. Welcher Buchstabe zeigt die richtige Lage von  $\frac{1}{3}$



- a. Welcher Buchstabe zeigt die richtige Lage von  $\frac{1}{3}$
- b. Welcher Buchstabe zeigt die richtige Lage von  $\frac{3}{3}$



- a. Welcher Buchstabe zeigt die richtige Lage von  $\frac{3}{3}$
- b. Welcher Buchstabe zeigt die richtige Lage von  $\frac{2}{3}$

1. \_\_\_\_\_

2. \_\_\_\_\_

3. \_\_\_\_\_

4. \_\_\_\_\_

5. \_\_\_\_\_

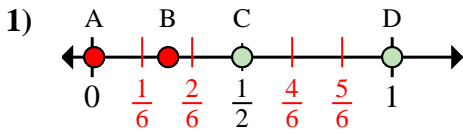
6. \_\_\_\_\_

7. \_\_\_\_\_

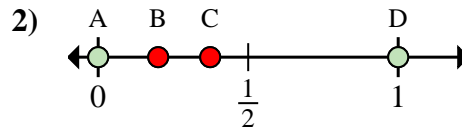
8. \_\_\_\_\_



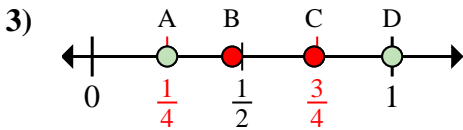
Stelle fest, welcher Buchstabe die richtige Lage auf dem Zahlenstrahl darstellt.

**Antworten**

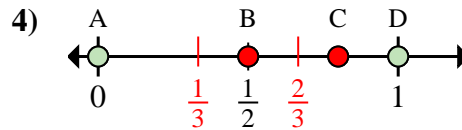
- a. Welcher Buchstabe zeigt die richtige Lage von  $\frac{6}{6}$
- b. Welcher Buchstabe zeigt die richtige Lage von  $\frac{3}{6}$



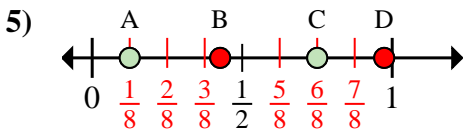
- a. Welcher Buchstabe zeigt die richtige Lage von  $\frac{0}{2}$
- b. Welcher Buchstabe zeigt die richtige Lage von  $\frac{2}{2}$



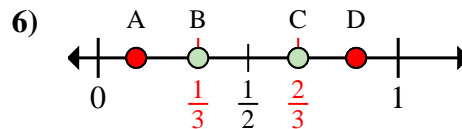
- a. Welcher Buchstabe zeigt die richtige Lage von  $\frac{1}{4}$
- b. Welcher Buchstabe zeigt die richtige Lage von  $\frac{4}{4}$



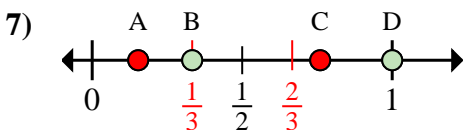
- a. Welcher Buchstabe zeigt die richtige Lage von  $\frac{0}{3}$
- b. Welcher Buchstabe zeigt die richtige Lage von  $\frac{3}{3}$



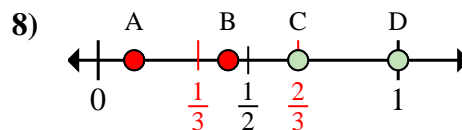
- a. Welcher Buchstabe zeigt die richtige Lage von  $\frac{1}{8}$
- b. Welcher Buchstabe zeigt die richtige Lage von  $\frac{6}{8}$



- a. Welcher Buchstabe zeigt die richtige Lage von  $\frac{2}{3}$
- b. Welcher Buchstabe zeigt die richtige Lage von  $\frac{1}{3}$



- a. Welcher Buchstabe zeigt die richtige Lage von  $\frac{1}{3}$
- b. Welcher Buchstabe zeigt die richtige Lage von  $\frac{3}{3}$

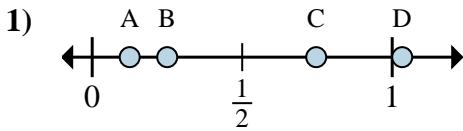


- a. Welcher Buchstabe zeigt die richtige Lage von  $\frac{3}{3}$
- b. Welcher Buchstabe zeigt die richtige Lage von  $\frac{2}{3}$

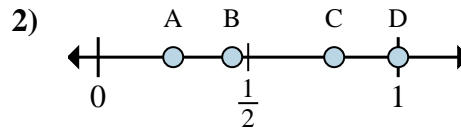
1. D C
2. A D
3. A D
4. A D
5. A C
6. C B
7. B D
8. D C



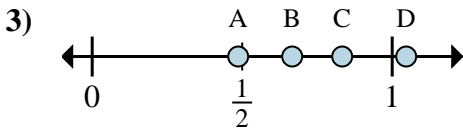
Stelle fest, welcher Buchstabe die richtige Lage auf dem Zahlenstrahl darstellt.

Antworten

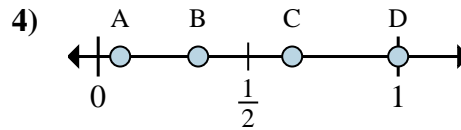
- a. Welcher Buchstabe zeigt die richtige Lage von  $\frac{1}{8}$
- b. Welcher Buchstabe zeigt die richtige Lage von  $\frac{2}{8}$



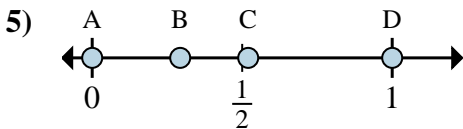
- a. Welcher Buchstabe zeigt die richtige Lage von  $\frac{4}{4}$
- b. Welcher Buchstabe zeigt die richtige Lage von  $\frac{1}{4}$



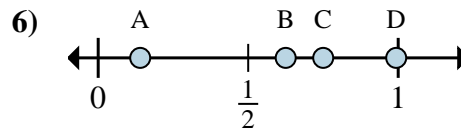
- a. Welcher Buchstabe zeigt die richtige Lage von  $\frac{5}{6}$
- b. Welcher Buchstabe zeigt die richtige Lage von  $\frac{4}{6}$



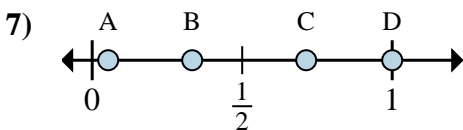
- a. Welcher Buchstabe zeigt die richtige Lage von  $\frac{3}{3}$
- b. Welcher Buchstabe zeigt die richtige Lage von  $\frac{1}{3}$



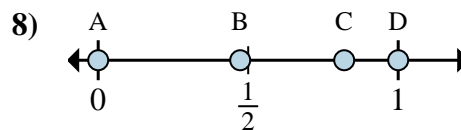
- a. Welcher Buchstabe zeigt die richtige Lage von  $\frac{0}{2}$
- b. Welcher Buchstabe zeigt die richtige Lage von  $\frac{2}{2}$



- a. Welcher Buchstabe zeigt die richtige Lage von  $\frac{6}{8}$
- b. Welcher Buchstabe zeigt die richtige Lage von  $\frac{5}{8}$



- a. Welcher Buchstabe zeigt die richtige Lage von  $\frac{1}{3}$
- b. Welcher Buchstabe zeigt die richtige Lage von  $\frac{3}{3}$

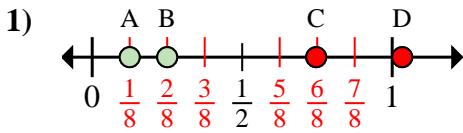


- a. Welcher Buchstabe zeigt die richtige Lage von  $\frac{0}{2}$
- b. Welcher Buchstabe zeigt die richtige Lage von  $\frac{2}{2}$

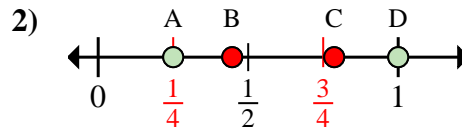
1. \_\_\_\_\_
2. \_\_\_\_\_
3. \_\_\_\_\_
4. \_\_\_\_\_
5. \_\_\_\_\_
6. \_\_\_\_\_
7. \_\_\_\_\_
8. \_\_\_\_\_



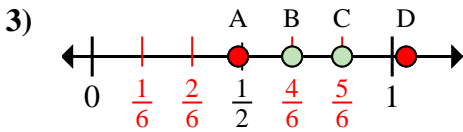
Stelle fest, welcher Buchstabe die richtige Lage auf dem Zahlenstrahl darstellt.

**Antworten**

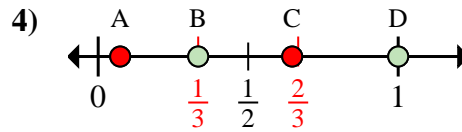
- a. Welcher Buchstabe zeigt die richtige Lage von  $\frac{1}{8}$
- b. Welcher Buchstabe zeigt die richtige Lage von  $\frac{2}{8}$



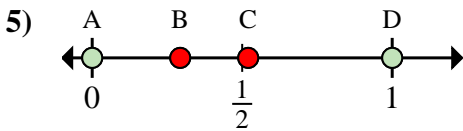
- a. Welcher Buchstabe zeigt die richtige Lage von  $\frac{4}{4}$
- b. Welcher Buchstabe zeigt die richtige Lage von  $\frac{1}{4}$



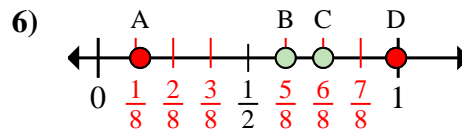
- a. Welcher Buchstabe zeigt die richtige Lage von  $\frac{5}{6}$
- b. Welcher Buchstabe zeigt die richtige Lage von  $\frac{4}{6}$



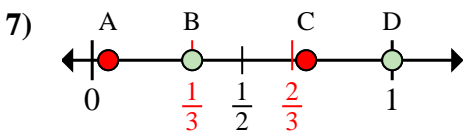
- a. Welcher Buchstabe zeigt die richtige Lage von  $\frac{3}{3}$
- b. Welcher Buchstabe zeigt die richtige Lage von  $\frac{1}{3}$



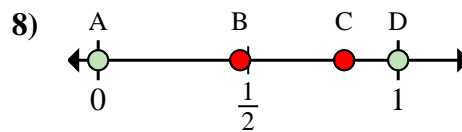
- a. Welcher Buchstabe zeigt die richtige Lage von  $\frac{0}{2}$
- b. Welcher Buchstabe zeigt die richtige Lage von  $\frac{2}{2}$



- a. Welcher Buchstabe zeigt die richtige Lage von  $\frac{6}{8}$
- b. Welcher Buchstabe zeigt die richtige Lage von  $\frac{5}{8}$



- a. Welcher Buchstabe zeigt die richtige Lage von  $\frac{1}{3}$
- b. Welcher Buchstabe zeigt die richtige Lage von  $\frac{3}{3}$

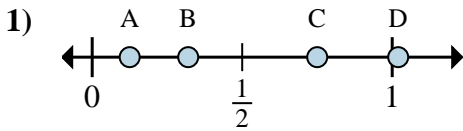


- a. Welcher Buchstabe zeigt die richtige Lage von  $\frac{0}{2}$
- b. Welcher Buchstabe zeigt die richtige Lage von  $\frac{2}{2}$

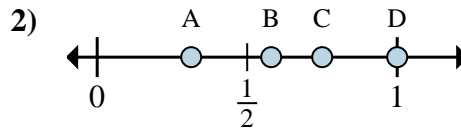
1. A B
2. D A
3. C B
4. D B
5. A D
6. C B
7. B D
8. A D



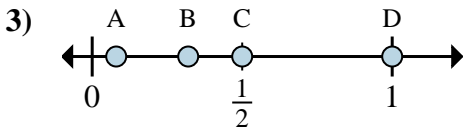
Stelle fest, welcher Buchstabe die richtige Lage auf dem Zahlenstrahl darstellt.

**Antworten**

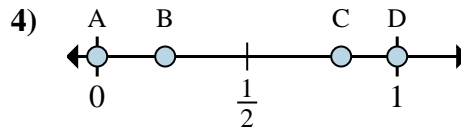
- a. Welcher Buchstabe zeigt die richtige Lage von  $\frac{1}{8}$
- b. Welcher Buchstabe zeigt die richtige Lage von  $\frac{6}{8}$



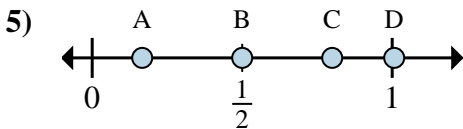
- a. Welcher Buchstabe zeigt die richtige Lage von  $\frac{3}{4}$
- b. Welcher Buchstabe zeigt die richtige Lage von  $\frac{4}{4}$



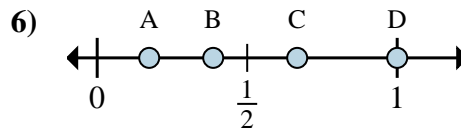
- a. Welcher Buchstabe zeigt die richtige Lage von  $\frac{8}{8}$
- b. Welcher Buchstabe zeigt die richtige Lage von  $\frac{4}{8}$



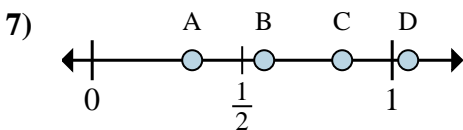
- a. Welcher Buchstabe zeigt die richtige Lage von  $\frac{0}{2}$
- b. Welcher Buchstabe zeigt die richtige Lage von  $\frac{2}{2}$



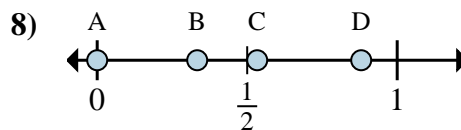
- a. Welcher Buchstabe zeigt die richtige Lage von  $\frac{1}{6}$
- b. Welcher Buchstabe zeigt die richtige Lage von  $\frac{3}{6}$



- a. Welcher Buchstabe zeigt die richtige Lage von  $\frac{2}{3}$
- b. Welcher Buchstabe zeigt die richtige Lage von  $\frac{3}{3}$



- a. Welcher Buchstabe zeigt die richtige Lage von  $\frac{5}{6}$
- b. Welcher Buchstabe zeigt die richtige Lage von  $\frac{2}{6}$



- a. Welcher Buchstabe zeigt die richtige Lage von  $\frac{0}{3}$
- b. Welcher Buchstabe zeigt die richtige Lage von  $\frac{1}{3}$

1. \_\_\_\_\_

2. \_\_\_\_\_

3. \_\_\_\_\_

4. \_\_\_\_\_

5. \_\_\_\_\_

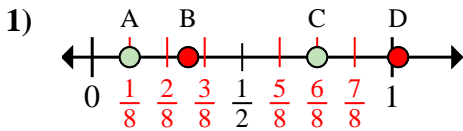
6. \_\_\_\_\_

7. \_\_\_\_\_

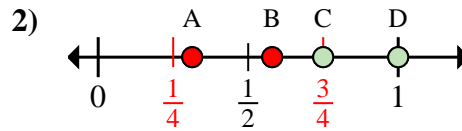
8. \_\_\_\_\_



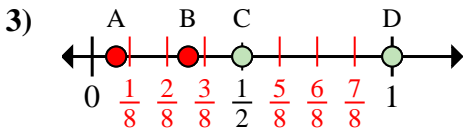
Stelle fest, welcher Buchstabe die richtige Lage auf dem Zahlenstrahl darstellt.

**Antworten**

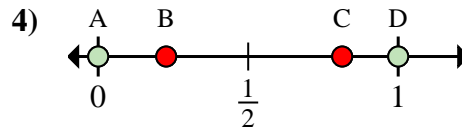
- a. Welcher Buchstabe zeigt die richtige Lage von  $\frac{1}{8}$
- b. Welcher Buchstabe zeigt die richtige Lage von  $\frac{6}{8}$



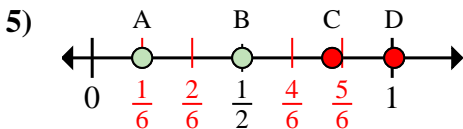
- a. Welcher Buchstabe zeigt die richtige Lage von  $\frac{3}{4}$
- b. Welcher Buchstabe zeigt die richtige Lage von  $\frac{4}{4}$



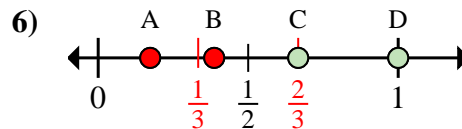
- a. Welcher Buchstabe zeigt die richtige Lage von  $\frac{8}{8}$
- b. Welcher Buchstabe zeigt die richtige Lage von  $\frac{4}{8}$



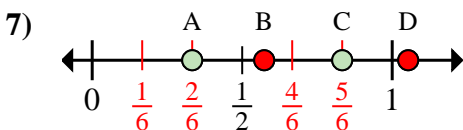
- a. Welcher Buchstabe zeigt die richtige Lage von  $\frac{0}{2}$
- b. Welcher Buchstabe zeigt die richtige Lage von  $\frac{2}{2}$



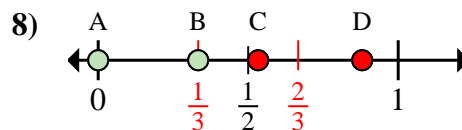
- a. Welcher Buchstabe zeigt die richtige Lage von  $\frac{1}{6}$
- b. Welcher Buchstabe zeigt die richtige Lage von  $\frac{3}{6}$



- a. Welcher Buchstabe zeigt die richtige Lage von  $\frac{2}{3}$
- b. Welcher Buchstabe zeigt die richtige Lage von  $\frac{3}{3}$



- a. Welcher Buchstabe zeigt die richtige Lage von  $\frac{5}{6}$
- b. Welcher Buchstabe zeigt die richtige Lage von  $\frac{2}{6}$

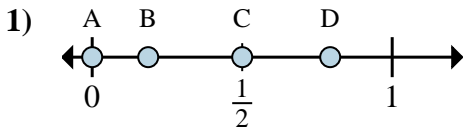


- a. Welcher Buchstabe zeigt die richtige Lage von  $\frac{0}{3}$
- b. Welcher Buchstabe zeigt die richtige Lage von  $\frac{1}{3}$

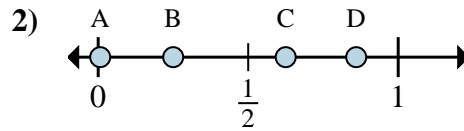
1. A C
2. C D
3. D C
4. A D
5. A B
6. C D
7. C A
8. A B



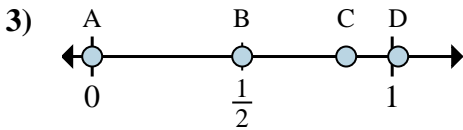
Stelle fest, welcher Buchstabe die richtige Lage auf dem Zahlenstrahl darstellt.

Antworten

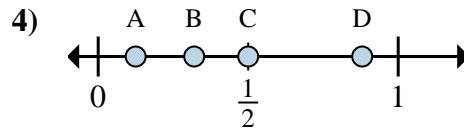
- a. Welcher Buchstabe zeigt die richtige Lage von  $\frac{0}{2}$
- b. Welcher Buchstabe zeigt die richtige Lage von  $\frac{1}{2}$



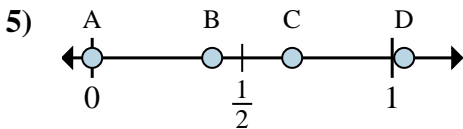
- a. Welcher Buchstabe zeigt die richtige Lage von  $\frac{2}{8}$
- b. Welcher Buchstabe zeigt die richtige Lage von  $\frac{5}{8}$



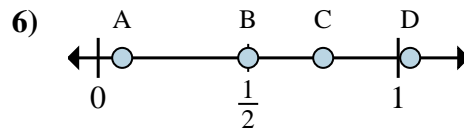
- a. Welcher Buchstabe zeigt die richtige Lage von  $\frac{0}{6}$
- b. Welcher Buchstabe zeigt die richtige Lage von  $\frac{3}{6}$



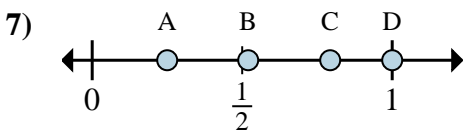
- a. Welcher Buchstabe zeigt die richtige Lage von  $\frac{1}{8}$
- b. Welcher Buchstabe zeigt die richtige Lage von  $\frac{4}{8}$



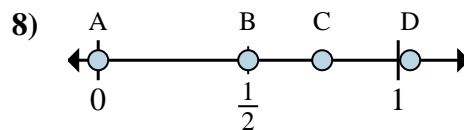
- a. Welcher Buchstabe zeigt die richtige Lage von  $\frac{0}{3}$
- b. Welcher Buchstabe zeigt die richtige Lage von  $\frac{2}{3}$



- a. Welcher Buchstabe zeigt die richtige Lage von  $\frac{2}{4}$
- b. Welcher Buchstabe zeigt die richtige Lage von  $\frac{3}{4}$



- a. Welcher Buchstabe zeigt die richtige Lage von  $\frac{1}{4}$
- b. Welcher Buchstabe zeigt die richtige Lage von  $\frac{4}{4}$



- a. Welcher Buchstabe zeigt die richtige Lage von  $\frac{0}{2}$
- b. Welcher Buchstabe zeigt die richtige Lage von  $\frac{1}{2}$

1. \_\_\_\_\_

2. \_\_\_\_\_

3. \_\_\_\_\_

4. \_\_\_\_\_

5. \_\_\_\_\_

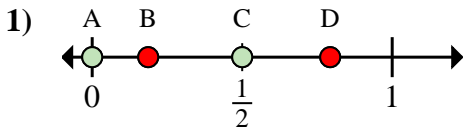
6. \_\_\_\_\_

7. \_\_\_\_\_

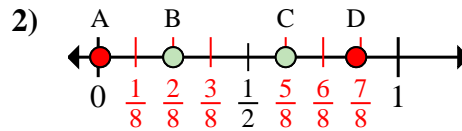
8. \_\_\_\_\_



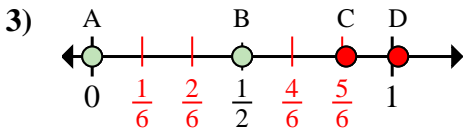
Stelle fest, welcher Buchstabe die richtige Lage auf dem Zahlenstrahl darstellt.

**Antworten**

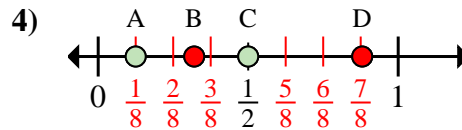
- a. Welcher Buchstabe zeigt die richtige Lage von  $\frac{0}{2}$
- b. Welcher Buchstabe zeigt die richtige Lage von  $\frac{1}{2}$



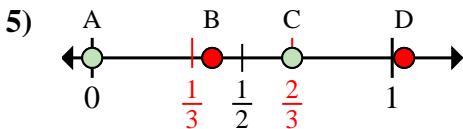
- a. Welcher Buchstabe zeigt die richtige Lage von  $\frac{2}{8}$
- b. Welcher Buchstabe zeigt die richtige Lage von  $\frac{5}{8}$



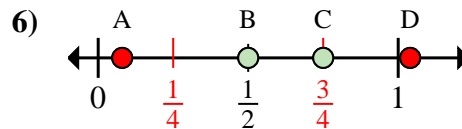
- a. Welcher Buchstabe zeigt die richtige Lage von  $\frac{0}{6}$
- b. Welcher Buchstabe zeigt die richtige Lage von  $\frac{3}{6}$



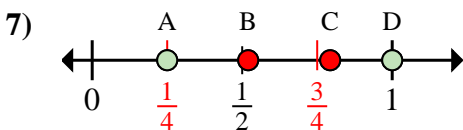
- a. Welcher Buchstabe zeigt die richtige Lage von  $\frac{1}{8}$
- b. Welcher Buchstabe zeigt die richtige Lage von  $\frac{4}{8}$



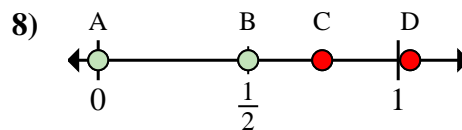
- a. Welcher Buchstabe zeigt die richtige Lage von  $\frac{0}{3}$
- b. Welcher Buchstabe zeigt die richtige Lage von  $\frac{2}{3}$



- a. Welcher Buchstabe zeigt die richtige Lage von  $\frac{2}{4}$
- b. Welcher Buchstabe zeigt die richtige Lage von  $\frac{3}{4}$



- a. Welcher Buchstabe zeigt die richtige Lage von  $\frac{1}{4}$
- b. Welcher Buchstabe zeigt die richtige Lage von  $\frac{4}{4}$



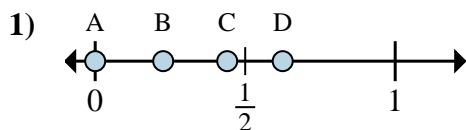
- a. Welcher Buchstabe zeigt die richtige Lage von  $\frac{0}{2}$
- b. Welcher Buchstabe zeigt die richtige Lage von  $\frac{1}{2}$

1. A C
2. B C
3. A B
4. A C
5. A C
6. B C
7. A D
8. A B



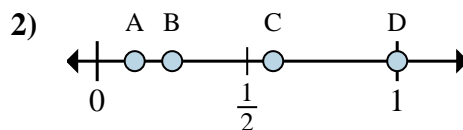


Stelle fest, welcher Buchstabe die richtige Lage auf dem Zahlenstrahl darstellt.

Antworten

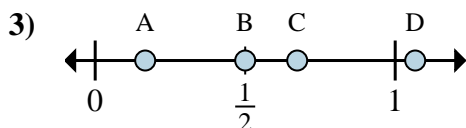
a. Welcher Buchstabe zeigt die richtige Lage von  $\frac{0}{8}$

b. Welcher Buchstabe zeigt die richtige Lage von  $\frac{5}{8}$



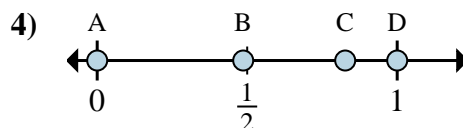
a. Welcher Buchstabe zeigt die richtige Lage von  $\frac{1}{8}$

b. Welcher Buchstabe zeigt die richtige Lage von  $\frac{2}{8}$



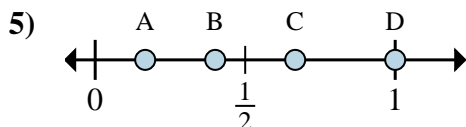
a. Welcher Buchstabe zeigt die richtige Lage von  $\frac{1}{6}$

b. Welcher Buchstabe zeigt die richtige Lage von  $\frac{3}{6}$



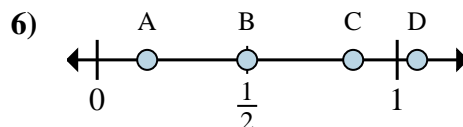
a. Welcher Buchstabe zeigt die richtige Lage von  $\frac{0}{2}$

b. Welcher Buchstabe zeigt die richtige Lage von  $\frac{2}{2}$



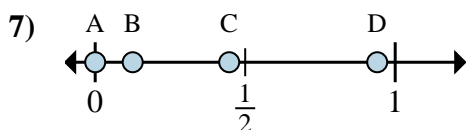
a. Welcher Buchstabe zeigt die richtige Lage von  $\frac{3}{3}$

b. Welcher Buchstabe zeigt die richtige Lage von  $\frac{2}{3}$



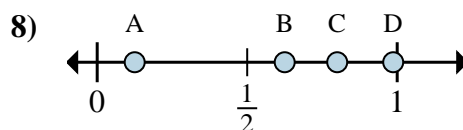
a. Welcher Buchstabe zeigt die richtige Lage von  $\frac{3}{6}$

b. Welcher Buchstabe zeigt die richtige Lage von  $\frac{1}{6}$



a. Welcher Buchstabe zeigt die richtige Lage von  $\frac{0}{8}$

b. Welcher Buchstabe zeigt die richtige Lage von  $\frac{1}{8}$



a. Welcher Buchstabe zeigt die richtige Lage von  $\frac{5}{8}$

b. Welcher Buchstabe zeigt die richtige Lage von  $\frac{1}{8}$

1. \_\_\_\_\_

2. \_\_\_\_\_

3. \_\_\_\_\_

4. \_\_\_\_\_

5. \_\_\_\_\_

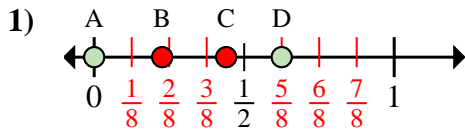
6. \_\_\_\_\_

7. \_\_\_\_\_

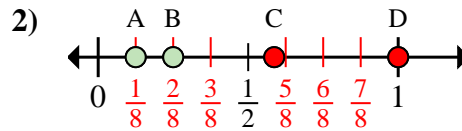
8. \_\_\_\_\_



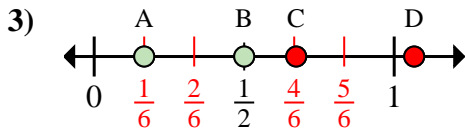
Stelle fest, welcher Buchstabe die richtige Lage auf dem Zahlenstrahl darstellt.

**Antworten**

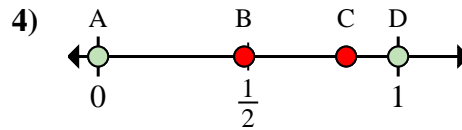
- a. Welcher Buchstabe zeigt die richtige Lage von  $\frac{0}{8}$
- b. Welcher Buchstabe zeigt die richtige Lage von  $\frac{5}{8}$



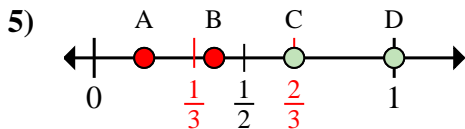
- a. Welcher Buchstabe zeigt die richtige Lage von  $\frac{1}{8}$
- b. Welcher Buchstabe zeigt die richtige Lage von  $\frac{2}{8}$



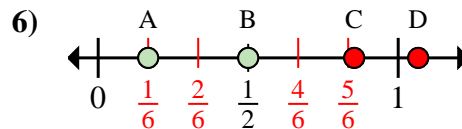
- a. Welcher Buchstabe zeigt die richtige Lage von  $\frac{1}{6}$
- b. Welcher Buchstabe zeigt die richtige Lage von  $\frac{3}{6}$



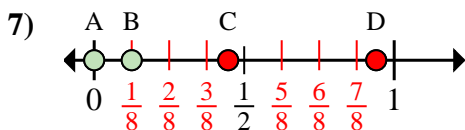
- a. Welcher Buchstabe zeigt die richtige Lage von  $\frac{0}{2}$
- b. Welcher Buchstabe zeigt die richtige Lage von  $\frac{2}{2}$



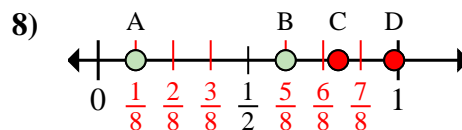
- a. Welcher Buchstabe zeigt die richtige Lage von  $\frac{3}{3}$
- b. Welcher Buchstabe zeigt die richtige Lage von  $\frac{2}{3}$



- a. Welcher Buchstabe zeigt die richtige Lage von  $\frac{3}{6}$
- b. Welcher Buchstabe zeigt die richtige Lage von  $\frac{1}{6}$



- a. Welcher Buchstabe zeigt die richtige Lage von  $\frac{0}{8}$
- b. Welcher Buchstabe zeigt die richtige Lage von  $\frac{1}{8}$

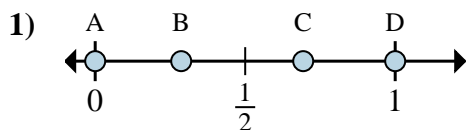


- a. Welcher Buchstabe zeigt die richtige Lage von  $\frac{5}{8}$
- b. Welcher Buchstabe zeigt die richtige Lage von  $\frac{1}{8}$

1. A D
2. A B
3. A B
4. A D
5. D C
6. B A
7. A B
8. B A

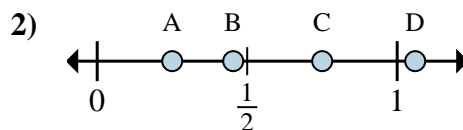


Stelle fest, welcher Buchstabe die richtige Lage auf dem Zahlenstrahl darstellt.

**Antworten**

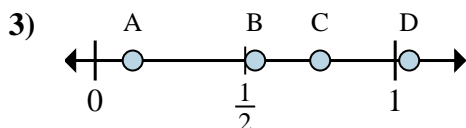
a. Welcher Buchstabe zeigt die richtige Lage von  $\frac{0}{2}$

b. Welcher Buchstabe zeigt die richtige Lage von  $\frac{2}{2}$



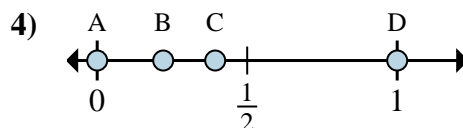
a. Welcher Buchstabe zeigt die richtige Lage von  $\frac{1}{4}$

b. Welcher Buchstabe zeigt die richtige Lage von  $\frac{3}{4}$



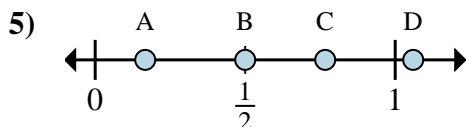
a. Welcher Buchstabe zeigt die richtige Lage von  $\frac{6}{8}$

b. Welcher Buchstabe zeigt die richtige Lage von  $\frac{1}{8}$



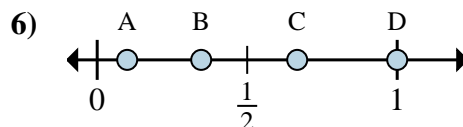
a. Welcher Buchstabe zeigt die richtige Lage von  $\frac{0}{2}$

b. Welcher Buchstabe zeigt die richtige Lage von  $\frac{2}{2}$



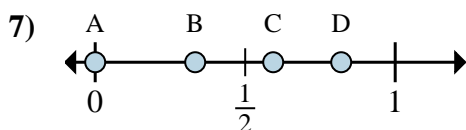
a. Welcher Buchstabe zeigt die richtige Lage von  $\frac{3}{6}$

b. Welcher Buchstabe zeigt die richtige Lage von  $\frac{1}{6}$



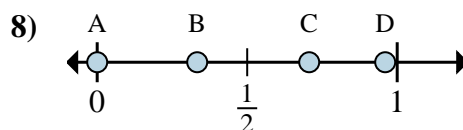
a. Welcher Buchstabe zeigt die richtige Lage von  $\frac{2}{3}$

b. Welcher Buchstabe zeigt die richtige Lage von  $\frac{3}{3}$



a. Welcher Buchstabe zeigt die richtige Lage von  $\frac{0}{3}$

b. Welcher Buchstabe zeigt die richtige Lage von  $\frac{1}{3}$



a. Welcher Buchstabe zeigt die richtige Lage von  $\frac{0}{6}$

b. Welcher Buchstabe zeigt die richtige Lage von  $\frac{2}{6}$

1. \_\_\_\_\_

2. \_\_\_\_\_

3. \_\_\_\_\_

4. \_\_\_\_\_

5. \_\_\_\_\_

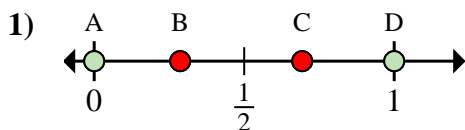
6. \_\_\_\_\_

7. \_\_\_\_\_

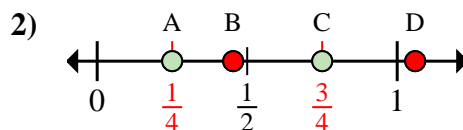
8. \_\_\_\_\_



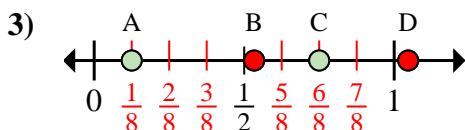
Stelle fest, welcher Buchstabe die richtige Lage auf dem Zahlenstrahl darstellt.

**Antworten**

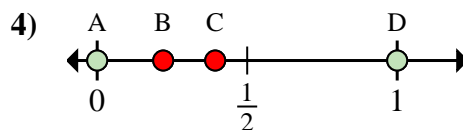
- a. Welcher Buchstabe zeigt die richtige Lage von  $\frac{0}{2}$
- b. Welcher Buchstabe zeigt die richtige Lage von  $\frac{2}{2}$



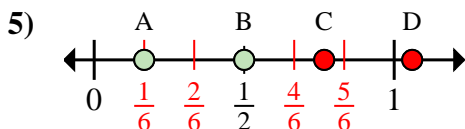
- a. Welcher Buchstabe zeigt die richtige Lage von  $\frac{1}{4}$
- b. Welcher Buchstabe zeigt die richtige Lage von  $\frac{3}{4}$



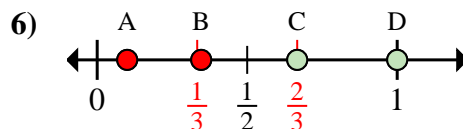
- a. Welcher Buchstabe zeigt die richtige Lage von  $\frac{6}{8}$
- b. Welcher Buchstabe zeigt die richtige Lage von  $\frac{1}{8}$



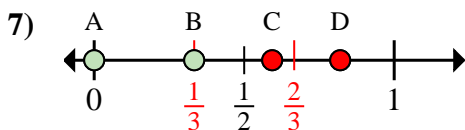
- a. Welcher Buchstabe zeigt die richtige Lage von  $\frac{0}{2}$
- b. Welcher Buchstabe zeigt die richtige Lage von  $\frac{2}{2}$



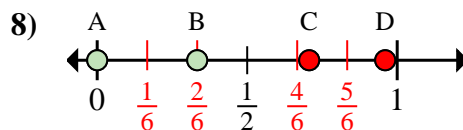
- a. Welcher Buchstabe zeigt die richtige Lage von  $\frac{3}{6}$
- b. Welcher Buchstabe zeigt die richtige Lage von  $\frac{1}{6}$



- a. Welcher Buchstabe zeigt die richtige Lage von  $\frac{2}{3}$
- b. Welcher Buchstabe zeigt die richtige Lage von  $\frac{3}{3}$



- a. Welcher Buchstabe zeigt die richtige Lage von  $\frac{0}{3}$
- b. Welcher Buchstabe zeigt die richtige Lage von  $\frac{1}{3}$



- a. Welcher Buchstabe zeigt die richtige Lage von  $\frac{0}{6}$
- b. Welcher Buchstabe zeigt die richtige Lage von  $\frac{2}{6}$

1. A D2. A C3. C A4. A D5. B A6. C D7. A B8. A B