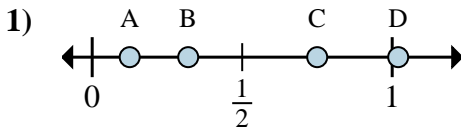
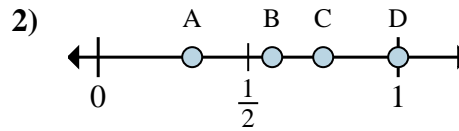




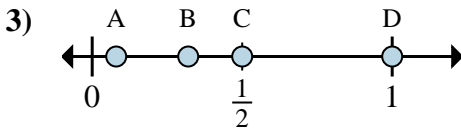
Stelle fest, welcher Buchstabe die richtige Lage auf dem Zahlenstrahl darstellt.

**Antworten**

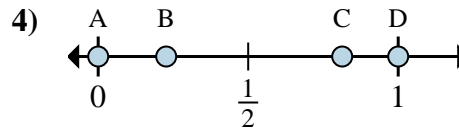
- a. Welcher Buchstabe zeigt die richtige Lage von  $\frac{1}{8}$
- b. Welcher Buchstabe zeigt die richtige Lage von  $\frac{6}{8}$



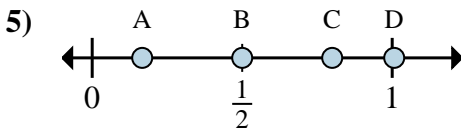
- a. Welcher Buchstabe zeigt die richtige Lage von  $\frac{3}{4}$
- b. Welcher Buchstabe zeigt die richtige Lage von  $\frac{4}{4}$



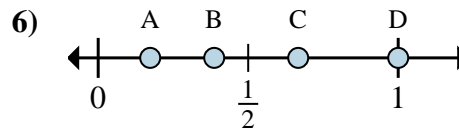
- a. Welcher Buchstabe zeigt die richtige Lage von  $\frac{8}{8}$
- b. Welcher Buchstabe zeigt die richtige Lage von  $\frac{4}{8}$



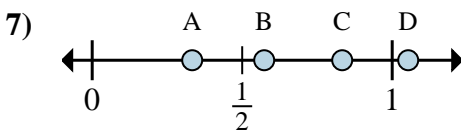
- a. Welcher Buchstabe zeigt die richtige Lage von  $\frac{0}{2}$
- b. Welcher Buchstabe zeigt die richtige Lage von  $\frac{2}{2}$



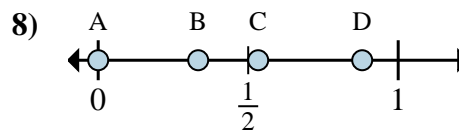
- a. Welcher Buchstabe zeigt die richtige Lage von  $\frac{1}{6}$
- b. Welcher Buchstabe zeigt die richtige Lage von  $\frac{3}{6}$



- a. Welcher Buchstabe zeigt die richtige Lage von  $\frac{2}{3}$
- b. Welcher Buchstabe zeigt die richtige Lage von  $\frac{3}{3}$



- a. Welcher Buchstabe zeigt die richtige Lage von  $\frac{5}{6}$
- b. Welcher Buchstabe zeigt die richtige Lage von  $\frac{2}{6}$

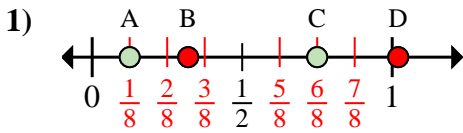


- a. Welcher Buchstabe zeigt die richtige Lage von  $\frac{0}{3}$
- b. Welcher Buchstabe zeigt die richtige Lage von  $\frac{1}{3}$

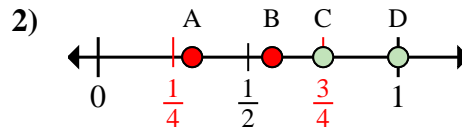
1. \_\_\_\_\_
2. \_\_\_\_\_
3. \_\_\_\_\_
4. \_\_\_\_\_
5. \_\_\_\_\_
6. \_\_\_\_\_
7. \_\_\_\_\_
8. \_\_\_\_\_



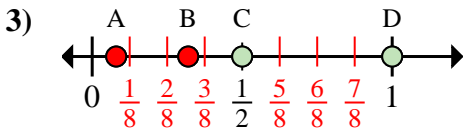
Stelle fest, welcher Buchstabe die richtige Lage auf dem Zahlenstrahl darstellt.

**Antworten**

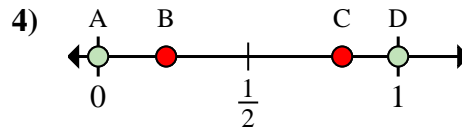
- a. Welcher Buchstabe zeigt die richtige Lage von  $\frac{1}{8}$
- b. Welcher Buchstabe zeigt die richtige Lage von  $\frac{6}{8}$



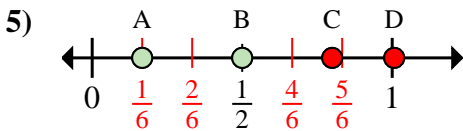
- a. Welcher Buchstabe zeigt die richtige Lage von  $\frac{3}{4}$
- b. Welcher Buchstabe zeigt die richtige Lage von  $\frac{4}{4}$



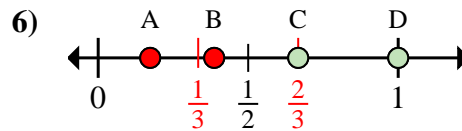
- a. Welcher Buchstabe zeigt die richtige Lage von  $\frac{8}{8}$
- b. Welcher Buchstabe zeigt die richtige Lage von  $\frac{4}{8}$



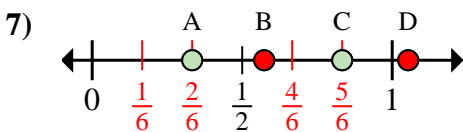
- a. Welcher Buchstabe zeigt die richtige Lage von  $\frac{0}{2}$
- b. Welcher Buchstabe zeigt die richtige Lage von  $\frac{2}{2}$



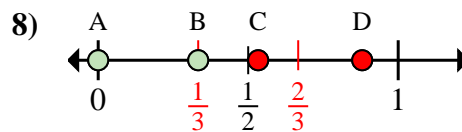
- a. Welcher Buchstabe zeigt die richtige Lage von  $\frac{1}{6}$
- b. Welcher Buchstabe zeigt die richtige Lage von  $\frac{3}{6}$



- a. Welcher Buchstabe zeigt die richtige Lage von  $\frac{2}{3}$
- b. Welcher Buchstabe zeigt die richtige Lage von  $\frac{3}{3}$



- a. Welcher Buchstabe zeigt die richtige Lage von  $\frac{5}{6}$
- b. Welcher Buchstabe zeigt die richtige Lage von  $\frac{2}{6}$



- a. Welcher Buchstabe zeigt die richtige Lage von  $\frac{0}{3}$
- b. Welcher Buchstabe zeigt die richtige Lage von  $\frac{1}{3}$

1. A C
2. C D
3. D C
4. A D
5. A B
6. C D
7. C A
8. A B