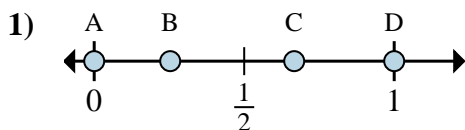


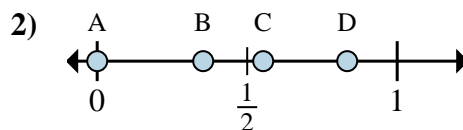


Stelle fest, welcher Buchstabe die richtige Lage auf dem Zahlenstrahl darstellt.

Antworten

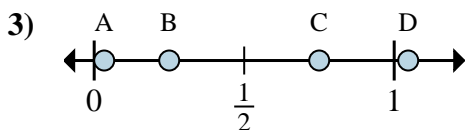
a. Welcher Buchstabe zeigt die richtige Lage von $\frac{0}{3}$

b. Welcher Buchstabe zeigt die richtige Lage von $\frac{2}{3}$



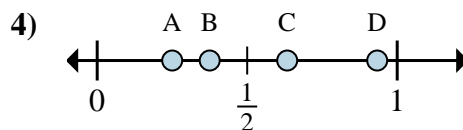
a. Welcher Buchstabe zeigt die richtige Lage von $\frac{0}{6}$

b. Welcher Buchstabe zeigt die richtige Lage von $\frac{5}{6}$



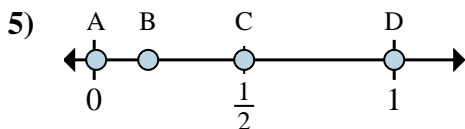
a. Welcher Buchstabe zeigt die richtige Lage von $\frac{3}{4}$

b. Welcher Buchstabe zeigt die richtige Lage von $\frac{1}{4}$



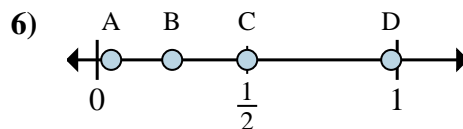
a. Welcher Buchstabe zeigt die richtige Lage von $\frac{2}{8}$

b. Welcher Buchstabe zeigt die richtige Lage von $\frac{3}{8}$



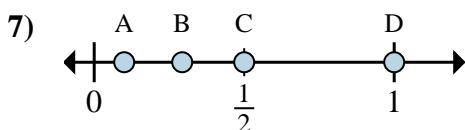
a. Welcher Buchstabe zeigt die richtige Lage von $\frac{2}{4}$

b. Welcher Buchstabe zeigt die richtige Lage von $\frac{4}{4}$



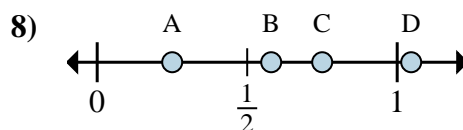
a. Welcher Buchstabe zeigt die richtige Lage von $\frac{1}{4}$

b. Welcher Buchstabe zeigt die richtige Lage von $\frac{2}{4}$



a. Welcher Buchstabe zeigt die richtige Lage von $\frac{1}{2}$

b. Welcher Buchstabe zeigt die richtige Lage von $\frac{2}{2}$



a. Welcher Buchstabe zeigt die richtige Lage von $\frac{1}{4}$

b. Welcher Buchstabe zeigt die richtige Lage von $\frac{3}{4}$

1. _____

2. _____

3. _____

4. _____

5. _____

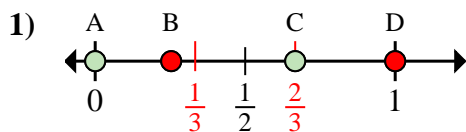
6. _____

7. _____

8. _____

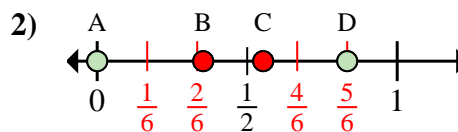


Stelle fest, welcher Buchstabe die richtige Lage auf dem Zahlenstrahl darstellt.

Antworten

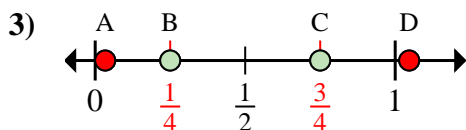
a. Welcher Buchstabe zeigt die richtige Lage von $\frac{0}{3}$

b. Welcher Buchstabe zeigt die richtige Lage von $\frac{2}{3}$



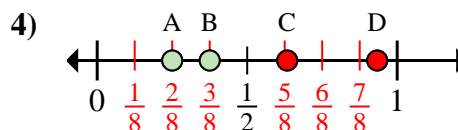
a. Welcher Buchstabe zeigt die richtige Lage von $\frac{0}{6}$

b. Welcher Buchstabe zeigt die richtige Lage von $\frac{5}{6}$



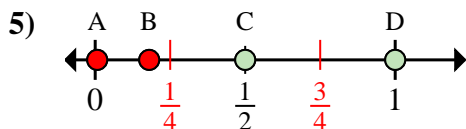
a. Welcher Buchstabe zeigt die richtige Lage von $\frac{3}{4}$

b. Welcher Buchstabe zeigt die richtige Lage von $\frac{1}{4}$



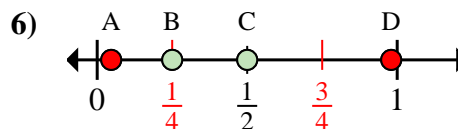
a. Welcher Buchstabe zeigt die richtige Lage von $\frac{2}{8}$

b. Welcher Buchstabe zeigt die richtige Lage von $\frac{3}{8}$



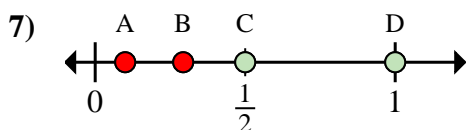
a. Welcher Buchstabe zeigt die richtige Lage von $\frac{2}{4}$

b. Welcher Buchstabe zeigt die richtige Lage von $\frac{4}{4}$



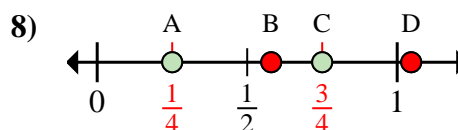
a. Welcher Buchstabe zeigt die richtige Lage von $\frac{1}{4}$

b. Welcher Buchstabe zeigt die richtige Lage von $\frac{2}{4}$



a. Welcher Buchstabe zeigt die richtige Lage von $\frac{1}{2}$

b. Welcher Buchstabe zeigt die richtige Lage von $\frac{2}{2}$



a. Welcher Buchstabe zeigt die richtige Lage von $\frac{1}{4}$

b. Welcher Buchstabe zeigt die richtige Lage von $\frac{3}{4}$

1. A C2. A D3. C B4. A B5. C D6. B C7. C D8. A C