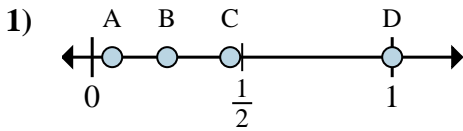
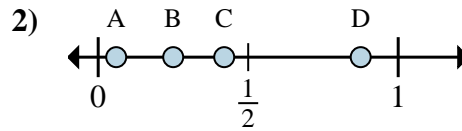




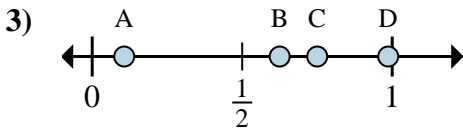
Stelle fest, welcher Buchstabe die richtige Lage auf dem Zahlenstrahl darstellt.

Antworten

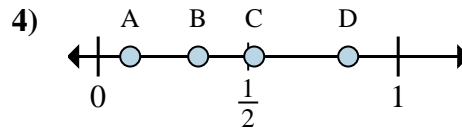
- a. Welcher Buchstabe zeigt die richtige Lage von $\frac{4}{4}$
 b. Welcher Buchstabe zeigt die richtige Lage von $\frac{1}{4}$



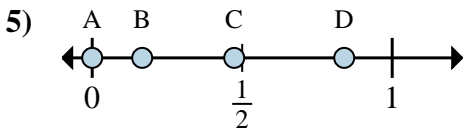
- a. Welcher Buchstabe zeigt die richtige Lage von $\frac{7}{8}$
 b. Welcher Buchstabe zeigt die richtige Lage von $\frac{2}{8}$



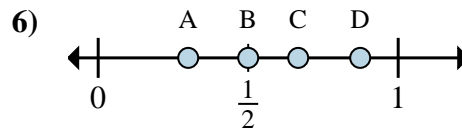
- a. Welcher Buchstabe zeigt die richtige Lage von $\frac{5}{8}$
 b. Welcher Buchstabe zeigt die richtige Lage von $\frac{6}{8}$



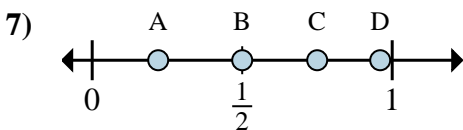
- a. Welcher Buchstabe zeigt die richtige Lage von $\frac{5}{6}$
 b. Welcher Buchstabe zeigt die richtige Lage von $\frac{2}{6}$



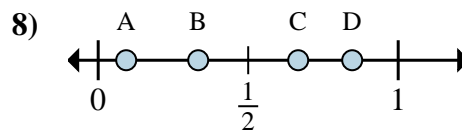
- a. Welcher Buchstabe zeigt die richtige Lage von $\frac{0}{6}$
 b. Welcher Buchstabe zeigt die richtige Lage von $\frac{1}{6}$



- a. Welcher Buchstabe zeigt die richtige Lage von $\frac{3}{6}$
 b. Welcher Buchstabe zeigt die richtige Lage von $\frac{4}{6}$



- a. Welcher Buchstabe zeigt die richtige Lage von $\frac{3}{4}$
 b. Welcher Buchstabe zeigt die richtige Lage von $\frac{2}{4}$



- a. Welcher Buchstabe zeigt die richtige Lage von $\frac{2}{3}$
 b. Welcher Buchstabe zeigt die richtige Lage von $\frac{1}{3}$

1. _____

2. _____

3. _____

4. _____

5. _____

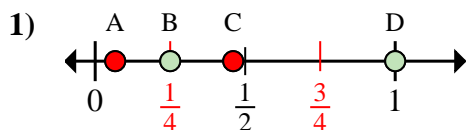
6. _____

7. _____

8. _____

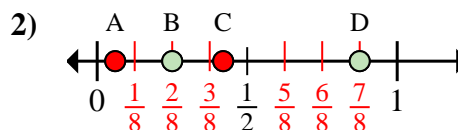


Stelle fest, welcher Buchstabe die richtige Lage auf dem Zahlenstrahl darstellt.

Antworten

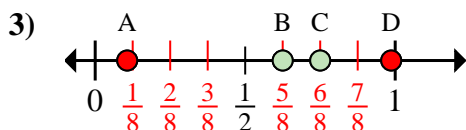
a. Welcher Buchstabe zeigt die richtige Lage von $\frac{4}{4}$

b. Welcher Buchstabe zeigt die richtige Lage von $\frac{1}{4}$



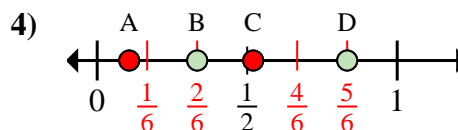
a. Welcher Buchstabe zeigt die richtige Lage von $\frac{7}{8}$

b. Welcher Buchstabe zeigt die richtige Lage von $\frac{2}{8}$



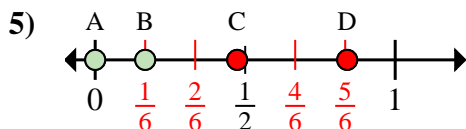
a. Welcher Buchstabe zeigt die richtige Lage von $\frac{5}{8}$

b. Welcher Buchstabe zeigt die richtige Lage von $\frac{6}{8}$



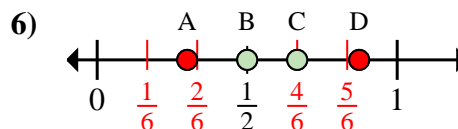
a. Welcher Buchstabe zeigt die richtige Lage von $\frac{5}{6}$

b. Welcher Buchstabe zeigt die richtige Lage von $\frac{2}{6}$



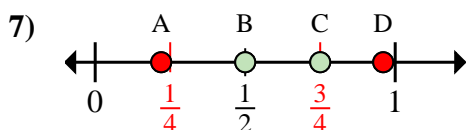
a. Welcher Buchstabe zeigt die richtige Lage von $\frac{0}{6}$

b. Welcher Buchstabe zeigt die richtige Lage von $\frac{1}{6}$



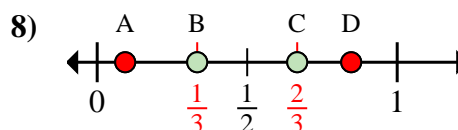
a. Welcher Buchstabe zeigt die richtige Lage von $\frac{3}{6}$

b. Welcher Buchstabe zeigt die richtige Lage von $\frac{4}{6}$



a. Welcher Buchstabe zeigt die richtige Lage von $\frac{3}{4}$

b. Welcher Buchstabe zeigt die richtige Lage von $\frac{2}{4}$



a. Welcher Buchstabe zeigt die richtige Lage von $\frac{2}{3}$

b. Welcher Buchstabe zeigt die richtige Lage von $\frac{1}{3}$

1. D B2. D B3. B C4. D B5. A B6. B C7. C B8. C B