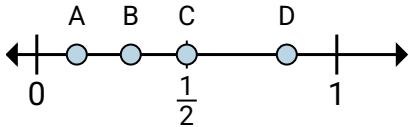


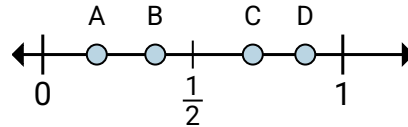
**Stelle fest, welcher Buchstabe die richtige Lage auf dem Zahlenstrahl darstellt.****Antworten**

1)



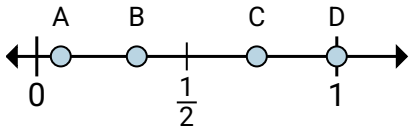
- a. Welcher Buchstabe zeigt $\frac{5}{6}$ am besten?
- b. Welcher Buchstabe zeigt $\frac{3}{6}$ am besten?

2)



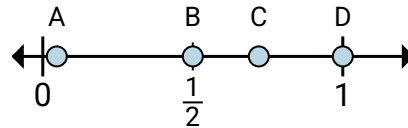
- a. Welcher Buchstabe zeigt $\frac{7}{8}$ am besten?
- b. Welcher Buchstabe zeigt $\frac{3}{8}$ am besten?

3)



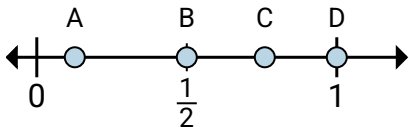
- a. Welcher Buchstabe zeigt $\frac{1}{3}$ am besten?
- b. Welcher Buchstabe zeigt $\frac{3}{3}$ am besten?

4)



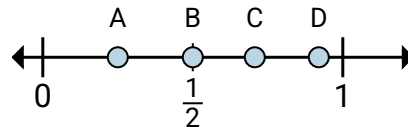
- a. Welcher Buchstabe zeigt $\frac{2}{2}$ am besten?
- b. Welcher Buchstabe zeigt $\frac{1}{2}$ am besten?

5)



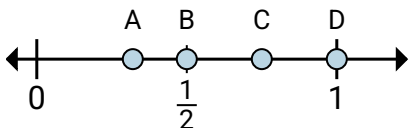
- a. Welcher Buchstabe zeigt $\frac{2}{2}$ am besten?
- b. Welcher Buchstabe zeigt $\frac{1}{2}$ am besten?

6)



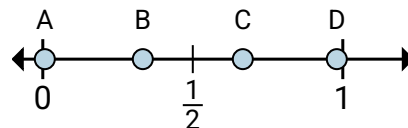
- a. Welcher Buchstabe zeigt $\frac{2}{4}$ am besten?
- b. Welcher Buchstabe zeigt $\frac{1}{4}$ am besten?

7)



- a. Welcher Buchstabe zeigt $\frac{4}{4}$ am besten?
- b. Welcher Buchstabe zeigt $\frac{3}{4}$ am besten?

8)



- a. Welcher Buchstabe zeigt $\frac{2}{6}$ am besten?
- b. Welcher Buchstabe zeigt $\frac{4}{6}$ am besten?

1. _____

2. _____

3. _____

4. _____

5. _____

6. _____

7. _____

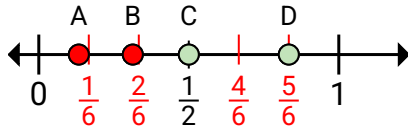
8. _____



Stelle fest, welcher Buchstabe die richtige Lage auf dem Zahlenstrahl darstellt.

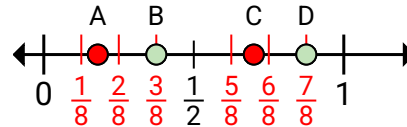
Antworten

1)



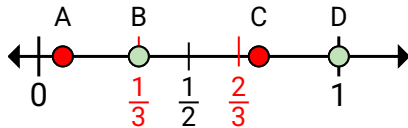
- a. Welcher Buchstabe zeigt $\frac{5}{6}$ am besten?
- b. Welcher Buchstabe zeigt $\frac{3}{6}$ am besten?

2)



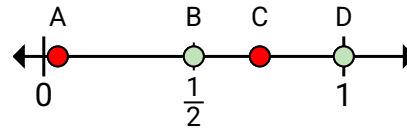
- a. Welcher Buchstabe zeigt $\frac{7}{8}$ am besten?
- b. Welcher Buchstabe zeigt $\frac{3}{8}$ am besten?

3)



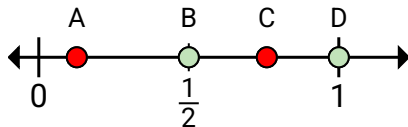
- a. Welcher Buchstabe zeigt $\frac{1}{3}$ am besten?
- b. Welcher Buchstabe zeigt $\frac{3}{3}$ am besten?

4)



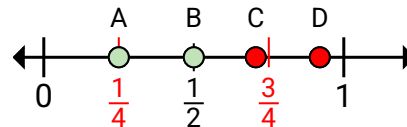
- a. Welcher Buchstabe zeigt $\frac{2}{2}$ am besten?
- b. Welcher Buchstabe zeigt $\frac{1}{2}$ am besten?

5)



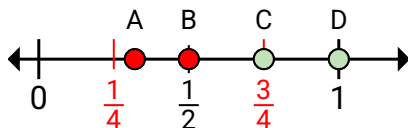
- a. Welcher Buchstabe zeigt $\frac{2}{2}$ am besten?
- b. Welcher Buchstabe zeigt $\frac{1}{2}$ am besten?

6)



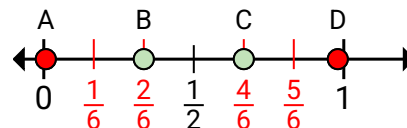
- a. Welcher Buchstabe zeigt $\frac{2}{4}$ am besten?
- b. Welcher Buchstabe zeigt $\frac{1}{4}$ am besten?

7)



- a. Welcher Buchstabe zeigt $\frac{4}{4}$ am besten?
- b. Welcher Buchstabe zeigt $\frac{3}{4}$ am besten?

8)



- a. Welcher Buchstabe zeigt $\frac{2}{6}$ am besten?
- b. Welcher Buchstabe zeigt $\frac{4}{6}$ am besten?

1. **D** **C**2. **D** **B**3. **B** **D**4. **D** **B**5. **D** **B**6. **B** **A**7. **D** **C**8. **B** **C**