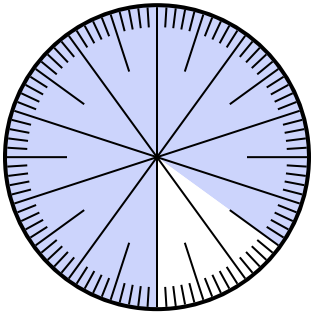




Löse jede Aufgabe.

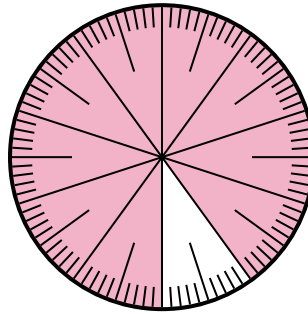
Antworten

1) Welche Auswahl steht für den schattierten Teil des Zahlenrads?



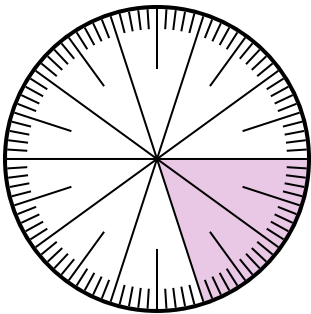
- A. 1,50 B. $\frac{85}{100}$
 C. 0,085 D. $\frac{1.5}{100}$

2) Welche Auswahl steht für den schattierten Teil des Zahlenrads?



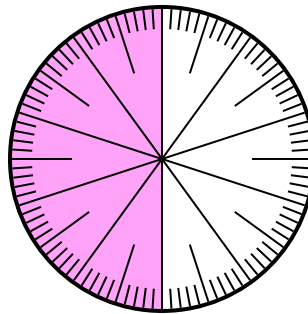
- A. $\frac{90}{100}$ B. 0,01
 C. $\frac{10}{90}$ D. 0,090

3) Welche Auswahl steht für den schattierten Teil des Zahlenrads?




- A. 0,0020 B. $\frac{20}{100}$
 C. 80,0 D. 0,008

4) Welche Auswahl steht für den schattierten Teil des Zahlenrads?



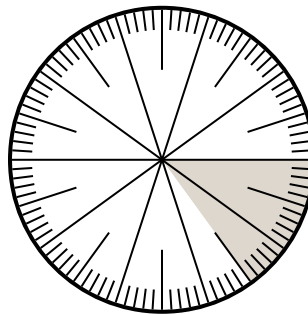
- A. $\frac{50}{50}$ B. 0,50
 C. 0,050 D. $\frac{5,00}{100}$

5) Which choice represents the un-shaded portion of the number wheel?



- A. $\frac{55}{45}$ B. $\frac{45}{100}$
 C. 5,50 D. 5,5

6) Which choice represents the un-shaded portion of the number wheel?



- A. $\frac{85}{15}$ B. 8,50
 C. $\frac{85}{100}$ D. 8.5

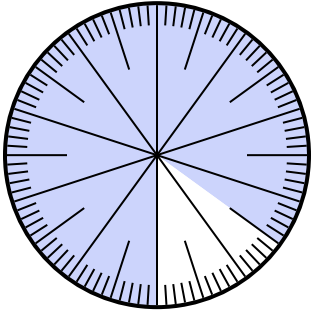
1. _____
 2. _____
 3. _____
 4. _____
 5. _____
 6. _____



Löse jede Aufgabe.

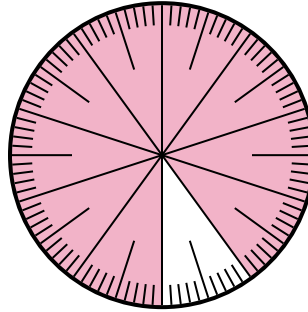
Antworten

- 1) Welche Auswahl steht für den schattierten Teil des Zahlenrads?



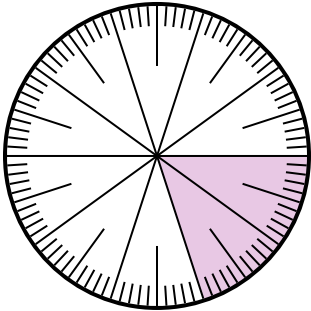
- A. 1,50 B. $\frac{85}{100}$
C. 0,085 D. $\frac{1.5}{100}$

- 2) Welche Auswahl steht für den schattierten Teil des Zahlenrads?



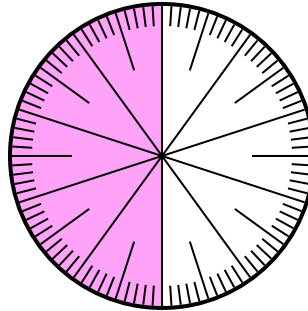
- A. $\frac{90}{100}$ B. 0,01
C. $\frac{10}{90}$ D. 0,090

- 3) Welche Auswahl steht für den schattierten Teil des Zahlenrads?




- A. 0,0020 B. $\frac{20}{100}$
C. 80,0 D. 0,008

- 4) Welche Auswahl steht für den schattierten Teil des Zahlenrads?



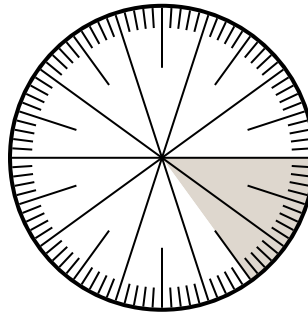
- A. $\frac{50}{50}$ B. 0,50
C. 0,050 D. $\frac{5,00}{100}$

- 5) Which choice represents the un-shaded portion of the number wheel?



- A. $\frac{55}{45}$ B. $\frac{45}{100}$
C. 5,50 D. 5,5

- 6) Which choice represents the un-shaded portion of the number wheel?



- A. $\frac{85}{15}$ B. 8,50
C. $\frac{85}{100}$ D. 8.5

1. **B**
2. **A**
3. **B**
4. **B**
5. **B**
6. **C**