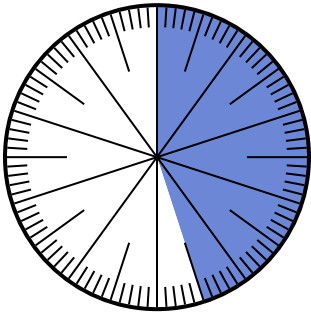




Löse jede Aufgabe.

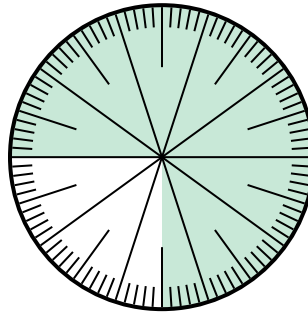
Antworten

1) Welche Auswahl steht für den schattierten Teil des Zahlenrads?



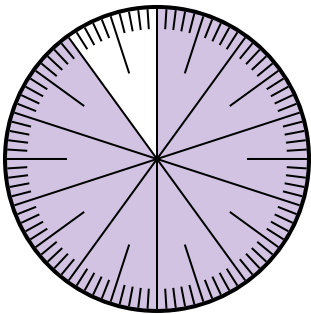
- A. $\frac{45}{100}$
- B. $\frac{55}{45}$
- C. $\frac{45}{55}$
- D. $\frac{4.5}{100}$

2) Welche Auswahl steht für den schattierten Teil des Zahlenrads?



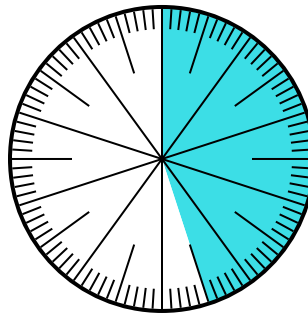
- A. $\frac{0.75}{100}$
- B. 0,75
- C. $\frac{7.50}{100}$
- D. $\frac{7.5}{100}$

3) Welche Auswahl steht für den schattierten Teil des Zahlenrads?



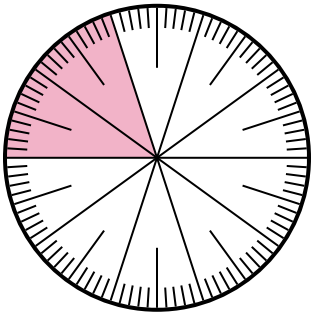
- A. 90
- B. 0,090
- C. $\frac{90}{100}$
- D. $\frac{9}{100}$

4) Which choice represents the un-shaded portion of the number wheel?



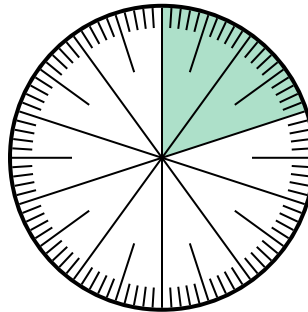
- A. 5.5
- B. 55
- C. $\frac{5.5}{100}$
- D. $\frac{55}{100}$

5) Which choice represents the un-shaded portion of the number wheel?



- A. $\frac{20}{80}$
- B. 0,80
- C. $\frac{8}{100}$
- D. 8

6) Which choice represents the un-shaded portion of the number wheel?



- A. 80
- B. 8
- C. $\frac{0.8}{100}$
- D. $\frac{80}{100}$

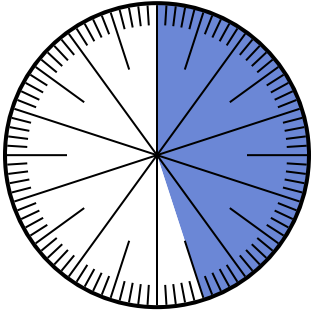
- 1. _____
- 2. _____
- 3. _____
- 4. _____
- 5. _____
- 6. _____



Löse jede Aufgabe.

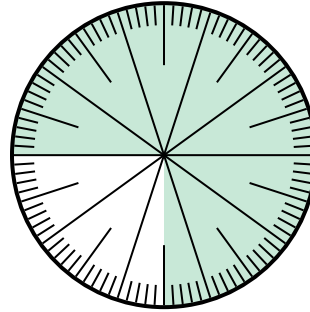
Antworten

1) Welche Auswahl steht für den schattierten Teil des Zahlenrads?



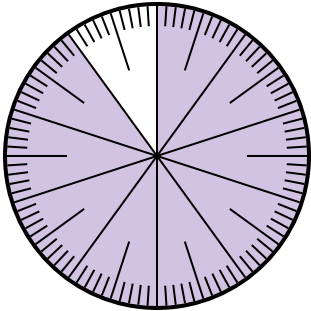
- A. $\frac{45}{100}$
- B. $\frac{55}{45}$
- C. $\frac{45}{55}$
- D. $\frac{4.5}{100}$

2) Welche Auswahl steht für den schattierten Teil des Zahlenrads?



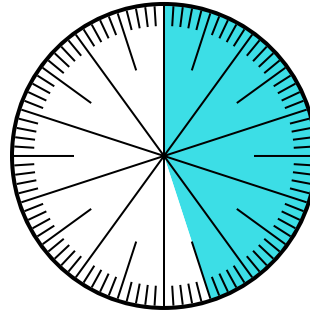
- A. $\frac{0.75}{100}$
- B. 0,75
- C. $\frac{7.50}{100}$
- D. $\frac{7.5}{100}$

3) Welche Auswahl steht für den schattierten Teil des Zahlenrads?



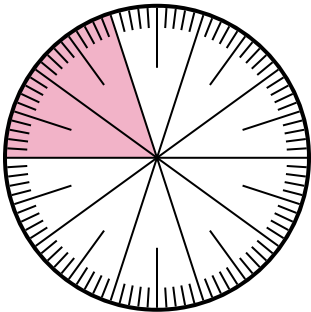
- A. 90
- B. 0,090
- C. $\frac{90}{100}$
- D. $\frac{9}{100}$

4) Which choice represents the un-shaded portion of the number wheel?



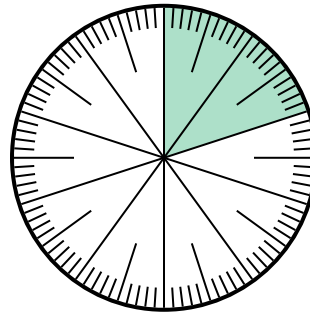
- A. 5.5
- B. 55
- C. $\frac{5.5}{100}$
- D. $\frac{55}{100}$

5) Which choice represents the un-shaded portion of the number wheel?



- A. $\frac{20}{80}$
- B. 0,80
- C. $\frac{8}{100}$
- D. 8

6) Which choice represents the un-shaded portion of the number wheel?



- A. 80
- B. 8
- C. $\frac{0.8}{100}$
- D. $\frac{80}{100}$

- 1. **A**
- 2. **B**
- 3. **C**
- 4. **D**
- 5. **B**
- 6. **D**