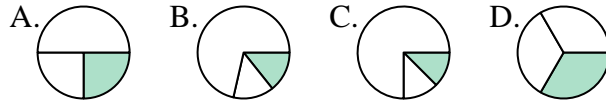




Stelle fest, welcher Buchstabe jeden Bruch darstellt.

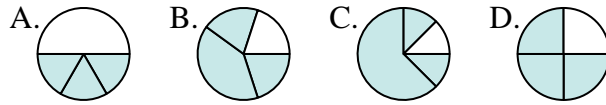
Antworten

1) Durch welche Möglichkeit wird $\frac{1}{3}$ dargestellt?



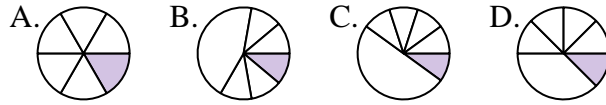
1. _____

2) Durch welche Möglichkeit wird $\frac{3}{4}$ dargestellt?



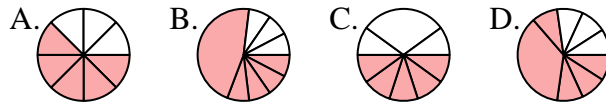
2. _____

3) Durch welche Möglichkeit wird $\frac{1}{6}$ dargestellt?



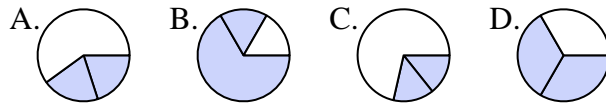
4. _____

4) Durch welche Möglichkeit wird $\frac{5}{8}$ dargestellt?



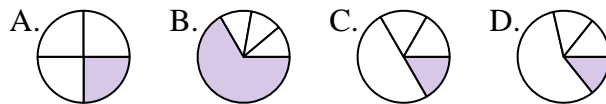
5. _____

5) Durch welche Möglichkeit wird $\frac{2}{3}$ dargestellt?



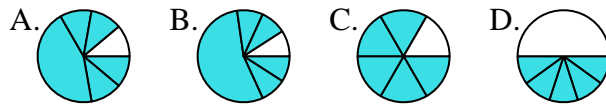
6. _____

6) Durch welche Möglichkeit wird $\frac{1}{4}$ dargestellt?



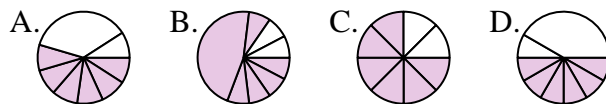
7. _____

7) Durch welche Möglichkeit wird $\frac{5}{6}$ dargestellt?



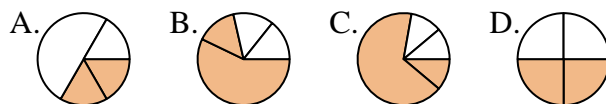
8. _____

8) Durch welche Möglichkeit wird $\frac{6}{8}$ dargestellt?



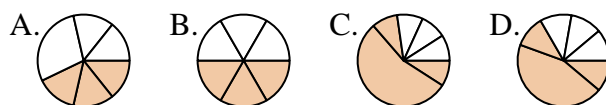
9. _____

9) Durch welche Möglichkeit wird $\frac{2}{4}$ dargestellt?



10. _____

10) Durch welche Möglichkeit wird $\frac{3}{6}$ dargestellt?



11. _____

11) Durch welche Möglichkeit wird $\frac{2}{8}$ dargestellt?



12) Durch welche Möglichkeit wird $\frac{4}{6}$ dargestellt?



