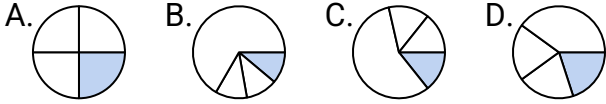
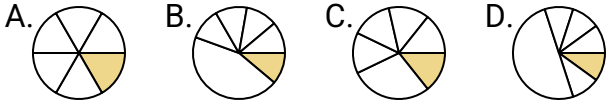
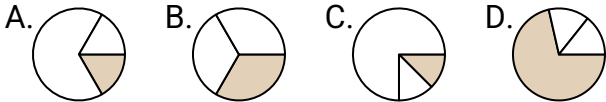
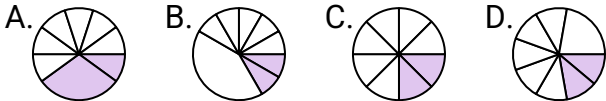
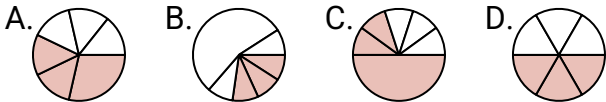
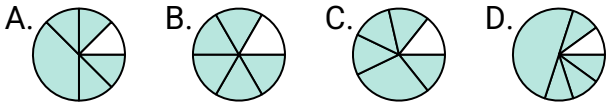
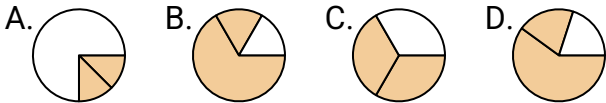
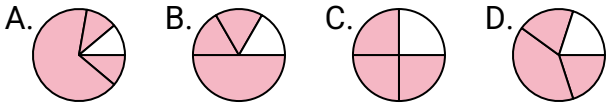
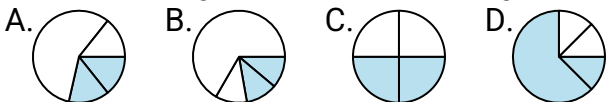
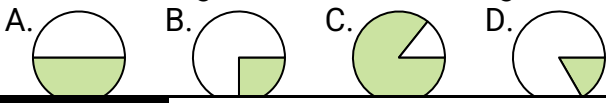


**Stelle fest, welcher Buchstabe jeden Bruch darstellt.****Antworten**1) Durch welche Möglichkeit wird $\frac{1}{4}$ dargestellt?2) Durch welche Möglichkeit wird $\frac{1}{6}$ dargestellt?3) Durch welche Möglichkeit wird $\frac{7}{8}$ dargestellt?4) Durch welche Möglichkeit wird $\frac{1}{3}$ dargestellt?5) Durch welche Möglichkeit wird $\frac{2}{8}$ dargestellt?6) Durch welche Möglichkeit wird $\frac{3}{6}$ dargestellt?7) Durch welche Möglichkeit wird $\frac{5}{6}$ dargestellt?8) Durch welche Möglichkeit wird $\frac{2}{3}$ dargestellt?9) Durch welche Möglichkeit wird $\frac{3}{4}$ dargestellt?10) Durch welche Möglichkeit wird $\frac{2}{4}$ dargestellt?11) Durch welche Möglichkeit wird $\frac{1}{2}$ dargestellt?

1. _____

2. _____

3. _____

4. _____

5. _____

6. _____

7. _____

8. _____

9. _____

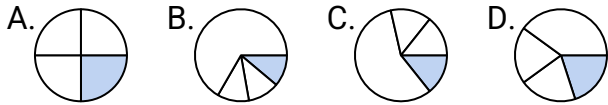
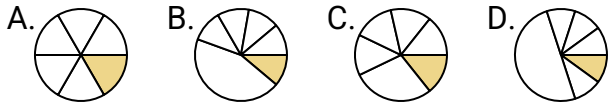
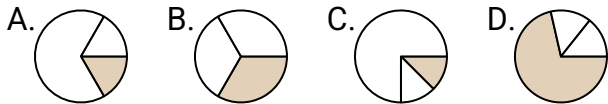
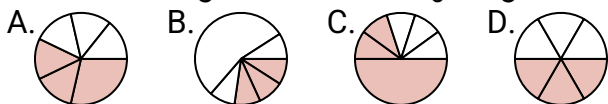
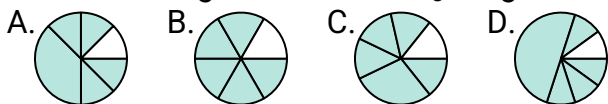
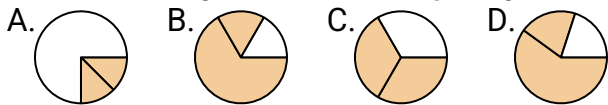
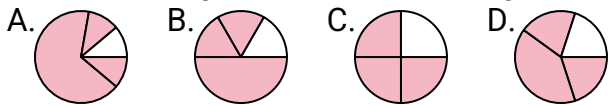
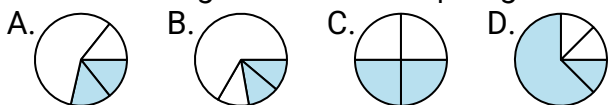
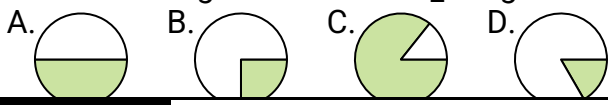
10. _____

11. _____

12. _____



Stelle fest, welcher Buchstabe jeden Bruch darstellt.

Antworten1) Durch welche Möglichkeit wird $\frac{1}{4}$ dargestellt?1. **A**2) Durch welche Möglichkeit wird $\frac{1}{6}$ dargestellt?2. **A**3) Durch welche Möglichkeit wird $\frac{7}{8}$ dargestellt?3. **A**4) Durch welche Möglichkeit wird $\frac{1}{3}$ dargestellt?4. **B**5) Durch welche Möglichkeit wird $\frac{2}{8}$ dargestellt?5. **C**6) Durch welche Möglichkeit wird $\frac{3}{6}$ dargestellt?6. **D**7) Durch welche Möglichkeit wird $\frac{5}{6}$ dargestellt?7. **B**8) Durch welche Möglichkeit wird $\frac{2}{3}$ dargestellt?8. **C**9) Durch welche Möglichkeit wird $\frac{3}{4}$ dargestellt?9. **C**10) Durch welche Möglichkeit wird $\frac{2}{4}$ dargestellt?10. **C**11) Durch welche Möglichkeit wird $\frac{1}{2}$ dargestellt?11. **A**12. **B**