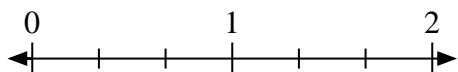


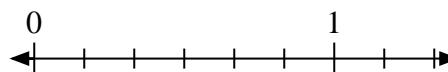


Löse jede Aufgabe.

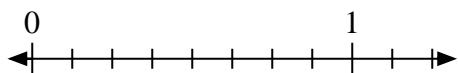
- 1) Schreiben Sie
- $\frac{1}{3}$
- als ganze Zahl.



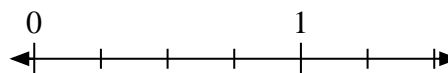
- 2) Schreiben Sie
- $\frac{2}{6}$
- als ganze Zahl.



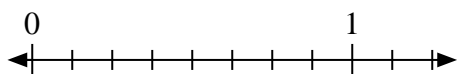
- 3) Schreiben Sie
- $\frac{6}{8}$
- als ganze Zahl.




- 4) Schreiben Sie
- $\frac{2}{4}$
- als ganze Zahl.



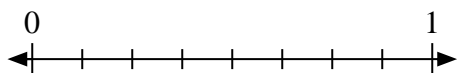
- 5) Schreiben Sie
- $\frac{4}{8}$
- als ganze Zahl.



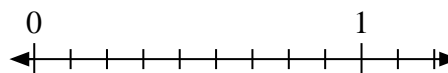
- 6) Schreiben Sie
- $\frac{0}{2}$
- als ganze Zahl.



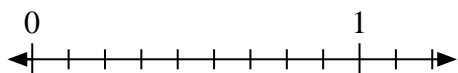
- 7) Schreiben Sie
- $\frac{8}{8}$
- als ganze Zahl.



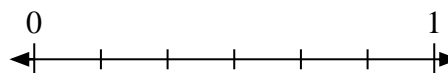
- 8) Schreiben Sie
- $\frac{8}{9}$
- als ganze Zahl.



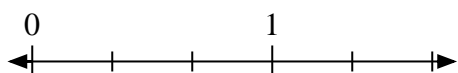
- 9) Schreiben Sie
- $\frac{9}{9}$
- als ganze Zahl.



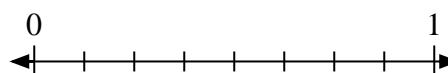
- 10) Schreiben Sie
- $\frac{4}{6}$
- als ganze Zahl.



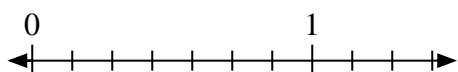
- 11) Schreiben Sie
- $\frac{3}{3}$
- als ganze Zahl.



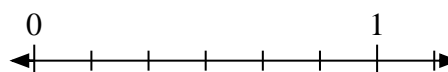
- 12) Schreiben Sie
- $\frac{2}{8}$
- als ganze Zahl.



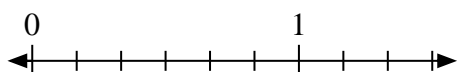
- 13) Schreiben Sie
- $\frac{0}{7}$
- als ganze Zahl.




- 14) Schreiben Sie
- $\frac{3}{6}$
- als ganze Zahl.



- 15) Schreiben Sie
- $\frac{1}{6}$
- als ganze Zahl.



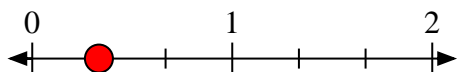
- 16) Schreiben Sie
- $\frac{2}{2}$
- als ganze Zahl.



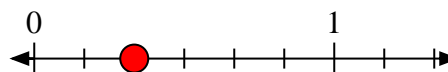


Löse jede Aufgabe.

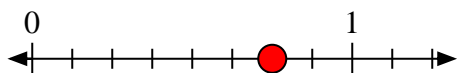
- 1) Schreiben Sie
- $\frac{1}{3}$
- als ganze Zahl.



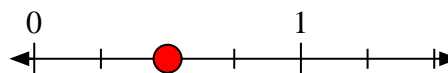
- 2) Schreiben Sie
- $\frac{2}{6}$
- als ganze Zahl.



- 3) Schreiben Sie
- $\frac{6}{8}$
- als ganze Zahl.




- 4) Schreiben Sie
- $\frac{2}{4}$
- als ganze Zahl.



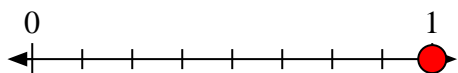
- 5) Schreiben Sie
- $\frac{4}{8}$
- als ganze Zahl.



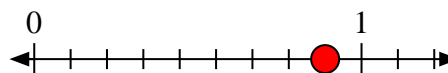
- 6) Schreiben Sie
- $\frac{0}{2}$
- als ganze Zahl.



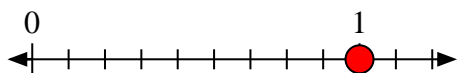
- 7) Schreiben Sie
- $\frac{8}{8}$
- als ganze Zahl.



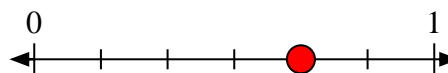
- 8) Schreiben Sie
- $\frac{8}{9}$
- als ganze Zahl.



- 9) Schreiben Sie
- $\frac{9}{9}$
- als ganze Zahl.



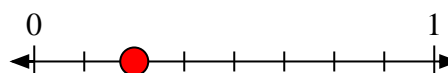
- 10) Schreiben Sie
- $\frac{4}{6}$
- als ganze Zahl.



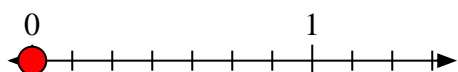
- 11) Schreiben Sie
- $\frac{3}{3}$
- als ganze Zahl.



- 12) Schreiben Sie
- $\frac{2}{8}$
- als ganze Zahl.



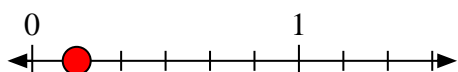
- 13) Schreiben Sie
- $\frac{0}{7}$
- als ganze Zahl.



- 14) Schreiben Sie
- $\frac{3}{6}$
- als ganze Zahl.



- 15) Schreiben Sie
- $\frac{1}{6}$
- als ganze Zahl.



- 16) Schreiben Sie
- $\frac{2}{2}$
- als ganze Zahl.

